

TNPSC GROUP I PRELIMS

MODEL TEST -2

28/12/2020

NOTE THIS QUESTION STANDARD BASED ON THE MODEL QUESTION PAPER WHICH WAS RELEASED LAST YEAR. THIS IS EXPECTED PATTERN ONLY, IT MAY OR MAY NOT BE A AUTHENTICATED STANDARD OR PATTERN.

IYACHAMY ACADEMY NO , 172, GROUD FLOOR THIRUGNANASAMBANDAR STREET THIRUVALEESWARAR NAGAR THIRUMANGALAM ANNA NAGAR WEST CHENNAI - 40 9952521550	IYACHAMY ACADEMY SECOND FLOOR, JENITH OPTICAL UPSTAIRS OPPOSITE TO VOC GROUND PALAYAMKOTTAI TIRUNELVELI 7338884555	IYACHAMY ACADEMY KRISHNA BAKKERY UPSTAIRS SWAMY SANNATHI TENKASI 9786947055
---	---	--

WISH YOU ALL THE BEST

JOIN OUR TELEGRAM: <https://t.me/iyachamyacademy>

WWW.IYACHAMYACADEMY.COM



1. List out the Following Food Digestion Process in Correct order and Mark it

a) Ingestion b) absorption c) digestion d) assimilation

A) I,II,III,IV B) II ,III,I,IV C) I,III,II,IV D) I,II,III,IV

உணவு செரித்தல் முறையினை முறையாக வரிசைப்படுத்தவும்

a) உட்கொள்ளுதல் b) உட்கிரகித்தல் c) செரித்தல் d) தன்மயமாக்குதல்

2. Consider the Following Statement and choose the incorrect one

- a) Sex chromosomes are of two types, these are named as X. and Y chromosomes.
- b) a woman has two 'X' chromosomes (XX) and male has one 'X' and one Y chromosome (XY), in their cells.
- c) During gamete formation the number of chromosomes is reduced into 25.
- d) All the cells contain 23 pairs of chromosomes

கீழ்க்கண்ட வாக்கியங்களைப்படித்து சரியற்ற விடையைத் தேர்ந்தெடுக்க

- a) பால் குரோமோசோம்கள் இருவகைப்படும் , அவை எக்ஸ், மற்றும் ஓய்
- b) பெண்கள் தம் உடலில் இரு எக்ஸ் குரோமோசோம்களையும் ஆண்கள் எக்ஸ் மற்றும் ஓய் குரோமோசோம்களையும் கொண்டுள்ளனர்.
- c) இனப்பெருக்கச் செல்கள் உற்பத்தி ஆகும்போது குரோமோசோம்களின் எண்ணிக்கை 25 ஆக குறைந்து விடும்
- d) ஒவ்வொரு செல்லும் 23 ஜோடிக்குரோமோசோம்களைக் கொண்டுருக்கும்

3. Car brakes working based on which principle ?

- a) Pascal's Law b) Newton's Law c) Bernouli theorem d) none of the above

காரின் தடை அமைப்பு எதனடிப்படையில் செயல்படுகிறது?

- a) பாஸ்கல் விதி b) நியூட்டன் விதி c) பெர்னௌலி தேற்றம் d) ஏதுமில்லை

4. Consider the Following statement regarding coal a

- I. Peat is the first stage of coal. It is the most inferior variety of coal which contains 10-15% of carbon
- II. Lignite is brown in colour. It contains 25-35% of carbon.
- III. Bituminous coal. It is also called soft coal. It contains 45-86% of carbon



IV. Anthracite coal It is also called hard coal. It contains 100 % carbon.

Choose the correct code given below

- a) I,II,IV are Correct b) II only Correct c) I,II,III are correct d) I,II,III,IV are correct

நிலக்கரியோடு தொடர்புடைய கூற்றுக்கறை வைத்து சரியான விடையை தேர்ந்தெடு

- a) பீட் என்பது முதல் நிலை நிலக்கரி இதில் 10 % முதல் 15 % வரை கார்பன் காணப்படுகிறது.
b) லிக்டைன் பழுப்பு நிறத்தில் காணப்படும், இதில் 25 லிருந்து 35 % சதவீதம் கார்பன் காணப்படுகிறது
c) பிட்டுமினஸ் , இது மென்மையான நிலக்கறி எனவும் அழைக்கப்படுகிறது, இது 45 முதல் 86 % கார்பன் காணப்படுகிறது
d) ஆந்திரசைட் கடின நிலக்கரி என அழைக்கப்படுகிறது இதில் 100 % கார்பன் காணப்படுகிறது
a) 1,2,4 சரி b) 2 மட்டும் சரி c) 1,2,3 சரி d) அனைத்தும் சரி

5. Pinocytosis refers to

- a) Substances are taken up in liquid form
b) Substances are taken up in solid form
c) Cells which involve in this process are called phagocytes
d) None of the above

பினோசைட்டோஸிஸ் என்பது எதனைக் குறிக்கிறது.

- a) பொருள்கள் செல்லினுள் திரவ வடிவில் எடுத்துக் கொள்ளப்படும் நிகழ்ச்சியாகும்.
b) பொருள்கள் செல்லினுள் திட வடிவில் எடுத்துக் கொள்ளப்படும் நிகழ்ச்சியாகும்.வது
c) செல்களை விழுங்குவது பேகோசைட்டிஸ் என அழைக்கப்படுகிறது
d) மேற்கண்ட எதுவுமில்லை

6. Consider the Following Statement regarding Pancreas and choose the correct answer

- I. The pancreas is a long, leaf-shaped gland located just below the stomach.
II. The pancreas acts both as an exocrine gland only
III. The islets of Langerhans are endocrine cells, in which α cells secrete glucagon hormone and β cells secrete insulin.

Choose the Correct code

- a) I only b) I,III only c) III only d) All of the above

கணையத்தைப் பற்றிய கீழ்க்கண்ட கூற்றுக்களை ஆராய்ந்து சரியான விடையைத் தேர்ந்தெடு



IYACHAMY ACADEMY

(Associated With www.iyachamy.com)
Institution For Competitive Exam

- I. கணையம் நீளமான, இலை போன்ற சுரப்பி. இது இரைப்பைக்கு சற்று கீழே அமைந்துள்ளது.
- II. கணையம், நாளமில்லாச் சுரப்பியாக மட்டும் வேலை செய்கிறது.
- III. இதன் மேற்புறத்தில் லாங்கர்கான் திட்டுகள் காணப்படுகின்றன. இதில் உள்ள ஆல்பா செல்கள், குளுக்கோகான் என்ற ஹார்மோனையும், பீட்டா செல்கள், இன்சலின் என்ற ஹார்மோனையும் சுரக்கின்றன

சரியான குறியீட்டை தேர்ந்தெடு

- a) 1 மட்டும் b) 1 மற்றும் 3 c) 3 மட்டும் d) மேற்கண்ட அனைத்தும்

7. Consider the following statements

- I. Light waves can travel in Vacuum
- II. Light waves can be refracted
- III. Light waves are electromagnetic

Choose the correct code

- a) 1,2,3 b) 2,3 c) 1,3 d) 1 & 2

கீழ்க்கண்ட கூற்றுகளை ஆராய்க

- I. ஒளி அலைகள் வெற்றிடத்தில் பரவும்
- II. ஒளி அலைகள் ஒளி விலகலையும்
- III. ஒளி அலைகள் மின்காந்த அலைகள் ஆகும்

சரியான ஒன்றைத் தேர்ந்தெடு

- a) 1,2,3 b) 2,3 c) 1,3 d) 1 & 2

8. The correct ascending order of distance of planets from sun is

- a) Mars, Earth, Jupiter, Saturn
- b) Earth, Mars, Jupiter, Saturn
- c) Earth, Mars, Saturn, Jupiter
- d) Earth, Jupiter, Mars, Saturn

சூரியனில் இருந்து கோள்களின் தூரத்தை சரியான ஏறுவரிசையில் எழுதுக

- a) செவ்வாய், புனி, வியாழன், சனி
- b) புனி , செவ்வாய், வியாழன் , சனி
- c) புனி, செவ்வாய், சனி, வியாழன்
- d) புனி, வியாழன் , செவ்வாய் , சனி



IYACHAMY ACADEMY

(Associated With www.iyachamy.com)
Institution For Competitive Exam

9. Which one of the following diseases are from Bacteria?

- I.Pneumonia II.Tetanus III.Tuberculosis IV. Anthrax
A) I,II,III only B) IV only C) III only D) All the above

கீழ்க்கண்டவற்றுள் பாக்டீரியாவினால் ஏற்படும் நோய்கள்

- I) நிமோனியா II) டெட்டனஸ் III) காச நோய் IV)ஆந்தராக்ஸ்
a) 1,2,3 b) 4 மட்டும் c) 3 மட்டும் d) அனைத்தும்

10. Match List I with II

- | List | List |
|--------------|------------------|
| a) Pituitary | - Insulin |
| b) Thyroid | - Adrenalin |
| c) Pancreas | - Growth hormone |
| d) Adrenal | - Adrenal |

பட்டியல் 1 ஐ பட்டியல் 2 உடன் இணைக்கவும்

பட்டியல் - 1

பட்டியல்- 2

- | | |
|----------------|---------------------|
| a) பிட்யூட்டரி | - இன்சலின் |
| b) தைராய்டு | - அட்ரீனலின் |
| c) கணையம் | - வளர்ச்சி ஹார்மோன் |
| d) அட்ரீனல் | - அட்ரீனல் |

	A	B	C	D
a)	4	3	2	1
b)	3	4	1	2
c)	2	1	3	4
d)	4	1	3	2

11. Which of the following persons has recently been conferred with Prof. P. C.

Mahalanobis Lifetime Achievement Award in Official Statistics 2020?

- a) Dr. Bimal Jalan b) Prof. Raj Chetty
c) Siddhanta Mukherjee d) Dr. C. Rangarajan

கீழ்க்கண்டவர்களுள் மகலோனாபிஸ் வாழ்ணாள் சாதனையாளர் விருது 2020 ஆம் ஆண்டு யாருக்கு வழங்கப்பட்டது ,

- a) பைமல் ஜலான் c) பேராசியர் ராஜ் செட்டி



b) சித்தார்த்த முகர்சி

d) டாக்டர் சி ரங்கராஜன்

12. Who appointed as Permanent Representative of India to the United Nations and other international organizations in Geneva?

a) Rajiv Kumar Chander

b) Indra Mani Pandey

c) Syed Akbaruddin

d) Taranjit Singh Sandhu

ஐக்கிய நாடுகள் சபையில் இந்தியாவுக்கான நிரந்தர தூதராக நியமிக்கப்பட்டவர் யார்

a) ராஜிவ் குமார் சந்தர்

b) இந்திரா மனி பாண்டே

c) சையத் அக்பருதின்

d) தாரசிங் சந்து

13. Consider the following statements about the recent ban of mobile apps by Indian Government.

I. The ban was imposed by Ministry of Defence

II. These apps were banned due to their activities which are prejudicial to sovereignty and integrity of India, defence of India, security of state and public order.

Which of the above statements is/are correct?

a) Only I

b) Only II

c) Both I and II

d) Neither I nor II

சமீபத்தில் இந்திய அரசால் தடைசெய்யப்பட்ட செயலிகள் தொடர்பான கூற்றை கருத்தில் கொள்க

I. இந்தத் தடை பாதுகாப்பு அமைச்சகத்தால் விதிக்கப்பட்டது

II. இந்தியாவின் இறையாண்மை மற்றும் ஒருமைப்பாடு, இந்தியாவின் பாதுகாப்பு, அரசின் பாதுகாப்பு மற்றும் பொது ஒழுங்கின் பாரபட்சமற்ற செயல்கள் காரணமாக இந்த பயன்பாட்டு செயலிகள் தடை செய்யப்பட்டன.

சரியான கூற்றைத் தேர்ந்தெடு

a) 1 மட்டும்

b) 2 மட்டும்

c) 1 மற்றும் 2

d) இரண்டும் இல்லை

14. Which of the following becomes the first Indian state having 100% Household with LPG connections?

a) Uttarakhand

b) Bihar

c) Assam

d) Himachal Pradesh



கீழ்க்கண்டவற்றுள் எந்த மாநிலம் அனைத்து வீடுகளுக்கும் 100 சதவீத எல் பி ஜி சிலிண்டர்

இணைப்புகளை வழங்கிய முதல் மாநிலம்

- a) உத்திரகாண்ட்
b) பிஹார்
c) அசாம்
d) இமாச்சல பிரதேசம்

15. Which State Government is all set to launch Roko-Toko campaign aimed at those not wearing masks?

- a) Bihar
b) Rajasthan
c) Haryana
d) Madhya Pradesh

முகக்கவசம் அணியாதவர்களை இலக்காகக் கொண்ட ரோகோ-டோகோ பிரச்சாரத்தை தொடங்க எந்த மாநில அரசு தயாராக உள்ளது?

- a) பிஹார்
b) ராஜஸ்தான்
c) ஹரியானா
d) மத்தியப் பிரதேசம்

16. Which of the following persons has recently been recently honoured with Paul Harris Fellow recognition?

- a) O. Panneerselvam
b) Edappadi K Palaniswami
c) Dr. U.R. Rao
d) Dr K Kasturirangan

பின்வரும் நபர்களில் யார் பால் ஹாரிஸ் ஃபெலோ அங்கீகாரத்துடன் சம்பத்தில் அங்கீகரிக்கப்பட்டவர்

- a) ஓ பன்னீர் செல்வம்
b) எடப்பாடி பழனிச்சாமி
c) டாக்டர் யூ ஆர் ராவ்
d) கஸ்தூரி ரங்கன்

17. Consider the following statements about the withdrawal of United States from WHO

- I. The United States formally submitted its notice of formal withdrawal to the UN Secretary-General
II. The US will formally exit from the WHO in July 2021

Which of the above statements is/are correct?

- a) Only I
b) Only II
c) Both I and II
d) Neither I nor II

அமெரிக்கா உலக சுகாதார நிறுவனத்தில் இருந்து விலகுவது தொடர்பான கருத்துக்களை கவனி

- I. அமெரிக்கா முறையாக திரும்பப் பெறுவதற்கான அறிவிப்பை ஐ.நா பொதுச்செயலாளரிடம் சமர்ப்பித்தது



IYACHAMY ACADEMY

(Associated With www.iyachamy.com)
Institution For Competitive Exam

II. அமெரிக்க முறைப்படி ஜூலை 2021ல் உலக சுகாதார நிறுவனத்தில் இருந்து வெளியேறும் சரியான கூற்றுக்களை தேர்ந்தெடு

- a) 1 மட்டும்
b) 2 மட்டும்
c) 1 மற்றும் 2
d) இரண்டும் இல்லை

18. Which of the following countries was not part of Chabahar port project trilateral deal signed in 2016?

- a) Afghanistan
b) India
c) Iran
d) Tajikistan

கீழ்க்கண்டவற்றுள் எந்த நாடு சாபார் துறைமுகத்திட்டம் தொடர்பான மும்முனை ஒப்பந்தத்தில் இடம்பெற வில்லை

- a) ஆப்கானிஸ்தான்
b) இந்தியா
c) ஈரான்
d) தஜிகிஸ்தான்

19. Recently which of the following countries eliminated both measles and rubella?

- a) India
b) China
c) Sri Lanka
d) Indonesia

சமீபத்தில் எந்த நாடு ரூசெல்ல மற்றும் மீசெல்ஸ் நோயை ஒழித்த நாடு

- a) இந்தியா
b) சீனா
c) இலங்கை
d) இந்தியா

20. Which of the following countries joins India in "PASSEX" exercise recently?

- a) United States
b) Japan
c) United Kingdom
d) Russia

கீழ்க்கண்டவற்றுள் எந்த நாடு இந்தியாவுடன் இணைந்து "PASSEX" என்ற ராணுவ ஒத்திகையை நடத்தியது

- a) அமெரிக்கா
b) ஜப்பான்
c) பிரிட்டன்
d) ரஷ்யா

21. Which one of the following latitudes determines the Indian Standard time

இந்திய திட்ட விலக்கத்தை நிர்ணயிக்கும் அட்ச ரேகை

- a) 85.5 E b) 82.5 E c) 84.5 E d) 92.5 E



22. The mountains which are not a part of Himalayan chain ?

- a) Aravalli b) Hindukush c) Karakoram d) Kunlan

இமாலய மலைத்தொடரின் சங்கிலித் தொடரில் அமையாத மலை எது

- a) ஆரவல்லி b) ஹிந்துகுஷ் c) காரகோரம் d) குன்லான்



GROUP-1 MAINS 2020
CLASS \ TESTS SERIES

AVAILABLE IN TAMIL & ENGLISH MEDIUM

Starting : 29th December, 2019

TOTAL 38 TEST

31 Subjective Tests

4 Revision Tests

3 Full Syllabus Tests

Available in **Class Room, Online, And Postal**

We planning for limited admission Because of giving Personal Attention and care we couldn't able to admit more than 40 people for class room coaching and class room Test Series.

Class and Tests Timings

Class time Saturday 10: AM - 5.00 PM	Test Time Sunday 10.00: AM - 1.00 PM	Key Discussion Sunday 2.00 PM - 5.00 PM
---	---	--

ALL TESTS ARE SPOT TESTS

Venue : No, 172, Tirugnanamsambandar Street, Tirumangalam,
Anna Nagar (W), Chennai 40. Ph. 9952521550 / 044-48601550

23. Which one is not correctly matched?

- A) High pressure boiler plant - Trichirapalli
B) Alumina plant - Mettur
C) Copper smelting centre - Khetri
D) Hindustan motors - Madurai

கீழ்க்கண்டவற்றுள் எது சரியாக பொருத்தப்படவில்லை

- a) அதிக கன அழுத்த உலை - திருச்சிராப்பள்ளி
b) அலுமினிய ஆலை - மேட்டுர்
c) தாமிர உருக்கு ஆலை - கேத்ரி
d) இந்துஸ்தான் மோட்டார் - மதுரை

24. Consider the following statements :



- a) கேரளா, கர்னாடாக, ஆந்திரா
- b) கேரளா, கர்னாடாக, தமிழ்நாடு
- c) தமிழ்நாடு, ஆந்திரப்பிரதேசம், ஒடிசா
- d) கர்னாடாக, மகாராஷ்டிரா, ஆந்திரப்பிரதேசம்

27. Most of the cyclones that form during October & November in India originate in

- A) Southern hemisphere ocean
- B) Arabian sea
- C) Southwest Bay of Bengal
- D) Southeast Bay of Bengal

இந்தியாவில் அக்டோபர் மற்றும் நவம்பர் மாதம் உருவாகும் புயல்கள் பெரும்பாலும் எங்கிருந்து உருவாகிறது

- a) தென் இந்திய பெருங்கடல்
- b) அரபிக் கடல்
- c) தென்மேற்கு வங்கக் கடல்
- d) தென்கிழக்கு வங்கக்கடல்

28. Copper - Gold - Iron - coal are connected with

- a) Kolar - Kudremukh - Khetri - Jharia
- b) Khetri - Kolar - Kudremukh - Jharia
- c) Kudremukh - Kolar - Khetri - Jharia
- d) Kolar - Khetri - Jharia - Khudremukh

செம்பு- தங்கம்- இரும்பு - நிலக்கரியோடு தொடர்புடையது சரியான வரிசையில்

- a) கோலார்- குதிரமுக்- கேத்ரி - ஜாரியா
- b) கேத்ரி- கோலார்-குதிரமுக்- ஜாரியா
- c) குதிரமுக் - கோலார்- கேத்ரி- ஜாரியா
- d) கோலார்- கேத்ரி - ஜாரியா -குதிரமுக்

29. Which metal has so far not been discovered in Harappan sites

- (a) Copper (b) Gold (c) Silver (d) Iron

ஹரப்பா இடங்களிலிருந்து இது வரை கண்டுபிடிக்கப்படாத உலோகம்

- a) செம்பு b) தங்கம் c) வெள்ளி d) இரும்பு



30. Village Administration of Pandyas was divided into

- a) 5 Variyams b) 6 Variyams c) 4 Variyams d) 3 Variyams

பாண்டியர்களின் கிராம நிர்வாகம் எத்தனை பிரிவுகளாக பிரிக்கப்பட்டிருந்தது?

- a) 5 வாரியம் b) 6 வாரியம் c) 4 வாரியம் d) 3 வாரியம்

31. The term used for measurement of land in the Delhi sultanate period was

- a) Kismat - I Ghalla b) Ghalla Bakshi c) Mansahat d) Ghazi

சுல்தான்கள் ஆட்சிக்காலத்தில் நிலத்தை அளவிடப் பயன்படுத்தப்பட்ட அளவின் பெயல்

- a) கிஸ்மத் - கல்லா b) கல்லா பாக்ஷி c) மன்சாத்த் d) காஸி

32. Match the following

List I

- A. Mohenjodaro
B. Chanhudaro
C. Rangpur
D. Harappa

பட்டியல் 1 ஐ பட்டியல் 2 உடன் இணைக்க

பட்டியல் 1

- a) மொகஞ்சதரோ
b) சான்ஹூதாரோ
c) ராங்பூர்
d) ஹரப்பா

A b c d

- a) 1 2 3 4
b) 4 2 1 3
c) 3 1 2 4
d) 4 2 3 1

List II

1. Absence of mother goddess figure
2. Assembly hall and collegiate building
3. Bead making factory
4. Sandstone make dancer

பட்டியல் 2

- பெண் தெய்வ சிலை காணப்படவில்லை
- கூடும் அவை மற்றும் கல்லூரிக் கட்டிடம்
- செங்கல் செய்யும் தொழிற்சாலை
- மண்ணால் உருவாக்கப்பட்ட சிற்பம்

33. Match List I with List II

List 1

List 2



IYACHAMY ACADEMY

(Associated With www.iyachamy.com)
Institution For Competitive Exam

- A. Birth 1. Stupa
B. First Sermon 2. Lotus and Bull
C. Nirvana 3. Dharma Chakra
D. Parainiravana 4. Bodhi tree

பட்டியல் 1 ஐ பட்டியல் 2 உடன் இணைக்க

பட்டியல் 1 பட்டியல் 2

- a) பிறப்பு ஸ்தூபம்
b) முதல் உரை தாமரை மற்றும் எருது
c) நிர்வாணம் தர்மசக்கரம்
d) முத்தியடைதல் போதிபரம்

A b c d

- a) 1 2 3 4
b) 4 2 1 3
c) 2 3 1 4
d) 4 2 3 1

34. Who among the following wrote Sanskrit Grammar?

- a) Kalidasa b) Charak c) Panini d) Aryabhata

சமஸ்கிருதத்தின் இலக்கணத்தை எழுதியவர் யார்

- a) காளிதாசர் b) சரகர் c) பாணினி d) ஆர்யப்பட்டர்

35. Match List - I with II

List - I

- a) July ,22 , 1947
b) January 24, 1950
c) January 26, 1950
d) March , 22 , 1957

List - II

- Adoption of National song
- Adoption of National Emblem
- Adoption of National Calendar
- Adoption of National Flag

பட்டியல் 1 ஐ பட்டியல் 2 உடன் இணைக்க

- a) ஜூலை 22, 1947 - தேசியப்பாடல் ஏற்றுக்கொள்ளப்படல்
b) ஜனவரி ,24 , 1950 - தேசிய சின்னம் ஏற்றுக்கொள்ளப்படல்
c) ஜனவரி 26 , 1950 - தேசிய நாட்காட்டி ஏற்றுக்கொள்ளுதல்



d) மார்ச் , 22, 1957

- தேசிய கொடி ஏற்றுக்கொள்ளப்படல்

A b c d

A. 1 2 3 4

B. 4 2 1 3

C. 4 3 2 1

D. 4 2 3 1

36. Justice P.N Bhawati was Pioneer in

a) Public Interest Litigation

b) Judicial Review

b) Fundamental Right

d) Land reform

நீதிபதி பி என் பகவதி எதன் முன்னோடி

a) பொது நல வழக்கு

b) நீதிப்புணராய்வு

c) அடிப்படை உரிமை

d) நிலச்சீர்திருத்தம்

37. Under which Article of the Constitution of India, the Governor has the power to promulgate ordinances during recess of Legislature?

a) 155

b) 156

c) 202

d) 213

எந்த அரசியலமைப்பு சட்ட விதி ஆளுனர் சட்டப்பேரவை இல்லாதபோது அவசரசட்டத்தினைப் பிறப்பிக்க வழிவகை செய்கிறது?

a) 155

b) 156

c) 202

d) 213

38. Who is not the ex officio member of the National Human Rights Commission?

a) The Chairperson of the National Commission for Minorities

b) The Chairperson of the Law Commission of India

c) The Chairperson of the National Commission for the Scheduled Castes and Scheduled Tribes

d) The Chairperson of the National Commission for Women

தேசிய மனித உரிமைகள் ஆணையத்தின் பதவி வழியே உறுப்பினர் அல்லாத அமைப்பு எது

a) தேசிய சிறுபான்மையினர் ஆணைய தலைவர்

b) சட்ட ஆணையத் தலைவர்

c) தேசிய தாழ்த்தப்பட்டோர் மற்றும் பழங்குடியின ஆணையத் தலைவர்

d) தேசிய மகளிர் ஆணையத் தலைவர்



39. Which of the following are correct in regarding to Indian Constitution assembly

- A) It was not adult franchise
- B) It resulted from direct elections
- C) It was not a multi body party
- D) It worked through several committees

Choose the correct code

- a) A and D
- b) A and B
- c) B and C
- d) A,B,C and D

இந்திய அரசியல் நிர்ணய சபை தொடர்பானவற்றில் சரியல்லாத விடையை தேர்ந்தெடுக்க

- a) வயது வந்தோர் உரிமை அடிப்படையில் அமைக்கப்படவில்லை
- b) நேரடித் தேர்தலின் மூலம் உருவாக்கப்பட்டது
- c) பல கட்சிகளைக் கொண்ட அமைப்பாக இல்லை
- d) பல குழுக்களின் வழியே இது பணியாற்றியது

சரியான குறியீட்டைத் தேர்ந்தெடுக்க

- a) 1 மற்றும் 4
- b) 1 மற்றும் 2
- c) 2 மற்றும் 3
- d) 1,2,3 மற்றும் 4

40. Which of the Following chief ministers have not held the post of leader of Opposition in Tamilnadu Legislative Assembly

- (A) MGR
- (B) E.Palanisamy
- (C) K Karunanithi
- (D) O Panneerselvam

Choose the Correct Code

- a) A , B
- b) A,B,C
- c) B,D
- d) A,B,D

கீழ்க்கண்ட முதலமைச்சர்களில் தமிழக சட்டப்பேரவையில் எதிர்க்கட்சித் தலைவர் என்ற பதவியை வகிக்காதவர்கள் யார்

- A) எம் ஜி ஆர்
 - B) எ.பழனிச்சாமி
 - C) கே கருணாநிதி
 - D) ஜ பன்னீர் செல்வம்
- a) A , B
 - b) A,B,C
 - c) B,D
 - d) A,B,D

41. Which of the following statement is incorrect

- a) The maximum strength of the house envisaged by the constitution is 552



IYACHAMY ACADEMY

(Associated With www.iyachamy.com)
Institution For Competitive Exam

- b) Out of 552,530 members represent the state and 20 members represent union territory through election
- c) The chairman of all parliamentary committee are nominated by the speaker
- d) None of the above

கீழ்க்கண்ட வாக்கியங்களில் தவறானது எது

- a) அரசியலமைப்பால் அவையின் மொத்த உறுப்பினர்களின் அதிகபட்ச எண்ணிக்கை 552 என நிர்ணயிக்கப்பட்டுள்ளது
- b) மொத்தம் உள்ள 552 பேரில் 530 உறுப்பினர்கள் மாநிலங்களில் இருந்தும் 20 உறுப்பினர்கள் மத்திய ஆட்சிப்பகுதியில் இருந்து தேர்தல் மூலம் தேர்ந்தெடுக்கப்படுவர்
- c) அனைத்து பாராளுமன்றக் குழுக்களின் தலைவர்களை மக்களவைத் தலைவர் நியமிப்பார்
- d) மேற்கண்ட எதுவுமில்லை

42. Match the following items of List I with List II

List 1	List 2
a) Ninth Schedule	- Allocation of seats in Upper House
b) Eighth Schedule	- Disqualification on grounds of defection
c) Fourth Schedule	- Validation of certain acts
d) Tenth Schedule	- Official Languages of the Republic of India
a) ஒன்பதாவது அட்டவணை	- ராஜ்ய சபை உறுப்பினர்கள் ஒதுக்கீடு
b) எட்டாவது அட்டவணை	- கட்சித்தாவல் அடிப்படையில் பதவி நீக்கம்
c) நான்காவது அட்டவணை	- சில சட்டங்களை செயல்படுத்துவது
d) பத்தாவது அட்டவணை	- இந்தியக் குடியரசின் அலுவல் மொழி

	A	B	C	D
a)	4	3	2	1
b)	3	4	1	2
c)	2	1	4	3
d)	4	1	3	2

43. which one of the following Incorrectly Matched

- a) 1st ARC Commission - Hanumanthaiya
- b) 2nd ARC Commission - Veerappa Moily
- c) 2nd Backward Commission - R.S Sarkariya



IYACHAMY ACADEMY

(Associated With www.iyachamy.com)
Institution For Competitive Exam

d) Constitutional Review commission - Venkatachalaya

கீழ்க்கண்டவற்றுள் எது சரியாக பொருந்தவில்லை

- a) முதல் நிர்வாக சீர்திருத்த ஆணையம் - அனுமந்தையா
b) 2 வது நிர்வாக சீர்திருத்த ஆணையம் - வீரப்ப மொய்லி
c) 2வது பிற்பட்டோர் ஆணையம் - ஆர் எஸ் சர்க்காரியா
d) அரசியலமைப்பு மறுசீரமைப்புக்குழு - வெங்கடாச்சலையா

44. Put the following Presidents of India since 1989 in their chronological order and select the correct answer from the code given below

K.R. Narayanan, A.P.J. Abdul Kalam, R. Venkatraman, Shankar Dayal Sharma, Pratibha Patil

- a) K.R. Narayanan, R. Venkatraman, Pratibha Patil, A.P.J. Abdul Kalam, Shankar Dayal Sharma
b) R. Venkatraman, A.P.J. Abdul Kalam, Shankar Dayal Sharma, Pratibha Patil, K.R. Narayanan
c) Pratibha Patil, K.R. Narayanan, Shankar Dayal Sharma, R. Venkatraman, A.P.J. Abdul Kalam
d) R. Venkatraman, Shankar Dayal Sharma, K.R. Narayanan, A.P.J. Abdul Kalam, Pratibha Patil.

1989 ஆம் ஆண்டிலிருந்து குடியரசுத் தலைவரை காலமுறை வரிசைப் படுத்துக

- a) கே ஆர் நாராயணன் , ஏ பி ஜே அப்துல் கலாம், ஆர் வெங்கடராமன், சங்கர் தயாள் சர்மா, பிரதிபா பாட்டில்
b) ஆர் வெங்கடராமன் , ஏ பி ஜே அப்துல்கலாம் , சங்கர் தயாள் சர்மா , பிரதிபா பாட்டில், கே ஆர் நாராயணன்
c) பிரதிபாபாட்டில், கே ஆர் நாராயணன், சங்கர் தயாள் சர்மா, ஆர் வெங்கடராமன் , ஏ பி ஜே அப்துல் கலாம்
d) ஆர் வெங்கடராமன், சங்கர் தயாள் சர்மா, கே ஆர் நாராயணன், ஏ பி ஜே அப்துல்கலாம், பிரதிபா பாட்டில்

45. Number of Member countries In UN social and Economical Council

ஐக்கிய நாடுகள் சபையின் சமூக பொருளாதார அவையில் உள்ள உறுப்பினர்களின் எண்ணிக்கை?

- a) 193 b) 54 c) 15 d) 154



46. Consider the following regarding 'NITI Aayog'

- I. The P.M. is its chairman.
- II. The Governing Council consists of all the Chief Ministers of states and LG's of Union territories.
- III. The Vice-Chairman is to be appointed by the P.M.
- IV. Its tenure shall be five year.

Choose the Correct code

- a) 1,2,3 b) 1,2,3,and 4 c) 2,3,4 d) 1,2,4

நிதி ஆயோக் தொடர்பான கூற்றுக்களை ஆராய்க

- a) பிரதமர் இதன் தலைவர் ஆவார்
- b) இதன் ஆளுகைக்குழு , அனைத்து மாணில முதல்வர்கள் மற்றும் மத்திய ஆட்சிப்பகுதிகளின் ஆளுனர்கள் ஆவர்
- c) துணைத்தலைவர் பிரதமரால் நியமிக்கப்படுவார்
- d) இதன் ஆயுள் 5 ஆண்டுகள்

சரியான குறியீட்டை தேர்வு செய்

- a) 1,2,3 b) 1,2,3,4 c) 2,3,4 d) 1,2,4

47. Which type of taxes help in reducing income disparities '?

- a) Neutral Taxes
- b) Proportionate Taxes
- c) Progressive Taxes
- d) Regressive Taxes

எந்த வகையான வரி வருமான ஏற்றத்தாழ்வுகளை குறைப்பதற்கு உதவும்

- a) சமமான வரி b) விகிதாச்சார வரி c) வளர்வீத வரி d) குறைவீத வரி

48. Which one of the Following is not Correctly matched

- a) First Plan - 1952 - 1957
- b) Fifth plan - 1974 -1978
- c) Eight plan - 1992 - 1997
- d) Eleventh plan - 2007 - 2012

கீழ்க்கண்டவற்றுள் எது சரியாக பொருத்தப்படவில்லை

- a) முதல் திட்டகாலம் - 1952 - 1957
- b) ஐந்தாம் திட்ட காலம் - 1974 - 1978



c) எட்டாவது திட்டம்

- 1992 - 1997

d) பதினோறாவது திட்டம்

- 2007 ஓ 2012

49. The Laffer curve explains the relationship between the following

- a) Tax rate and employment
- b) Tax rate and Income
- c) Tax rate and tax revenue
- d) Tax rate and Public expenditure

லாபர் வளைவு எதனோடுடைய தொடர்பை வெளிப்படுத்துகிறது

- a) வரி வீதம் மற்றும் வேலைவாய்ப்பு
- b) வரி வீதம் மற்றும் வருமானம்
- c) வரி வீதம் மற்றும் வரி வருவாய்
- d) வரி வீதம் மற்றும் பொதுச்செலவு

50. Banking Services is an example of

- a) Primary Sector
- b) Secondary Sector
- c) Territory Sector
- d) Manufacturing Sector

வங்கிச்சேவை எதற்கு எடுத்துக்காட்டு?

- a) முதன்மைத்துறை
- b) இரண்டாம் நிலை
- c) சேவைத்துறை
- d) உற்பத்தி துறை

51. What is the main Cause of Rural Poverty

- a) do not own assets like land and they work as agricultural labourers
- b) work for long hours but they get low incomes
- c) No Job Opportunities
- d) None of the Above

ஊரக வறுமைக்கான முக்கியக்காரணம்

- a) சொந்தமாக நிலம் இல்லாதது மற்றும் வேளாண் தொழிலாளர்களாக வேலை செய்வது
- b) அதிக நேரம் வேலை செய்தும் குறைந்த ஊதியம் பெறுவது
- c) போதுமான வேலைவாய்ப்பு இல்லாத நிலைமை
- d) மேற்கண்ட எதுமில்லை

52. GATT was replaced as WTO in



- a) 1948 b) 1945 c) 1995 d) 1994

காட் எப்போது உலக வர்த்தக நிறுவனமாக மாறியது

- a) 1948 b) 1945 c) 1995 d) 1994

53. Consider the following statements:

Assertion (A) : In India the main purpose of the British rule was to Encourage disruptive tendencies and create minority problems.

Reason (R) : They wanted to make it an excuse to stay in power in India and to pose an impartial orbiter.

Select your answer according to the coding system given below:

- A) Both (A) and (R) are true, and (R) is the correct explanation of (A)
B) Both (A) and (R) are true, but (R) is not the correct explanation of (A)
C) (A) is true, but (R) is false
D) (A) is false, but (R) is true

கீழ்க்கண்ட கூற்றுக்களை ஆராய்க

கூற்று: இந்தியாவில் ஆட்சி செய்த பிரிட்டிசாரின் நோக்கமானது சிறுபான்மையினருக்கிடையே பிரச்சனைகளை ஏற்படுத்துவதைக் கொண்டிருந்தது

காரணம்: இதனை வைத்து நீண்ட காலம் ஆட்சி செய்யலாம் என நினைத்தனர்

- a) இரண்டும் சரி , கூற்றுக்கு காரணம் சரியான விளக்கமாகும்
b) கூற்று மற்றும் காரணம் சரி ஆனால் கூற்றுக்கு காரணம் சரியான விளக்கமல்ல
c) கூற்று சரி காரணம் தவறு
d) கூற்று தவறு காரணம் சரி

54. Which one of the following is correctly matched?

- A) Dandi March - 1930
B) Direct action - 1927
C) Simon commission - 1930
D) Poorna Swaraj - 1946

கீழ்க்கண்டவற்றுள் எது சரியானது

- a) தண்டி யாத்திரை - 1930
b) நேரடி நடவடிக்கை - 1927
c) சைமன் குழு - 1930



55. "The British empire is rotten to the core, corrupt in every direction and tyrannical and mean." This statement was made by

- a) Sister Niveta
b) Annie Besant
c) Savitri bhai Phule
d) Bal Gangadhar Tilak

" பிரிட்டிஷ் ராஜ்யமானது ஊழலில் அழுகிவிட்டது ஒவ்வொரு திசையிலும் அதன் ஊழல் கொடுங்கோலாட்சியாக இருக்கிறது " இந்தக் கூற்றைக் கூறியவர்

- a) சகோதரி நிவேதா
b) சாவித்ரிபாய் பூலே
c) அன்னி பெசன்ட்
d) பால கங்காதர திலகர்

56. Who edited the two magazines 'Navajivan' and 'Young India'?

- A) Mahatma Gandhi
B) Aurobindo Ghosh
C) Subhash Chandra Bose
D) Motilal Nehru

நவஜீவன் மற்றும் யங் இந்தியா ஆகிய இரண்டு இதழ்களை வைத்திருந்தார்

- a) மகாத்மா காந்தி
b) அரபிந்த கோஷ்
c) சுபாஷ் சந்திர போஷ்
d) மோதிலால் நேரு

57. With Reference to Simon Commissions recommendation, which one of the Following statements are Correct

- a) it Recommended the replacement of diarchy with responsible government in the province
b) it proposed the setting of inter-provincial Council under the home department
c) it Suggested the abolition of bicameral legislation at the centre
d) it recommended the Creation of Indian Police Service

சைமன் குழுவின் பரிந்துரைகள் தொடர்பானவற்றில் சரியான விடை எது

- a) இரட்டையாட்சியை நீக்கிவிட்டு மாகாணங்களில் பொறுப்பான அரசாங்கம் அமையவேண்டும் என பரிந்துரை செய்தது
b) மாகாணங்களுக்கிடையே கவுன்சில் ஒன்றை உள்துறையின் கீழ் அமைக்கப்பட வேண்டும் என பரிந்துரை செய்தது.
c) மத்திய அளவில் ஈரவை அமைப்பை கலைக்க வேண்டும் என பரிந்துரைத்தது
d) இந்திய காவல் பணியை உருவாக்க பரிந்துறை செய்தது



58. Consider the Following Statement

- I. Dr Rajendra Prasad Persuaded Mahtma Gandhi to come to Champaran to Investigate the Peasant Problems
- II. Acharya J.B Kripalini was one of the Mahatma Gandhi Collegues in His Champaran Investigation

Which of the Folloing satetment or Correct

- a) 1 only
- b) 2 only
- c) Both 1 & 2
- d) Neither 1 nor 2

கீழ்க்கண்ட கூற்றுக்களை கவனத்தில் கொள்க

- I. மகாத்மா காந்தி சம்பரான் வந்து விவசாயிகளின் பிரச்சனையை ஆய்வு செய்ய வேண்டுமென ராஜேந்திர பிரசாத் வேண்டினார்
- II. ஆச்சார்ய ஜே.பி கிருபாளினி சம்பரான் விசாரணையின் போது காந்தியின் குழுவில் ஒருவராக இருந்தார்

சரியான விடையை தேர்ந்தெடு

- a) 1 மட்டும்
- b) 2 மட்டும்
- c) 1 மற்றும் 2
- d) இரண்டும் இல்லை

59. The epic which describes the custom of making the newly married couple to start their life on their own in a separate house is

- A) Manimegalai
- B) Kambaramayanam
- C) Periyapuranam
- D) Silappathikaram

திருமணம் முடிந்தபின் புதுமனைத் தம்பதியர், தனிக்குடித்தனம் செல்வது அக்கால வழக்கமாக இருந்தது என்பதை அறிவிக்கும் காப்பியம்

- A) மணிமேகலை
- B) கம்பராமாயணம்
- C) பெரியபுராணம்
- D) சிலப்பதிகாரம்

60. Match List I (Works of Travel) with List II (Authors) correctly and select your answer using the codes given below:

List I

List II

Works on Travel

Authors



IYACHAMY ACADEMY

(Associated With www.iyachamy.com)
Institution For Competitive Exam

- | | |
|--------------------------------|-------------------------|
| a) Pirayaana Elakkiam | 1. G.T. Naidu |
| b) Tamil Thoothu | 2. A. K. Chettiar |
| c) Malaysia Muthal Kanadavarai | 3. Thani Naayaga Adigal |
| d) Naan Kanda Jappan | 4. Somale |

Codes :

	a	b	c	d
A)	1	2	3	4
B)	2	1	4	3
C)	4	3	2	1
D)	3	4	1	2

பட்டியல் I ஐ பட்டியல் II உடன் பொருத்தி, கீழே கொடுக்கப்பட்டுள்ள பயண இலக்கியங்களையும் நூலாசிரியர்களையும் இணைத்து அதன் குறியீடுகளைக் கொண்டு சரியான விடையைத் தேர்ந்தெடு :

- | பட்டியல் I | பட்டியல் II |
|---------------------------|----------------------|
| பயண இலக்கியங்கள் | ஆசிரியர்கள் |
| a) பிரயாண இலக்கியம் | 1. ஜி.யு. நாயுடு |
| b) தமிழ்த் தூது | 2. ஏ. கே. செட்டியார் |
| c) மலேசியா முதல் கண்டாவரை | 3. தனிநாயக அடிகள் |
| d) நான் கண்ட ஜப்பான் | 4. சோமலே |

Codes :

	a	b	c	d
A)	1	2	3	4
B)	2	1	4	3
C)	4	3	2	1
D)	3	4	1	2

61. When was Tamil introduced as an instructing language in Tamil Nadu colleges?

- | | |
|---------|---------|
| A) 1970 | B) 1968 |
| C) 1981 | D) 2010 |

எந்த ஆண்டு தமிழகத்தில் உள்ள கல்லூரிகளில் தமிழ் பயிற்று மொழியாக அறிமுகப்படுத்தப்பட்டுள்ளது?



A) 1970

B) 1968

C) 1981

D) 2010

62. Which of the following was called as 'Dandi of Tamil Nadu'?

A) Vedaranyam

B) Thirunelveli

C) Cuddalore

D) Mahabalipuram

கீழ்க்கண்டவற்றுள் எது 'தமிழ்நாட்டின் தண்டி' என்று அழைக்கப்படுகிறது?

A) வேதாரண்யம்

B) திருநெல்வேலி

C) கடலூர்

D) மகாபலிபுரம்

63. The original text of the book "Purapporul Venba Maalai" is

A) Panniru Padalam

B) Venbaap Paattiyal

C) Tholkaappiyam

D) Venmathi Maalai

புறப்பொருள் வெண்பாமாலை என்ற நூலுக்கு மூலநூல் எது?

A) பன்னிரு படலம்

B) வெண்பாப் பாட்டியல்

C) தொல்காப்பியம்

D) வெண்மதிமாலை

64. Which among the following does not belong to Tamil Nadu Tribal Community?

A) Thodar

B) Nagas

C) Kurumbas

D) Baniyan

பின்வருபவற்றுள் தமிழக பழங்குடியினர் வகையினரை சேராதவர் யார்?

A) தோடர்

B) நாகர்

C) குரும்பர்

D) பனியன்

65. Kurundogai, Aingurunuru, Paripadal are a part of

A) ten idylls

B) five great epics

C) eight anthologies

D) five minor epics

குறுந்தொகை, ஐங்குறுநூறு, பரிபாடல் இவற்றின் ஒரு பகுதி

A) பத்துப்பாட்டு

B) ஐம்பெருங்காப்பியங்கள்

C) எட்டுத்தொகை

D) ஐஞ்சிறுங்காப்பியங்கள்



66. Who was instrumental for the formation of the Malabar-Coimbatore League which helped more to strengthen the South Indian Rebellion?

- A) Kattabomman
B) Maruthu Pandyan
C) Kerala Varman
D) Oomathurai

தென்னிந்திய கலகம் அதிக பலம் பெறுவதற்கு உதவியாக இருந்த மலபார்-கோயம்புத்தூர் சங்கம் அமைய விளங்கியவர் யார்?

- A) கட்டபொம்மன்
B) மருதுபாண்டியர்கள்
C) கேரள வர்மன்
D) ஊமைத்துரை

67. Match List I with List II correctly and select your answer using the codes given below:

List I

List II

- a) Tudiyan, Panan, Pariyan, Kadamban
b) Tondi, Musiri, Puhar
c) Sabha, Manram
d) Panar, Virahyar
1. Highest Court of Justice
2. Castes
3. Musicians
4. Ports

Codes :

- | | a | b | c | d |
|----|---|---|---|---|
| A) | 2 | 4 | 1 | 3 |
| B) | 4 | 3 | 2 | 1 |
| C) | 1 | 4 | 2 | 3 |
| D) | 2 | 1 | 3 | 4 |

பட்டியல் I ஐ பட்டியல் II உடன் பொருத்தி, கீழே கொடுக்கப்பட்டுள்ள குறியீடுகளைக் கொண்டு சரியான விடையைத் தேர்ந்தெடு :

பட்டியல் I

பட்டியல் II

- a) துடியன், பாணன், பறையன், கடம்பன்
b) தொண்டி, முசிறி, புகார்
c) சபா, மன்றம்
d) பாணர், விரலியர்
1. உயர் நீதிமன்றம்
2. ஜாதிகள்
3. இசை ஞானிகள்
4. துறைமுகங்கள்

Codes :

- | | a | b | c | d |
|--|---|---|---|---|
|--|---|---|---|---|



- A) 2 4 1 3
B) 4 3 2 1
C) 1 4 2 3
D) 2 1 3 4

68. During the Sangam Age Uraiyur was famous for

- A) Pearls and fine muslin
B) a busy port
C) weaving centre
D) tourist centre

சங்க காலத்தில் உறையூர் சிறப்பு பெற்றமைக்குக் காரணம்

- A) முத்தும் மற்றும் உயர்ரக மஸ்லின்
B) ஒரு சுறுசுறுப்பான துறைமுகம்
C) நெசவு நெய்யும் மையம்
D) சுற்றுலா மையம்

69. ----- won a great victory over Chera & Pandya contemporaries in Sangam Age.

- A) Senguttuvan
B) Gajabahu
C) Karikalan
D) Nedunchezian

சமகாலப் பாண்டிய, சேர மன்னர்கள் மீது மாபெரும் வெற்றியைப் பெற்ற சங்ககால மன்னன் யார்?

- A) செங்குட்டுவன்
B) கயவாகு
C) கரிகாலன்
D) நெடுஞ்செழியன்

70. Author of the novel 'Vadi Vaasal' in the style of witnessing the Jallikattu heroic sports event in the vernacular of Madurai.

- A) C S Chellappa
B) K alagirisamy
C) lakshmi
D) Vindhan

மதுரை வட்டார மொழிநடையில் ஜல்லிக்கட்டு வீர விளையாட்டு நிகழ்வை நேரில் கண்டு வர்ணிக்கும் பாணியில் 'வாடி வாசல்' என்ற நாவலை எழுதியவர்

- A) சி. சு. செல்லப்பா
B) கு. அழகிரிசாமி
C) லக்ஷ்மி
D) விந்தன்

71. திருக்குறளின் அறத்துப்பால் உணர்த்தும் கருத்து :

- A) கூட்டு வாழ்க்கையின் சிறப்பு
B) தனிமனித வாழ்க்கையின் மேன்மை
C) காதல் வாழ்க்கையின் ஒழுக்கம்
D) இல்லற வாழ்க்கையின் மாண்பு.

The concept expressed by the virtue of Thirukkural:



- a) The specialty of joint life
- b) The superiority of individual life
- c) The moral of the love life
- d) The prestige of home life.

72. Roman coins were found in the excavations at

- A) Todaiyur
- B) Mallapadi
- C) Alagankulam
- D) Sendamangalam

உரோமானிய நாணயங்கள் அகழாய்வில் கிடைத்த இடம்

- A) தொடையூர்
- B) மல்லபாடி
- C) அழகன் குளம்
- D) சேந்தமங்கலம்

73. Bronze objects found at Adhichanallur belongs to

- A) Chola period
- B) Megalithic period
- C) Pandya period
- D) Chalcolithic period

ஆதிச்சநல்லூரில் கிடைத்த வெண்கல கலைப்பொருட்கள்

- A) சோழர் காலத்தைச் சேர்ந்தவை
- B) பெருங்கற்படைக் காலத்தைச் சேர்ந்தவை
- C) பாண்டியர் காலத்தைச் சேர்ந்தவை
- D) செப்பு காலத்தைச் சேர்ந்தவை

74. Which is statement is correct :

- I. The South, Indian Liberal Federation become the Finance Party in 1917.
 - II. Kudi Arasu Megazine started in 1925
 - III. Marai Malai Adigalar launched the Thani Tamil Iyakkam in 1916
 - IV. Justice Party sixteenth annual continuation took place in Salem in 1944
- A) I, II, III, IV correct
 - B) I, II, III, IV Incorrect
 - C) I, II, Incorrect, III, IV correct
 - D) I, II, III Correct, IV only Incorrect

கீழ்க்கண்டவற்றில் சரியானவை எது:

- I. தென்னிந்திய விடுதலை கட்டமைப்பு 1917-ல் நிதி கட்சியாக வளர்ச்சி பெற்றது
- II. 1925ல் குடியரசு இதழ் ஆரம்பிக்கப்பட்டது
- III. மறை மலை அடிகளார் தனித் தமிழ் இயக்கம் 1916-ல் அமைத்தார்
- IV. நிதிகட்சியின் 16வது வருட கூட்டமைப்பு மாநாடு 1944-ல் சேலத்தில் நடைபெற்றது



IYACHAMY ACADEMY

(Associated With www.iyachamy.com)
Institution For Competitive Exam

A) I, II, III, IV சரி

B) I, II, III, IV தவறு

C) I, II, தவறு, III, IV சரி

D) I, II, III சரி, IV மட்டும் தவறு

75. Match the following

a) Vanji

1. Kaveripumpattinam

b) Kudal

2. Karur

c) Kachchi

3. Kanchipuram

D) Puhar

4. Madurai

Codes:

	a	b	c	d
A)	1	2	4	3
B)	3	1	2	4
C)	2	4	3	1
D)	4	2	3	1

பின்வருவனவற்றைப் பொருத்துக

a) வஞ்சி

1. காவிரியும்பட்டினம்

b) கூடல்

2. கரூர்

c) கச்சி

3. காஞ்சிபுரம்

D) புகார்

4. மதுரை

Codes:

	a	b	c	d
A)	1	2	4	3
B)	3	1	2	4
C)	2	4	3	1
D)	4	2	3	1

76. The resolution to call the Justice Party as Dravida kazagham was published in the Kudi Arasu in the year

A) 1940

B) 1942

C) 1943

D) 1944

நீதிக்கட்சியை திராவிட கழகம் என அழைக்கும் தீர்மானத்தை குடியரசு இதழில் பிரசுரித்த ஆண்டு



A) 1940

B) 1942

C) 1943

D) 1944

77. Assertion (A) : Velvikudi grant of Parantaka Nedunchezhiyan; regranted the village of Velvikudi to the descendants of the Brahmin grantees

Reason (R): It indicated the domination and privileges of its Brahmins in politics and society

- a) A is true, but [R] is false
b) Both [A] & [R] are true; and [R] is the correct explanation of [A]
c) (A) and (R) are true
d) [A] is false, but [R] is true.

கூற்று : பராந்தக சோழனின் வேள்விக்குடி செப்பேடுகள் வேள்விக்குடி என்ற கிராமத்தினை பிராமணர்களின் வழித் தோன்றல்களுக்கு குடுத்ததைக் குறிப்பிடுகிறது

காரணம்: இது அரசியல் மற்றும் சமூகத்தில் பிராமணர்களின் ஆதிக்கம் மற்றும் சலுகைகளை குறிப்பிடுகிறது

- a) கூற்று சரி காரணம் தவறு
b) கூற்று மற்றும் காரணம் சரி, கூற்றுக்கு காரணம் சரியான விளக்கம் ஆகும்
c) கூற்று மற்றும் காரணம் சரி
d) கூற்று தவறு ஆனால் காரணம் சரி

78. Consider the following statement with reference to Lemurian Theroy

- I. The original home of the Tamils was confined to Tamilnadu alone.
- II. connected South India with Ceylon, Malaya, Indonesia, South Africa, Madagascar and Australia
- III. The first and second Tamil Sangam also existed in this area
- IV. The people who lived in this continent maintained commercial and colonial contact with West Asia and Mediterranean.

Choose the Correct answers

- a) I,II,III b) I,II,IV c) I,II,III,IV d) II,III,IV

லெமுரியக் கொள்கை தொடர்பான கீழ்க்கண்ட கூற்றுகளை ஆராய்க

- I. தமிழர்களின் உண்மையான பூர்விகமாக தமிழ் நாட்டை மட்டுமே கொண்டிருந்தது



IYACHAMY ACADEMY

(Associated With www.iyachamy.com)
Institution For Competitive Exam

- II. தென் இந்தியா இலங்கையோடும், மலேயா, இந்தோனேசிய , தென் ஆப்ரிக்கா, மடகாஸ்கார் மற்றும் ஆஸ்திரேலியாவுடன் தொடர்பு கொண்டிருந்தது
- III. முதலாம் மற்றும் இரண்டாம் சங்கங்கள் இந்தப் பகுதியிலேயே இருந்தது
- IV. இந்தப் பகுதியில் வசித்த மக்கள் மேற்காசியா மற்றும் மத்திய தரைக்கடல் பகுதியோடு வர்த்தக மற்றும் காலனிய உறவு கொண்டிருந்தனர்
- சரியான விடையைத் தெரிவு செய்க
- a) I,II,III b) I,II,IV c) I,II,III,IV d) II,III,IV

79. Which of the following districts with a lower child sex ratio than the all-India average.

- a) Darmapuri b) Salem c) Theni d) Namakkal

கீழ்க்கண்டவற்றுள் எந்த மாவட்டம் குழந்தைப் பாலின விகிதத்தில் அனைத்திந்திய சராசரியை விட குறைவாக உள்ளது

- a) தர்மபுரி b) சேலம் c) தேனி d) நாமக்கல்

80. Tiruvannamalai, Villupuram, Nagapattinam and Tiruvarur are among the districts that are, or remain, at the bottom in human development Index Because

- a) Their backwardness is attributed to their economy being predominantly based on agriculture
- b) There is no Proper irrigation facility in this districts
- c) Due to Migration to Urban areas
- d) None of the above

திருவண்ணாமலை, விழுப்புரம், நாகப்பட்டினம், திருவாரூர் ஆகிய மாவட்டங்கள் தொடர்ச்சியாக மனித வள மேம்பாட்டுக் குறியீட்டில் கடைசி இடங்களில் உள்ளது ஏன்

- a) அவர்களின் பொருளாதாரம் முக்கியமாக விவசாயத்தை அடிப்படையாகக் கொண்டிருப்பதே அவர்களின் பின்தங்கிய நிலைக்கு காரணம்
- b) இந்த மாவட்டங்களில் முறையான நீர் வசதி இல்லாதது
- c) நகர்ப்புறத்திற்கு இடம் பெயர்வதால்
- d) மேற்கண்ட எதுவுமில்லை

81. Find the Incorrect statement

- a) Perambalur and Villupuram, which were among the bottom five districts in the first Tamil Nadu Human Development Report (2003)



- b) The Tamil Nadu Human Development Report 2017 Ranks 38 districts
- c) Virudhunagar and Namakkal have shown perceptible progress over a period of nearly 15 years
- d) According to the 2011 Census, SCs account for about 60% of the overall population of Perambalur.

தவறான கூற்றைக் கண்டறிக

- a) பெரம்பலூர், விழுப்புறம் ஆகிய மாவட்டங்கள் 2013 மனித வள மேம்பாட்டு அறிக்கையில் பின் தங்கிய நிலையில் இருந்தன
- b) மனித வள மேம்பாட்டு அறிக்கை 2017 38 மாவட்டங்களுக்கு தரவரிசைபிட்டது
- c) விருதுனகர் மற்றும் நாமக்கல் மாவட்டம் 15 ஆண்டுகளில் குறிப்பிடத்தக்க வளர்ச்சி அடைந்துள்ளன
- d) 2011 ஆம் ஆண்டு மக்கள் தொகை கணக்கெடுப்பின் படி பெரம்பலூர் மாவட்டத்தில் 60% தாழ்த்தப்பட்டோர் மொத்த மக்கள் தொகையில் உள்ளனர்

82. Tamilnadu has achieved high growth rates and economic transformation in combination with significant progress on social outcomes due to

- a) Political Leadership
- b) Industrial development
- c) effectiveness of the bureaucracy
- d) recruitment of socio economically diverse cadres

Choose the correct one

- a) 1,2
- b) 2,3
- c) ,2,3,4
- d) 1,2,3,4

சமூக விளைவுகளில் குறிப்பிடத்தக்க முன்னேற்றத்துடன் இணைந்து அதிக வளர்ச்சி விகிதங்களையும் பொருளாதார மாற்றத்தையும் தமிழகம் அடைந்துள்ளது ஏனென்றால்

- a) அரசியல் தலைமை
- b) தொழில் மேம்பாடு
- c) அதிகாரவர்க்கத்தின் செயல்திறன்
- d) சமூக பொருளாதார ரீதியாக வேறுபட்ட பணியாளர்களை ஆட்சேர்ப்பு செய்தல்

சரியான குறியீட்டை தெருவு செய்க

- a) 1,2
- b) 2,3
- c) ,2,3,4
- d) 1,2,3,4



83. Between 1967 to 1971 all bus services in private hands were Nationalised and several regional state owned corporation were set up because

- a) To Develop Transport department in Tamilnadu
- b) Providing employment opportunity
- c) To enhance the state revenue
- d) It was in the hand of the traditionally wealthy and landlords & upper castes

1967 முதல் 1971 வரை தனியார் வசம் உள்ள அனைத்து பேருந்து சேவைகளும்

தேசியமயமாக்கப்பட்டன மற்றும் பல பிராந்திய அரசுக்கு சொந்தமான வட்டார போக்குவரத்து கழகங்கள் அமைக்கப்பட்டது ஏனென்றால்

- a) தமிழகத்தில் போக்குவரத்தினை மேம்படுத்த
- b) வேலைவாய்ப்பு அளிக்க
- c) மானிலத்தின் வருவாயை உயர்த்த
- d) இது பாரம்பரியமாக செல்வந்தர்கள் மற்றும் நில உரிமையாளர்கள் மற்றும் உயர் சாதியினரின் கையில் இருந்தது

84. Reservations in Tamil Nadu have thus increased, according to demands, from 41% in 1954 to 69% in

- a) 1970
- b) 1971
- c) 1993
- d) 1990

தமிழ்நாட்டில் இடஒதுக்கீடு கோரிக்கையை ஏற்று 1954ல் 41% ஆக இருந்தது எப்போது 69 சதவீதமாக உயர்த்தப்பட்டது

- a) 1970
- b) 1971
- c) 1993
- d) 1990

85. Government has entered into a Memorandum of Understanding with the Abdul Latif Jameel - Poverty Action Lab (J-PAL) of the Massachusetts Institute of Technology, USA,

- a) formulation and evaluation of various schemes in the State
- b) Protecting Environment
- c) Financial Management
- d) None of the Above

தமிழக அரசு அப்துல் லத்திப் ஜமீல்- -வறுமை செயல்பாட்டு ஆய்வகம் அற்றும் மாசசெசட் தொழிலுட்ப நிறுவனம் ஆகியவற்றுடன் எதற்காக புரிந்துணர்வு ஒப்பந்தம் செய்துள்ளது

- a) மா நிலத்தில் பல்வேறு திட்டங்களை உருவாக்குதல் மற்றும் மதிப்பீடு செய்தல்



- b) சூழ்நிலையை பாதுகாத்தல்
- c) நிதி மேலாண்மை
- d) மேற்கண்ட எதுவுமில்லை

86. The 'Kabir Puraskar' Award given for

- a) social and communal harmony
- b) Disaster Mangement
- c) Scheme Implementation
- d) None of the above

கபீர் புரஸ்கார் விருது எதற்காக கொடுக்கப்படுகிறது

- a) சமூக நல்லிணக்கம்
- b) பேரிடர் மேலாண்மை
- c) திட்டங்கள் செயல்படுத்துதல்
- d) மேற்கண்ட எதுவுமில்லை

87. Tamil Nadu within the country have been hailed as a model in recent years for combining relatively high growth with high levels of human development due to

- a) High per Capita income in India
- b) Welfare Schemes for the vulnerable
- c) poverty reduction
- d) Improvement in Health Indicators

Choose the Correct Code

- a) 1,2,3
- b) 2,3,4
- c) 1,2,3,4
- d) 1,3,4

இந்தியாவில் தமிழ்நாடு சமீபத்திய ஆண்டுகளில் ஒரு மாதிரியாக பாராட்டப்பட்டது, ஏனெனில் ஒப்பீட்டளவில் உயர் வளர்ச்சியை மனித வளர்ச்சியின் உயர் மட்டத்துடன் இணைத்தது எதனால்

- I. இந்தியாவில் அதிகமான தனி நபர் வருமானம்
- II. நலிவடைந்த பிரிவினருக்கான நலத்திட்டங்கள்
- III. வறுமைக் குறைப்பு
- IV. சுகாதாரக் குறியீடுகளில் முன்னேற்றம்

சரியான குறியீட்டினை தேர்ந்தெடு

- a) 1,2,3
- b) 2,3,4
- c) 1,2,3,4
- d) 1,3,4



88. which District in Tamilnadu Having Highest Per Capita income & Human Development

Index

- a) Kanchipuram b) Kanniyakumari
c) Tutucorin d) Chennai

தமிழ்நாட்டில் எந்த மாவட்டம் அதிகமான தன் நபர் வருவாய் மற்றும் மனித மேம்பாட்டுக் குறியீட்டில் முன்னணியில் உள்ளது

- a) காஞ்சிபுரம் b) கன்னியாகுமரி
c) தூத்துக்குடி d) சென்னை

89. Social reform movement Tamilnadu Leads to

- a) Abolition of Caste surname
b) Women Empowerment
c) Protection of Minorities
d) All of the above

தமிழகத்தில் சமூக சீர்திருத்த இயக்கங்கள் எதற்கு வித்திட்டது

- a) சாதிப் பெயரொட்டினை நீக்குதல்
b) பெண்கள் அதிகாரம்
c) சிறுபான்மையினர் பாதுகாப்பு
d) மேற்கண்ட அனைத்தும்

90. Cradle Baby' scheme was launched in 1992 in Salem district to combat

- a) the low sex ratio
b) Female infanticide.
c) provides financial incentives
d) A&B

1992 ஆம் ஆண்டு சேலம் மாவட்டத்தில் தொட்டில் குழந்தை திட்டம் எதனை எதிர்த்து துவக்கப்பட்டது

- a) குறைவான பாலின விகிதம்
b) பெண் சிசுக்கொலை
c) நிதி உதவி வழங்குதல்
d) அ & ஆ



91. Which one of the following Tamil Nadu's scheme hailed as model scheme for the country

- I. PDS
- II. Mid-Day Meals
- III. Anganwadis
- IV. Maternal Assistance Program

Choose the correct code

- a) I,II,IV b) I,II,III c) II,III,IV d) I,II,III,IV

கீழ்க்கண்டவற்றுள் நாட்டிற்கே முன்னுதாரணமாக அமைந்த தமிழகத்தின் திட்டங்கள்

- I. பொது விநியோகத் திட்டம்
- II. மதிய உணவுத்திட்டம்
- III. அங்கன்வாடிஸ்
- IV. மகப்பேறு நிதியுதவித் திட்டம்

- a) I,II,IV b) I,II,III c) II,III,IV d) I,II,III,IV

92. The Chief Minister's 'Uzhavar Paadhukaappu Thittam' was launched on 10th September, 2011. Objective of the Scheme is to Provide

- a) Social security to the families of farmers and agricultural labourers from birth to death.
- b) Providing financial Assistance every year
- c) Exemption from paying of land revenue
- d) Providing Insurance to farmers family

முதலமைச்சரின் உழவர் பாதுகாப்பு திட்டம் செப்டம்பர் 10 2011 அன்று துவக்கப்பட்டது இத்திட்டத்தின் நோக்கம்

- a) விவசாயிகள் மற்றும் விவசாயத் தொழிலாளர்களின் குடும்பங்களுக்கு பிறப்பு முதல் இறப்பு வரை சமூக பாதுகாப்பு அளிப்பது
- b) ஆண்டு தோறும் நிதி உதவி அளிப்பது
- c) நில வருவாய் செலுத்துவதிலிருந்து விலக்கு
- d) விவசாயிகளின் குடும்பத்திற்கு காப்பீடு வழங்குவது

93. The Tamil Nadu government's two-wheeler subsidy for women applicable to

- a) Public servant



- b) Working women
- c) All women
- d) The family headed by women

தமிழக அரசின் பெண்களுக்கான ஒரு சக்கர வாகன மானியத்திட்டம் யாருக்கு பொருந்தும்

- a) அரசுப்பணியாளர்
- b) வேலை செய்யும் பெண்கள்
- c) அனைத்து பெண்களுக்கும்
- d) குடும்பத்தை தலைமை தாங்கும் பெண்

94. Arrange in descending order:

$3\sqrt{12}$, $4\sqrt{20}$, $6\sqrt{25}$, $\sqrt{80}$, $12\sqrt{112}$

- a) $\sqrt{80}$, $3\sqrt{12}$, $4\sqrt{20}$, $6\sqrt{25}$, $12\sqrt{112}$
- b) $\sqrt{80}$, $3\sqrt{12}$, $4\sqrt{20}$, $12\sqrt{112}$, $6\sqrt{25}$
- c) $3\sqrt{12}$, $\sqrt{80}$, $4\sqrt{20}$, $6\sqrt{25}$, $12\sqrt{112}$
- d) $6\sqrt{25}$, $12\sqrt{112}$, $3\sqrt{12}$, $\sqrt{80}$, $4\sqrt{20}$

இறங்கு வரிசையில் எழுது:

$3\sqrt{12}$, $4\sqrt{20}$, $6\sqrt{25}$, $\sqrt{80}$, $12\sqrt{112}$

- A. $\sqrt{80}$, $3\sqrt{12}$, $4\sqrt{20}$, $6\sqrt{25}$, $12\sqrt{112}$
- B. $\sqrt{80}$, $3\sqrt{12}$, $4\sqrt{20}$, $12\sqrt{112}$, $6\sqrt{25}$
- C. $3\sqrt{12}$, $\sqrt{80}$, $4\sqrt{20}$, $6\sqrt{25}$, $12\sqrt{112}$
- D. $6\sqrt{25}$, $12\sqrt{112}$, $3\sqrt{12}$, $\sqrt{80}$, $4\sqrt{20}$

95. Find the range of the following data:

25, 67, 78, 43, 21, 17, 49, 54, 76, 92, 20, 45, 86, 37, 35.

- a) 78
- b) 75
- c) 92
- d) 86

கீழே கொடுக்கப்பட்டுள்ள விவரங்களின் வீச்சு என்ன?

25, 67, 78, 43, 21, 17, 49, 54, 76, 92, 20, 45, 86, 37, 35.

- A. 78



- B. 75
- C. 92
- D. 86

96. A is B's sister, C is B's mother, D is C's father, E is D's mother. Then, A is the -----
- of D.

- A. Grand mother
- B. Grand father
- C. Daughter
- D. Grand daughter

A என்பவர் B-ன் சகோதரி, C என்பவர் B-ன் தாய், D என்பவர் C-ன் தகப்பன் மற்றும் E என்பவர் D-ன் தாய் என்றால், A என்பவர் D-ன் -----

- A. பாட்டி
- B. தாத்தா
- C. மகன்
- D. பேத்தி

97. Find out the missing term in the given alphabet series.

AZ, GT, MN, -----, YB

- A. JH
- B. SH
- C. SK
- D. TS

பின்வரும் சொல் தொடர் வரிசையில் விடுபட்ட தொடர் என்ன?

- A. JH
- B. SH
- C. SK
- D. TS

98. 7 men can complete a work in 52 days. In how many days will 13 men finish the same work?

- A. 20 days



- B. 13 days
- C. 7 days
- D. 28 days

7 ஆட்கள் ஒரு வேலையை 52 நாட்களில் செய்து முடிக்கின்றனர். அதே வேலையை 13 ஆட்கள் எத்தனை நாட்களில் செய்து முடிப்பார்கள்?

- A. 20 நாட்கள்
- B. 13 நாட்கள்
- C. 7 நாட்கள்
- D. 28 நாட்கள்

99. Find the LCM of 4^5 , 4^{-81} , 4^{12} and 4^7

- A. 4^{12}
- B. 4
- C. 4^2
- D. 4^{-2}

4^5 , 4^{-81} , 4^{12} மற்றும் 4^7 -ன் மீ.பொ.பெ காண்க.

- A. 4^{12}
- B. 4
- C. 4^2
- D. 4^{-2}

100. Find the missing number in the following:

4242, 4254, 4230, 4266, 4218, 4278-----

- A. 4264
- B. 4272
- C. 4228
- D. 4206

கீழே கொடுக்கப்பட்டுள்ள எண் வரிசையில் விடுபட்ட எண்ணைக் கண்டுபிடி:

4242, 4254, 4230, 4266, 4218, 4278-----

- A. 4264
- B. 4272
- C. 4228



D. 4206

101. The average of 4 values is 20 and when a quantity is added to each value the average is 22. Find the quantity.

- A. 1
- B. 2
- C. 3
- D. 4

4 மதிப்புகளின் சராசரி 20 ஆகும். ஒரு எண் 4 மதிப்புகளிலும் கூட்டப்பட்ட பின் சராசரி 22 எனில் கூட்டப்பட்ட எண் என்ன?

- A. 1
- B. 2
- C. 3
- D. 4

102. Find the H.C.F of $\frac{4}{9}$, $\frac{2}{5}$, $\frac{6}{8}$, $\frac{2}{5}$

- A. $\frac{1}{180}$
- B. $\frac{2}{481}$
- C. $\frac{2}{350}$
- D. $\frac{1}{142}$

$\frac{4}{9}$, $\frac{2}{5}$, $\frac{6}{8}$, $\frac{2}{5}$ -ன் மீ.பொ.வ என்ன?

- A. $\frac{1}{180}$
- B. $\frac{2}{481}$
- C. $\frac{2}{350}$
- D. $\frac{1}{142}$

103. Find the principal that yield a compound interest of Rs. 1,632 in 2 years at 4% rate of interest per annum .

- A. Rs. 10,000
- B. Rs. 20,000
- C. Rs. 30,000
- D. Rs. 40,000



4% ஆண்டு வட்டி வீதப்படி 2 ஆண்டுகளில் ரூ.1,632 கூட்டு வட்டி தரும் என்றால் அசலைக் கணக்கிடவும்.

- A. ரூ. 10,000
- B. ரூ. 20,000
- C. ரூ. 30,000
- D. ரூ. 40,000

104. Mohan started from point P and walked 2 Km towards west. He then took a right turn and walked 3 m before taking a left turn and walked 5 m. He finally took a left turn, walked 3 m and stopped at a point Q. How far is point Q from point P?

- A. 2 m
- B. 6 m
- C. 7 m
- D. 8 m

மோகன் என்பவர் P என்ற இடத்திலிருந்து புறப்பட்டு மேற்கே 2 மீ தூரம் செல்கிறார். பின் வலப்பக்கம் திரும்பி 3 மீ தூரம் சென்று, இடப்பக்கம் திரும்பி 5 மீ தூரம் சென்று, இறுதியாக இடப்பக்கம் திரும்பி 3 மீ தூரம் சென்று Q என்ற புள்ளி P-புள்ளியில் இருந்து எவ்வளவு தூரத்தில் இருக்கிறது?

- A. 2 மீ
- B. 6 மீ
- C. 7 மீ
- D. 8 மீ

105. Richard is fifteenth from the front in a column of boys. There were thrice as many behind him as there were in front. How many boys are there between Richard and the seventh boy from the end of the column?

- A. 33
- B. 34
- C. 35
- D. 36

ரிச்சர்ட் என்பவர் ஒரு வரிசையில் முன் இருந்து 15-வது நபராக நிற்கிறார். அவருக்கு பின், முன் இருப்பவர்களின் எண்ணிக்கையில் மூன்று மடங்கு என்றால், அவருக்கும் வரிசையில் பின் இருந்து 7-வது நிற்கும் நபருக்கும் இடையே எத்தனை நபர்கள் உள்ளனர்?



- A. 33
- B. 34
- C. 35
- D. 36

106. If 12 composers can compose 60 pages of a book in 5 hours, how many composers will compose 200 pages of the book in 20 hours?

- A. 8
- B. 10
- C. 12
- D. 11

12 அச்சுக் கோப்பவர்கள், 5 மணி நேரத்தில் ஒரு புத்தகத்தின் 60 பக்கங்களை முடிப்பர். 20 மணி நேரத்தில், 200 பக்கங்களை முடிக்க எத்தனை அச்சுக் கோப்பவர்கள் தேவை?

- A. 8
- B. 10
- C. 12
- D. 11

107. Consider the Following facts related to Law of Conservation of Mass and choose the best?

- a) Mass can neither be created nor destroyed during a physical or a chemical change
- b) Mass can neither be created nor destroyed during a physical change
- c) Mass can neither be created nor destroyed during a chemical change
- d) None of the above

ஆற்றல் அழிவின்மை விதியுடன் கீழ்க்கண்ட வாக்கியங்களை பொருத்திப்பார்த்து சரியான விடையை தேர்ந்தெடு

- a) நிறையை இயற்பியல் மற்றும் வேதியல் மாற்றத்தின் போது ஆக்கவோ அழிக்கவோ முடியாது
- b) நிறையை இயற்பியல் மாற்றத்தின் போது ஆக்கவோ அழிக்கவோ முடியாது
- c) நிறையை வேதியல் மாற்றத்தின் போது ஆக்கவோ அழிக்கவோ முடியாது



d) மேற்கண்ட எதுவுமில்லை

108. In which Circuit the current can flow only in one direction

- a) Simple Circuit b) Series Circuit c) parallel circuit d) None of the Above

எவ்வகையான சுற்றோட்டத்தில் மின்னோட்டம் ஒரே திசையை நோக்கிப் பாயும்

- a) தனிச்சுற்று b) தொடர் சுற்று c) பக்கச்சுற்று d) மேற்கண்ட எதுவுமில்லை

109. The velocity of the body thrown vertically upwards will decrease by

- a) 9.8m/s b) 11 m /s c) 10 m/s d) 8.9 m/s

மேல் நோக்கி செங்குத்தாக எறியப்படும் பொருளின் வேகமானது எவ்வளவு?

- a) 9.8 மீ/வி b) 11 மீ/வி c) 10 மீ / வி d) 8.9 மீ / வி

110.Total Internal Refraction of light is possible when light enters from

- a) Vacuum to air b) air to glass c) water to air d) air to water

முழு அக எதிரொளிப்பு எப்போது ஒளி ஒரு பொருளிலிருந்து இன்னொரு பொருளிற் செல்லும்போது சாத்தியப்படும்

- a) வெற்றிடத்தில் இருந்து காற்று b) காற்றிலிருந்து கண்ணாடி
c) நீரிலிருந்து காற்று d) காற்றிலிருந்து நீர்

111. PSLV and GSLV are worked based on the principle of

- a) Newton's third law
b) Newton's First law
c) Newton second Law
d) Kepler planetary motion

பிஎஸ்எல்வி மற்றும் ஜிஎஸ்எல்வி எதனடிப்படையில் செயல்படுகிறது

- a) நியூட்டன் 3 ஆம் விதி
b) நியூட்டன் முதல் விதி
c) நியூட்டன் இரண்டாம் விதி
d) கெப்ளரின் விதிகள்

112. Consider the Following Statement and choose the correct one



- I. Adrenal gland also known as supra renal glands, as they are located just on the top of the kidneys.
 - II. It secretes testosterone hormone.
 - III. This hormone is produced during stress or emergency situations.
 - IV. It regulates heart beat, breathing rate, blood pressure etc.
- a) I, II, IV are Correct b) I,II,III,IV are Correct
c) I,III,IV are Correct d) All of these

கீழ்க்கண்ட வாக்கியங்களைப் படித்து சரியான விடையை தேர்ந்தெடு

- a) இது சிறு நீரகத்தின் மேல் அமைந்து காணப்படுவதால் சுப்ராரீனல் சுரப்பி எனவும் அழைக்கப்படுகிறது.
- b) இது டெஸ்ட்ரோஜென் எனும் ஹார்மோனை சுரக்கிறது
- c) மிகுந்த மன அழுத்தம் மற்றும் அவசர காலங்களில் சுரக்கிறது
- d) இதயத்துடிப்பு, சுவாசம் , இரத்தஓட்டம் ஆகியவற்றை ஒழுங்குபடுத்துகிறது
- a) 1,2,4 சரி b) 1,2,3,4 சரி c) 1,3,4 சரி d) அனைத்தும் சரி

113. Arrange the nitrogen fixation process

- I) Nitrogen assimilation II) Ammonification III) Denitrification
IV) Nitrification V) Nitrogen fixation

Choose the correct code

- a) V,I,II,IV,III b) I,II,III,IV,V b) I,III,IV,V,II d) none of the above

நைட்ரஜன் நிலைப்படுத்துதலை வரிசைப்படுத்துக

- 1) நைட்ரஜன் தன்மயமாதல் 2) அமோனியாவாதல் 3) நைட்ரஜன் வெளியேற்றம் 4) நைட்ரேட்டாதல் 5) நைட்ரஜன் நிலை நிறுத்தப்படுதல்
- a) 5,1,2,4,3 b) 1,2,3,4,5 c) 1,3,4,5,2 d) மேற்கண்ட எதுவுமில்லை

114. Water is usual as coolant In the radiator of a car engine because it

- a) Has a low boiling point
b) Has low density
c) Is easily available
d) Has a high specific heat

வாகன ரேடியேட்டர்களில் தண்ணீர் ஏன் பொதுவான குளிர்விப்பானாக இருக்கிறது ஏனென்றால்

- a) குறைந்தபட்ச கொதி நிலை உடையது



- b) குறைந்த அடர்த்தி
- c) எளிமையாக கிடைப்பதால்
- d) அதிக தன்வெப்ப ஏற்புத்திறனை கொண்டிருப்பதால்

115. Blood clotting means that

- A) fibrinogen changes into fibrin
- B) red blood corpuscles die
- C) white blood corpuscles die
- D) none of these

இரத்தம் உறைவது என்பது

- A) பைப்ரினோஜென் பைப்ரின் ஆக மாறுவதால் நிகழ்கிறது
- B) சிவப்பு அணுக்கள் இறந்துவிடுவதால் நிகழ்கிறது
- C) வெள்ளையணுக்கள் இறந்துவிடுவதால் நிகழ்கிறது
- D) இவற்றுள் ஏதுமில்லை.

116. National Science day is celebrated in India on 28th February to Mark

- a) Discovery of life in plants by J.C Bose
- b) Launch of Aryabhata Satellite
- c) Commissioning of India's first nuclear reactor Aspara
- d) Discovery of Raman effect by C.V Raman

ஆண்டுதோறும் தேசிய அறிவியல் தினம் 28 பிப்ரவரி என்று எதனை நினைவு படுத்துவதற்காக

- a) தாவரங்களின் வாழ்க்கையை ஜே சி போஸ் கண்டறிந்ததற்காக
- b) ஆர்யபட்டா விண்கலம் செலுத்தப்பட்டதற்காக
- c) இந்தியாவின் முதல் அணுவலையான அப்சரா செயல்பட ஆரம்பித்ததால்
- d) ராமன் விளைவினை சர் சி வி ராமன் கண்டுபிடித்ததற்காக

117. In eye donation which part of eye of the donor is utilized

- a) Iris
- b) Lens
- c) Retina
- d) Cornea

கண் தானத்தில் கண்ணின் எந்தப் பகுதி பயன்படுத்தப்படும்

- a) ஐரிஸ்
- b) லென்ஸ்
- c) ரெட்டினா
- d) கார்னியா



118. Developing scientific temper is a fundamental duty as per the Constitution of India article

- a) 21 b) 13 c) 41A d) Article 51 A(h)

இந்திய அரசியலமைப்பின் விதி அறிவியல் மண்பாங்கை மேம்படுத்துவது அடிப்படைக் கடமை எனக் குறிப்பிடுகிறது

- a) 21 b) 13 c) 41A d) Article 51 A(h)

119. Which four countries called the asian tiger ?

- a) Hong kong , Singapore , South Korea , Taiwan
b) Hong Kong , China , Singapore , Taiwan
c) Hong kong , Malaysia , Singapore , China
d) China , India , Vietnam , Indonesia

கீழ்க்கண்டவற்றில் எது ஆசியப் புலிகள் என அழைக்கப்படும் நாடுகள்

- a) ஹாங்காங் , சிங்கப்பூர், தென்கொரியா , தைவான்
b) ஹாங்காங் , சீனா, சிங்கப்பூர், தைவான்
c) ஹாங்காங், மலேசியா, சிங்கப்பூர், சீனா
d) சீனா, இந்தியா, வியட் நாம் , இந்தோனேசியா

120. What is the correct sequence of the location of the following sea ports of India from south to North?

- a) Cochin , Thiruvananthapuram, Calicut, Mangalore,
b) Calicut , Thiruvananthapuram, Cochin , Mangalore
c) Thiruvananthapuram , Cochin , Calicut , Mangalore
d) Mangalore , Calicut , Cochin , Thiruvananthapuram

தெற்கிலிருந்து வடக்கே இந்தியாவின் பின்வரும் கடல் துறைமுகங்களின் இருப்பிடத்தின் சரியான வரிசை என்ன?

- a) கொச்சின், திருவனந்தபுரம், கோழிக்கூடு, மங்களூர்
b) கோழிக்கூடு, திருவனந்தபுரம், கொச்சின், மங்களூர்
c) திருவனந்தபுரம், கொச்சின், கோழிக்கூடு, மங்களூர்
d) மங்களூர், கோழிக்கூடு, கொச்சின், திருவனந்தபுரம்

121. Which one is wrongly matched?



IYACHAMY ACADEMY

(Associated With www.iyachamy.com)
Institution For Competitive Exam

Rivers

Origin

- | | |
|-------------|--------------------|
| a) Godavari | - Nasik Hills |
| b) Tapti | - Bettul |
| c) Periyar | - Agasthiyar hills |
| d) Vaigai | - Cardaman hills |

கீழ்க்கண்டவற்றுள் தவறாக இணைக்கப்பட்டது எது

ஆறுகள்

தோன்றுமிடம்

- | | |
|-------------|--------------------|
| a) கோதாவரி | - நாசிக் குன்றுகள் |
| b) தபதி | - பேட்டுள் |
| c) பெரியார் | - அகஸ்திய மலை |
| d) வைகை | - ஏலக்காய் மலை |

122. India experiences

- | | |
|----------------------|-----------------------------|
| a) Temperate climate | b) Tropical Monsoon climate |
| c) Tropical climate | d) Cold climate |

இந்தியா எவ்வகை கால நிலையை கொண்டுள்ளது

- | | |
|-------------------------|---------------------------|
| a) வெப்ப மண்டல கால நிலை | b) அயன மண்டல மழை கால நிலை |
| c) அயனமண்டல கால நிலை | d) குளிர்கால கால நிலை |

123. The exact matching of the marked types of forests in the map is



- a) 1 - Mangrove forests, 2 - Desert forests, 3 - Evergreen forests
b) 1 - Evergreen forests, 2 - Mangrove forests, 3 - Desert forests
c) 1 - Mangrove forests, 2 - Alpine forest of Himalayas, 3 - Evergreen forests
d) 1 - Desert forests, 2 - Evergreen forests, 3 - Mangrove forests.

- (A) 1 — மாங்குரோவ் காடுகள், 2 — பாலைவனக் காடுகள், 3 — பசுமை மாறாக் காடுகள்
(B) 1 — பசுமை மாறாக் காடுகள், 2 — மாங்குரோவ் காடுகள், 3 — பாலைவனக் காடுகள்
(C) 1 — மாங்குரோவ் காடுகள், 2 — இமயமலை ஆல்பைன் காடுகள், 3 — பசுமை மாறாக் காடுகள்
(D) 1 — பாலைவனக் காடுகள், 2 — பசுமை மாறாக் காடுகள், 3 — மாங்குரோவ் காடுகள்.

124. Which of the following statement is correct?

Statement 1: The highest hills of Eastern Ghats is Shervarayan

Statement 2: The highest hills of Western Ghats is Anaimalai

- a) 1 b) 2 c) both d) None

கீழ்க்கண்டவற்றுள் சரியான கூற்று எது

கூற்று 1: கிழக்குத்தொடர்ச்சி மலையின் உயர்ந்த சிகரம்



கூற்று 2: மேற்குத்தொடர்ச்சி மலையின் உயர்ந்த சிகரம் ஆணைமலை

- a) 1 சரி b) 2 சரி c) இரண்டும் d) எதுவுமில்லை

125. During the Period of south west monsoon , Tamilnadu remains dry because

- a) The winds do not reach in the area
b) There are no mountains in this area
c) It lies in the rain shadow area
d) The temperature is too high to let the winds cool down

தென்மேற்கு பருவமழையின் போது தமிழ் நாடு வறட்சியாக வே இருக்கிறது ஏனென்றால்

- a) காற்று இப்பகுதிக்கு வருவதில்லை
b) இந்தப்பகுதிகளில் மலைக இல்லை
c) மழை மறைவுப் பகுதியில் அமைந்துள்ளது
d) வெப்ப நிலை அதிகமாக உள்ளது அதனால் காற்று குளிர்ச்சியடைவதில்லை

126. What is the correct chronological order .which the following kings ruled in India?

1. Bimbisara 2. Mahapadma Nanda 3. Kanishka | 4. Skandagupta

Select the correct answer using the codes given below

- a) 1,2,3 and 4 b) 4,3,2 and 1 c) 2,3,4 and 1 d) 3,1,4 and 2

இந்தியாவை ஆண்ட அரசர்களை காலவரிசைப்படி எழுது

- 1,பிம்பிசாரர் 2. மகாபத்ம நந்தர் 3, கனிஷ்கர் 4.ஸ்கந்தகுப்தா

சரியான குறியீட்டை தேர்ந்தெடு

- a) 1,2,3,4 b) 4,3,2,1 c) 2,3,4 மற்றும் 1 d) 3,1,4,மற்றும் 2

127.Which of the following was not similar between Jainism and Buddhism?

- a) Belief in Karma b) Belief in Atheism
c) Belief in Ahimsa d) Belief in Rigorous Asceticism

புத்தம் மற்றும் சமணத்திற்கிடையில் பொதுவாக காணப்படாத ஒன்று

- a) கர்மாவில் நம்பிக்கை b) நாத்திகத்தில் நம்பிக்கை
c) அகிம்சையில் நம்பிக்கை d) தீவிர துறவில் நம்பிக்கை

128. Fa-Hien's mission to India was to

- a) Learn about the administrative system of the Gupta kings



- b) Understand the social position of women during the Gupta period
- c) Visit the Buddhist institutions and to collect copies of Buddhist manuscripts
- d) get full knowledge about the condition of peasants during the period of Gupta kings

பாஹியானின் இந்தியப் பயணமானது

- a) குப்தர்களின் நிர்வாக முறையை அறிந்து கொள்வது
- b) குப்தர்களின் காலத்தில் பெண்களின் சமூக நிலையை அறிந்து கொள்வது
- c) புத்த சமய நிறுவனங்களை பார்வையிட்டு புத்தசமய எழுத்துக்களை பிரதியெடுத்துக் கொள்வது
- d) குப்தர்களின் காலத்தின் விவசாயிகளின் நிலையை அறிந்து கொள்வது

129. Assertion (A) The emphasis of Jainism on non-violence (Ahimsa) prevented agriculturist from embracing Jainism.

Reason (R) Cultivation involved killing of insects and pests.

- a) Both A and R are true and R is the correct explanation of A
- b) Both A and R is true but is not a correct explanation of A
- c) A is true but R is false
- d) A is false but R is true

கூற்று: சமண மதத்தின் தீவிரமன் அகிம்சைக் கொள்கை விவசாயிகளை சமண மதத்திற்கு தழுவுவதை தடுத்தது

காரணம்: பயிரிடுதல் பூச்சிகள் மற்றும் உயிரிகளைக் கொல்ல வேண்டி இருந்தது

- a) கூற்று மற்றும் காரணம் சரி கூற்றுக்கு காரணம் சரியான விளக்கமாகும்
- b) கூற்று மற்றும் காரணம் சரி ஆனால் கூற்றுக்கு காரணம் சரியான விளக்கமல்ல
- c) கூற்று சரி காரணம் தவறு
- d) கூற்று தவறு காரணம் சரி

130. Who calls Election Commission of India as an effective 'bulwark of free and fair elections' ?

- a) Alistair McMillan
- b) Lloyd and Susanne Rudolph
- c) R.P. Bhalla
- d) M. Katju

"வெளிப்படையான தேர்தல் நேர்மையான தேர்தலுக்கு அரண் போன்றது இந்தியத் தேர்தல் ஆணையம்"

இது யார் கூற்று

- a) அலிஸ்டெயர் மேக்மிலன்
- b) லாய்டு மற்றும் சுசன்னை ரூடால்ப்
- c) ஆர் பி பாலா
- d) எம் கட்டி



131. Consider the following statement and choose the correct one

- a) Chief minister and council of ministers collectively responsible to the governor
- b) Chief minister and council of ministers are the Nominal Head of the state government
- c) Governor is the Real Head of the state government
- d) The Governor has to take oath before the Chief judge of the high court

கீழ்க்கண்ட கூற்றுக்களை ஆராய்ந்து சரியான ஒன்றைத் தேர்ந்தெடுக்கவும்

- a) முதலமைச்சர் மற்றும் அமைச்சரவை ஆளுனருக்கு கூட்டுப்பொறுப்பு உடையவர்கள்
- b) முதலமைச்சர் மற்றும் அமைச்சரவை மாணில நிர்வாகத்தில் பெயரளவிலான அதிகாரம் கொண்டவர்கள்
- c) ஆளுனர் மாணில நிர்வாகத்தின் உண்மையான செயல் அதிகாரம் கொண்டவர்
- d) ஆளுனர் மாணில உயர் நீதிமன்ற நீதிபதியின் முன்பு பதவியேற்றுக்கொள்வார்

132. In any state of india Legislative council can be created or abolished by

- a) By the parliament
- b) By the president on the recommendation of the governor of the state
- c) By the governor on the recommendation of the council of ministers
- d) By the parliament as per the resolution passed by the legislature assembly of the state

இந்தியாவில் ஒரு மாநிலத்தின் சட்ட மேலவை கலைக்கப்படவோ அல்லது உருவாக்க எவ்வாறு முடியும்

- a) பாரளமன்றத்தினால்
- b) குடியரசுத்தலைவரால் மாணில ஆளுனரின் பரிந்துரையின் பேரில்
- c) ஆளுனரால் அமைச்சரவையின் பரிந்துரையின் பேரில்
- d) பாரளமன்றத்தினால் சட்டப்பேரவையில் சட்டமேலவையை கலைக்க வேண்டுமென தீர்மானத்தின் பேரில்

133. The Constitution Describes India as a

- a) Federation of states
- b) Union of States
- c) Confederation of States
- d) Unitary State

அரசியலமைப்பு இந்தியாவை எவ்வாறு கூறுகிறது



- a) மாணிலங்களின் கூட்டமைப்பு
b) மாணிலங்களின் கூட்டினைவு
c) மாணிலங்களின் குழு
d) ஒற்றையாட்சி நாடு

134. The lokpal bill was first introduced in / லோக்பால் மசோதா முதன்முறையாக எப்போது தாக்கல் செய்யப்பட்டது

- a) 1988 b) 1969 c) 2011 d) 1977

135. Consider the Following statement Indian Constitution is

- I. Written Constitution II. Unitary state III. Universal Adult Franchise
IV. Secular State

Choose the Correct Code

- a) 1,2,3 only b) 2, 3,4 only a) 1,3,4 only d) 1,2,3,4

இந்திய அரசியலமைப்பு தொடர்பான கூற்றுகளை ஆராய்க

1) எழுதப்பட்ட அரசியலமைப்பு 2) ஒற்றையாட்சி நாடு

3) வயது வந்தோர் வாக்குரிமை 4) மதச்சார்பற்ற நாடு

சரியான குறியீட்டை தேர்ந்தெடு

- a) 1,2,3 சரி b) 2,3,4 சரி c) 1,3,4 சரி d) 1,2,3,4 சரி

136. The Vice president of India is elected by

- A) The Rajya sabha
B) Rajya sabha and Lok sabha
c) Rajya sabha, Lok sabha and State legislatures
D) The elected members of Lok sabha and Rajya sabha

இந்திய துணைக் குடியரசுத் தலைவர் கீழ்க்காணும் முறையில் தேர்ந்தெடுக்கப்படுகிறார்?

- a) மாநிலங்களவையால்
b) மாநிலங்களவை மற்றும் மக்களவையால்
c) மாநிலங்களவை, மக்களவை மற்றும் மாநில சட்டமன்றம் ஆகியவையால்
d) மாநிலங்களவை மற்றும் மக்களவையில் உள்ள தேர்ந்தெடுக்கப்பட்ட உறுப்பினர்களால்

137. Which of the following is the correct Statement with regard to the Emergency Provision of Indian Constitution

- a) The Constitution Mention the four type of Emergency



- b) Emergency provisions are described from article 340 to 356 in the Indian Constitution
- c) Financial emergency has never been Imposed in Indi
- d) Emergency under Article 356 can be imposed on the failure of Constitutional Machinery at the union level

இந்திய அரசியலமைப்பில் கூறப்பட்டுள்ள அவசரகால பிரகடனத்தோடு தொடர்புடைய ஒன்று

- a) அரசியலமைப்பு 4 வகையான அவசர நிலையை குறிப்பிடுகிறது
- b) அவசர நிலை விதிகள் அரசியலமைப்புச் சட்டத்தில் விதி 340 முதல் 356 வரை விவரிக்கப்பட்டுள்ளது
- c) இந்தியாவில் நிதி நெருக்கடி இதுவரை அமல்படுத்தப்பட வில்லை
- d) அரசியலமைப்புச் சட்டவிதி 356 மத்திய அளவில் அரசு நிர்வாக இயந்திரம் செயலற்றுப் போனால் பயன்படுத்தலாம்

138. The Elected members of the state legislative assembly participate in the elections of

- I. The president of India
- II. The Vice president of India
- III. Members of Rajya sabha
- IV. Members of legislative Council

Choose the Correct code

- a) 1,2,3 b) 1,3,4 c) 1,2,4 d) 1,2,3,4

தேர்தெடுக்கப்பட்ட மாணிலச் சட்டப்பேரவை உறுப்பினர்கள் எந்த தேர்தலில் கலந்து கொள்வார்கள்

- I. குடியரசுத்தலைவர்
- II. துணைக்குடியரசுத் தலைவர்
- III. ராஜ்ய சபா
- IV. சட்ட மேலவை

சரியான குறியீட்டினை தேர்தெடுக்க

- b) 1,2,3 b) 1,3,4 c) 1,2,4 d) 1,2,3,4

139. The Tenure of Chief Election Commissioner of India is

- a) Five Years
- b) Five Years or 65 years of age whichever is earlier



- c) Six Years or 65 years of age whichever is earlier
d) Six Years or 70 years of age whichever is earlier

இந்தியத் தலைமை தேர்தல் ஆணையரின் பதவிக் காலம்

- a) 5 ஆண்டுகள்
b) 5 ஆண்டுகள் அல்லது 65 வயது எது முதலில் வருகிறதோ
c) 6 ஆண்டுகள் அல்லது 65 வயது எது முதலில் வருகிறதோ
d) 6 ஆண்டுகள் அல்லது 70 வயது எது முதலில் வருகிறதோ

140. Open Market Operations refers to

- a) buying and selling of securities, bills, bonds of government as well as private financial institutions by RBI
b) Bank Rate c) credit rate d) none of this

திறந்த வெளிச் செயல்பாடு என்பது எதனை குறிக்கிறது

- a) ரிசர்வ் வங்கியால் அரசு மற்றும் தனியார் நிதி நிறுவனங்களின் , உண்டியல்கள் , பத்திரங்கள் , ஆகியவற்றை வாங்கி விற்பது
b) வங்கி வீதம் c) கடன் வீதம் d) ஏதுமில்லை

141. Find the incorrect

- a) National Water way - 1 - Allahabad to Haldia
b) National Water way - 2 - Mangalkadi to Talcher
c) National Water way - 3 - Kollam to Kottapuram
d) National Water way - 4 - Badrachalam to Puduchery

கீழ்க்கண்டவற்றுள் சரியற்றதைத் தேர்ந்தெடு

- a) தேசிய நீர்வழி - 1 - அலகாபாத் முதல் ஹால்டியா
b) தேசிய நீர்வழி - 2 - மங்கள்காடி முதல் தால்ச்சர்
c) தேசிய நீர்வழி - 3 - கொல்லம் முதல் கோட்டபுரம்
d) தேசிய நீர்வழி - 4 - பத்ராச்சலம் முதல் புதுச்சேரி

142. M3 is also known as

- a) Narrow Money b) Broad Money
c) Government Money d) Black Money

M3 பணம் எவ்வாறு அறியப்படுகிறது



- a) குறுகிய பணம் b) அகண்ட பணம் c) அரசின் பணம் d) கருப்புப் பணம்

143. National income refers to

- a) The value of commodities and services produced by a country during a year.
b) The value of commodities by a country during a year.
c) The value of services produced by a country during a year.
d) Per capita income of Citizens

தேசிய வருமானம் என்பது எதனைக் குறிக்கிறது

- a) ஒரு ஆண்டுக்காலத்தில் உற்பத்தி செய்யப்பட்ட பண்டங்கள் மற்றும் பணிகளின் மதிப்பு
b) ஒரு ஆண்டுக்காலத்தில் உற்பத்தி செய்யப்பட்ட பண்டங்களின் மதிப்பு
c) ஒரு ஆண்டுக்காலத்தில் உற்பத்தி செய்யப்பட்ட பணிகளின் மதிப்பு
d) குடிமக்களின் தலா வருமானம்

144. Consider the Following statement

Assertion (A) : Indian Economy is a Developing Economy

Reason (R) : India has disguised unemployment

- a) Both (A) and (R) are true . And (R) is the Correct explanation of A
b) Both (A) and (R) are true . And (R) is not the Correct explanation of A
c) Both (A) and (R) are False
d) (A) is False , but (R) is true

கீழ்க்கண்ட கூற்றுகளை ஆராய்க

கூற்று : இந்தியப் பொருளாதாரம் ஒரு வளர்ந்து வரும் பொருளாதாரம் ஆகும்

காரணம் :: இந்தியாவில் மறைமுக வேலையின்மை உள்ளது

- a) கூற்று காரணம் சரி மேலும் கூற்றுக்கு காரணம் சரியான விளக்கமாகும்
b) கூற்று மற்றும் காரணம் சரி மேலும் கூற்றுக்கு காரணம் சரியான விளக்கமல்ல
c) கூற்று சரி காரணம் தவறு
d) கூற்று தவறு காரணம் சரி

145. Indian Agriculture is Having the following features

- I. Disguised Unemployment
II. High Productivity
III. Majority of Large Farmers



IV. Gambling of monsoon

- a) 1 & 2 only b) 2 & 3 c) 1 & 4 d) All of the above

இந்திய வேளாண்மை கீழ்க்கண்ட சிறப்புகளை கொண்டுள்ளது

- I. மறைமுக வேலைவாய்ப்பின்மை
- II. அதிக உற்பத்தி
- III. அதிக அளவிலான பேரளவு விவசாயிகள்
- IV. பருவமழையின் சூதாட்டம்

சரியான குறியீட்டைத் தேர்ந்தெடு

- a) 1, 2 சரி b) 2 மற்றும் 3
c) 1 மற்றும் 4 சரி d) அனைத்தும் சரி

146. Which one of the following is the objective of Fiscal policy

- a) Increase the rate of Investment
- b) Encourage social optimal investment
- c) Increase employment opportunities
- d) All of the above

நிதிக்கொள்கையின் நோக்கம்

- a) முதலீட்டு வீதத்தை அதிகரிப்பது
- b) சமூக செயல்பாடுகளுக்கான முதலீட்டை அதிகரிப்பது
- c) வேலைவாய்ப்பு வீதத்தை அதிகப்படுத்துவது
- d) மேற்கண்ட அனைத்தும் சரி

147. Special Drawings Rights (SDRs) relate to

- a) World Bank b) Reserve Bank c) IMF d) BRICS

சிறப்பு எடுப்பு உரிமை எதனோடு தொடர்புடையது

- a) உலக வங்கி b) ரிசர்வ் வங்கி c) சர்வதேச நிதியம் d) ப்ரிக்ஸ்

148. Consider the statements :

Arya samaj

- I. Was against idol worship
- II. Was against caste system
- III. Was against ritualism



IV. Was for revival of the Vedas

Of the statements :

- A) I and II are correct
- B) I,II and III are correct
- C) I,II,III and IV are correct
- D) IV alone is correct

ஆரிய சமাজம் தொடர்பான கீழ்க்கண்ட கூற்றுகளை ஆராய்க

- I. சிலை வழிபாட்டுக்கு எதிராக இருந்தது
- II. சாதி முறைக்கு எதிராக இருந்தது
- III. சமயசடங்குகளுக்கு எதிராக இருந்தது
- IV. வேதங்களை மீள்பதிப்பு செய்தது

சரியான குறியீட்டினை தேர்ந்தெடுக்க

- a) 1 மற்றும் 2 சரி b) 1,2,3 சரி c) அனைத்தும் சரி d) 4 மட்டும் சரி

149. The swadeshi movement means

- A) Shouting Anti - British slogans
- B) Boycotting the foreign goods and the use of Indian goods
- c) Wearing a khadi cap
- D) Use of Hindi in conversation

சுதேசி இயக்கம் என்பது

- a) ஆங்கிலேயர்களுக்கு எதிரான முழுக்கம்
- b) அன்னியப் பொருட்களைப் புறக்கணித்து இந்திய பொருட்களை பயன்படுத்துதல்
- c) காதி தொப்பியினை அணிதல்
- d) இந்தியை பேச்சுவார்த்தைக்காக பயன்படுத்துதல்

150. Arrange the chronologically :

- 1) August offer
- 2) Surat split
- 3) Nehru report
- 4) Quit India movement

கீழ்க்கண்டவற்றை காலவரிசைப் படுத்து

- a) ஆகஸ்ட் நன்கொடை b) சூரத் பிளவு



- c) நேரு அறிக்கை
A) 2,1,4,3, are correct
C) 2,1,3,4, are correct
- d) வெள்ளையேனே வெளியேறு
B) 2,3,1,4 are correct
D) 2,4,3,1, are correct

151. Which part of India silent when revolt of 1857 was spreading in India?

- a) South India
c) North India
- b) Central India
d) western India

1857 போராட்டத்தின் போது இந்தியாவின் எந்தப்பகுதி அமைதியாக இருந்தது?

- a) தென் இந்தியா
c) வட இந்தியா
- b) மத்திய ஆசியா
d) மேற்கு இந்தியா

152. Consider the following statements pick the wrong statement related with Mughals

- a) For the administrative purposes the empire was divided into a number of provinces known as subha
b) Each sabha under the Governor
c) The subadar was a incharge of each subha
d) The Subhas were divided into bargana

கீழ்க்கண்ட வாக்கியங்களை வைத்து தவறான விடையை தேர்ந்தெடுக்க - முகலாயர்களின் நிர்வாகம்

- a) நிர்வாக காரணங்களுக்காக பேரரசு பல்வேறு பகுதிகளாக பிரிக்கப்பட்டு சுபா என அழைக்கப்பட்டது
b) ஒவ்வொரு சுபாவும் ஆளுனரின் பொறுப்பில் இருக்கும்
c) சுபேதார் சுபாவின் பொறுப்பாளராக இருப்பார்
d) சுபாக்கள் மேலும் பர்கான எனப்படும் பகுதிகளாக பிரிக்கப்பட்டன.

153. Match List I with List II correctly and select your answer using the codes

given below:

- a) Salt Satyagraha - 1. Dr. Muthulakshmi Reddy.
b) Protest against Devadasi system - 2. N. Somayajulu.
c) Neil Statue Satyagraha - 3. Kasthuri Ranga Iyengar.
d) The Hindu - 4. Vedaranyam.



IYACHAMY ACADEMY

(Associated With www.iyachamy.com)
Institution For Competitive Exam

A) 4 1 3 2

B) 4 1 2 3

C) 1 3 2 4

D) 3 2 4 1 2.

பட்டியல் I ஐ பட்டியல் II உடன் பொருத்தி கீழே கொடுக்கப்பட்டுள்ள குறியீடுகளைக்

கொண்டு சரியான விடையைத் தேர்ந்தெடு:

- a) உப்பு சத்தியாக்கிரகம் - 1. டாக்டர் முத்துலெட்சுமி ரெட்டி .
b) தேவதாசி ஒழிப்பு போராட்டம் - 2. N. சோமயாஜீலு.
c) நீல் சிலை சத்யாகிரகம் - 3. கஸ்தூரிரங்க ஐயங்கார்
d) இந்து - 4. வேதாரண்யம்.

A) 4 1 3 2

B) 4 1 2 3

C) 1 3 2 4

D) 3 2 4 1

154. Find the Common similarities between Indus valley civilisation and Tamilnadu

- I. Megalithic Burials
II. Ring Wells
III. Huge Bricks
IV. Graffiti symbols

Choose the Correct one

- a) I,II b) I,II,III c) I,II,IV d) I,II,III,IV

சிந்துவெளி நாகரிகத்திற்கும் தமிழகத்திற்கும் இடையே காணப்படும் பொதுவான அம்சங்களை கண்டறிக

- I. பெருங்கற்கால புதைப்பு
II. வட்ட வடிவ கிணறுகள்
III. பெரிய செங்கற்கள்
IV. எழுத்துக் கிறல்கள்

சரியான ஒன்றைத் தெரிவு செய்க

- a) I,II b) I,II,III c) I,II,IV d) I,II,III,IV

155. One of the distinguishing features of the Kilkanakku poems is

- a) didactic value perhaps of Jaina and Buddhist influence
b) The deal with aham and Puram
c) The deal with aram, porul, inbam
d) Both A and C

கிழக்கணக்கு நூல்களின் அம்சங்களில் வேறுபட்டது எது

- a) பெளத்தம் மற்றும் சமண மதத்தின் நீதி மதிப்புகளை கொண்டிருக்கின்றன



- b) அகப் பொருள் மற்றும் புறப்பொருளைப் பேசுகிறது
- c) அறம், பொருள் ,இன்பத்தைப் பேசுகிறது
- d) A மற்றும் C

156. The message related in the Kurunthogai verse

“Vinaye aadavarku uyire : vaazh nuthal

Manai urai Mahalirku aadavar yuir”

“Man’s life rests on duty of earning while

Woman’s life rests on him (her husband)”

- a) Duty of man is earning and duty of wife rest on husband
- b) Duty of man is fight with enemies and wife should support
- c) Duty of man is to celebrate the success
- d) None of the above

“வினையே ஆடவர்க்கு உயிரே; வாழ்நுதல்

மனைஉறை மகளிர்க்கு ஆடவர் உயிர்” எனும் குறுந்தொகைப் பாடல் உணர்த்தும் கருத்து

- a) தொழில் புரிவது ஆண்மக்களுக்கு உயிர் ஆகும் , மனைவிக்கு உயிர் கணவன் ஆகும்
- b) எதிரிகளுடன் சண்டையிடுவது ஆண்மக்களுக்கு உயிர், மனைவி துணை புரிய வேண்டும்
- c) ஆண் மகனின் வெற்றியை கொண்டாடுவது
- d) மேற்கண்ட எதுவுமில்லை

157. “Sool” Novel which recived Sahitya Academy Recently written by cho darman. The Book deals about

- a) Lower Caste social reality of the Karisal people
- b) About the lost birds and Water bodies
- c) deals with the lives of nadhaswaram artistes
- d) None of the Above

சூல் நாவல் சமீபத்தில் சாகித்திய அகாதெமி விருது வாங்கியது , இதனை சோ தர்மன் எழுதினார் , இந்தப் புத்தகம் எதனைப் பற்றி விவாதிக்கிறது

- a) கரிசல் மண்ணில் வாழக்கூடிய சமூகத்தில் கீழ் நிலை மக்களை
- b) தொலைந்து போன நீர் நிலைகள் மற்றும் பறவைகள்
- c) நாதஸ்வர கலைஞர்களின் வாழ்க்கையை
- d) மேற்கண்ட எதுவுமில்லை



158. Consider the following statement

- I. Kurinchipattu may be rendered into Mountain song
- II. Its author was the famous Kapilar of the last academy
- III. It said to have been composed by him to let the chera king about the pride of Tamil Language
- IV. It contains 261 versus and bears another name Perunkurinchi

Choose the Correct Code

- a) 1,2,3 b) 2,3,4 c) 1,2,3,4 d) 3,4 only

கீழ்க்கண்ட கூற்றுக்களை ஆராய்க

- a) குறிஞ்சிப்பாட்டு மலைகளுக்கான பாடலாக கருதலாம்
- b) இதன் ஆசிரியர் கபிலர் மூன்றாம் தமிழ்சங்க காலத்தைச் சேர்ந்தவர்
- c) இப்பாடல் சேர அரசனுக்கு தமிழின் பெருமையை நிலை நாட்டும் பொருட்டு பாடப்பட்டது
- d) இன்னூலில் 261 பாடல்கள் உள்ள மற்றும் இதன் இன்னொரு பெயர் பெருங்குறிஞ்சி

சரியான குறியீட்டினை தேர்ந்தெடு

- a) 1,2,3 b) 2,3,4 c) 1,2,3,4 d) 3,4 only

159. The Commander-in-Chief of the British army, who controlled the Vellore mutiny of 1806 was

- A) William Bentick B) Sir John Cradock
C) Lt. Col. John Munro D) Lt. Col. Malcolm

1806ல் வேலூர் கலகத்தை கட்டுப்படுத்திய பிரிட்டிஷ் இராணுவத் தலைமைத் தளபதி யார்?

- A) வில்லியம் பெண்டிக் B) சர் ஜான் கிராடாக்
C) லெப்டினண்ட் கர்னல் ஜான் மன்றோ D) லெப்டினண்ட் கர்னல் மால்கம்

160. Which of the following is correctly matched?

- A) Thiru Vi. Ka - Swadesamitran
B) Subramania Siva - Raja Desingh
C) Bharathiyar - Ramanuja Vijayam
D) Varadarajulu Naidu - Navasakthi

கீழ்க்கண்டவற்றுள் சரியாக பொருத்தப்பட்டது எது?

- A) திரு. வி. க. - சுதேசமித்ரன்



- B) சுப்பிரமணிய சிவா - ராஜா தேசிங்கு
C) பாரதியார் - ராமானுஜ விஜயம்
D) வரதராஜலு நாயுடு - நவசக்தி

161. Who among the following was an independent member who formed the ministry in Madras Presidency during 4th December, 1926?

- A) P. Subbarayalu Reddiar B) B. Munuswamy Naidu
C) Dr. A. Subbarayan D) Raja of Bobbili

பின்வருபவர்களில், டிசம்பர் மாதம் 4-ந் தேதி 1926-ம் ஆண்டு சென்னை மாகாணத்தில் அமைச்சரவை அமைத்த சுயேச்சை உறுப்பினர் யார்?

- A) P. சுப்பராயலு ரெட்டியார் B) பி. முனுசாமி நாயுடு
C) Dr. A. சுப்பராயன் D) பொப்பிலி ராஜா

162. Consider the following statement with reference to Non Co-operation Movement in Tamilnadu

- a) In Tamil Nadu the Non-co-operation Movement was strong during the years 1921-23.
b) C. Rajagopalachari, S. Satyamurthi, E. V. Ramaswami Naicker, were the important leaders of the Non- Cooperation Movement in Tamil Nadu.
c) At that time S. Satyamurthi was the President of the Tamil Nadu Congress Committee.
d) In 1921 and 1922 there were campaigns against the consumption of liquor in many parts of the province.

Choose the correct one

- a) I,II,III b) II,III,IV c) I,II,IV d) I,II,III,IV

தமிழ்நாட்டில் ஒத்துழையாமை இயக்கம் தொடர்பான கீழ்க்கண்ட கூற்றுக்களை ஆராய்க

- I. தமிழ் நாட்டில் ஒத்துழையாமை இயக்கம் 1921 முதல் 23 வரை தீவிரமானதாக இருந்தது
II. சி.ராஜகோபாலாச்சாரி, எஸ் சத்தியமூர்த்தி, எ.வெ ராமசாமி நாயக்கர் ஆகியோர் ஒத்துழையாமை இயக்கப் போரட்டத்தில் முக்கியமான தலைவர்கள்
III. அப்போது தமிழ் மாணில காங்கிரஸ் கமிட்டியின் தலைவராக எஸ். சத்தியமூர்த்தி இருந்தார்
IV. 1921 மற்றும் 22 ஆம் ஆண்டுகளில் மதுவுக்கு எதிராக அதிமகான பிரச்சாரம்

மேற்கொள்ளப்பட்டது



சரியான ஒன்றை தேர்வு செய்க

- a) I,II,III b) II,III,IV c) I,II,IV d) I,II,III,IV

163. Saint Ramalinga introduced the principle that God could be worshipped in the form

- a) Light b) Water c) fire d) Air

ராமலிங்கர் கடவுளை எந்த வடிவத்தில் வழிபடலாம் என்ற கொள்கையை அறிமுகப்படுத்தினார்

- a) ஒளி b) நீர் c) நெருப்பு d) காற்று

164. Find the Incorrect one

- a) Pandithar Iyothee Thassar - Advaidananda Sabha
b) Vaikunda Swamigal - Samathuva Samajam
c) Anantha Charlu - Madras Native Association
d) Ramalinga Adigal - Sanmarga Satya Sanga

சரியற்ற ஒன்றைத் தெரிவு செய்க

- a) பண்டித அயோத்தி தாசர் - அத்வைதானந்த சபை
b) வைகுண்ட சாமிகள் - சமத்துவ சமூகம்
c) அனந்த சார்லு - சென்னை சுதேசி சங்கம்
d) ராமலிங்க அடிகள் - சன்மார்க்க சத்ய சங்கம்

165. 'The Oppressed Hindus' is the work of

- a) R. Srinivasan b) M.C Raja c) T.M Mair d) Jhon Rathnam

ஒடுக்கப்பட்ட இந்துக்கள் என்பது யாருடைய எழுத்து

- a) ஆர் ஸ்ரீனிவாசன் b) எம் சி ராஜா
c) டி. எம் நாயர் d) ஜான் ரத்தினம்

166. Consider the following statement with reference to Self Respect Movement

- I. Self-Respect Movement was not a mere social reformist movement.
II. It aimed at destroying the existing Hindu social order
III. Its totality and creating a new, rational society without caste, religion and God.
IV. Self-Respect Movement was started against Brahmins in the Madras Presidency

Choose the Correct code

- a) I,II,IV b) I,II,III c) II,III,IV d) I,II,III,IV



IYACHAMY ACADEMY

(Associated With www.iyachamy.com)
Institution For Competitive Exam

சுயமரியாதை இயக்கம் தொடர்பான கீழ்க்கண்ட கூற்றுகளை ஆராய்க

- I. சுயமரியாதை இயக்கம் வெறும் சமூக சீர்திருத்த இயக்கம் மட்டும் அல்ல
 - II. இந்து சமூகத்தில் உள்ள சமூக நிலையை அழிக்க முற்பட்டது
 - III. முழுவதுமாக , சாதி ,மதம் , கடவுள் இல்லாத புதிய பகுத்தறிவு சமூகத்தை உருவாக்க முற்பட்டது
 - IV. சுயமரியாதை இயக்கம் சென்னை மகாணத்தில் பிரமணர்களுக்கு எதிராக துவங்கப்பட்டது
- சரியான விடையைத் தேர்ந்தெடு
- a) I,II,IV b) I,II,III c) II,III,IV d) I,II,III,IV

167. Who called the "untouchables" as Sathi Petham Atra Dravidar urged them to register as casteless Dravidians in the Census.

- a) E.V.R Ramasamy b) Iyothee Dasar
c) Potti Ramulu d) sankaralinkanar

மக்கள் தொகை கணக்கெடுப்பில் தீண்டத்தகாதவர்கள் என அழைக்கப்பட்டவர்கள் தங்களை சாதி பேதமற்ற திராவிடர் என பதிவு செய்ய வலியுறுத்தியவர் யார்

- a) ஈ.வெ ராமசாமி b) அயோத்தி தாசர்
c) பொட்டி ராமுலு d) சங்கரலிங்கனார்

168. திருக்குறள் ஏன் உலகப் பொது மறை என அழைக்கப்படுகிறது

- I. நாட்டை ஆள்வோருக்கு அறிவுரை கூறுகிறது
- II. குடிமக்களுக்கும் அறிவுரை கூறுகிறது
- III. கல்விக்கு முக்கியத்துவம் அளிக்கிறது
- IV. பொருளாதாரத்தைப் பேசுகிறது

சரியான குறியீட்டிணை தேர்வு செய்க

Why Thirukural known as universal principle (ulakapothumarai)

- I. Advises the rulers of the country
- II. Advises citizens as well
- III. Emphasizes education
- IV. Deal about economics

Choose the correct code

- a) I,II b) II,III,IV c) I,II,III d) I,II,III,IV



169. பல்குழுவும் பாழ்செய்யும் உட்பகையும் வேந்தலைக்கும்

கொல்குறும்பும் இல்தை நாடு.

இக்குறள் நாட்டில் எவையெல்லாம் இருக்கக்கூடாது என வலியுறுத்துகிறது

- I. இனவாத குழுக்கள்
- II. மதவாத குழுக்கள்
- III. தீவிரவாதம்
- IV. அரசு சாரா அமைப்புகள்

சரியான குறியீட்டிணை தெரிவு செய்க

- a) I,III,IV b) II,III,Ic) I,II,IV d) I,II,III,IV

From factions free, and desolating civil strife, and band
Of lurking murderers that king afflict, that is the 'land'.

This critique emphasizes what should not be in the country

- I. Racist groups
- II. Communal Groups
- III. Terrorism
- IV. Non Governmental Organisation

Choose the Correct code

- a) I,III,IV b) II,III,Ic) I,II,IV d) I,II,III,IV

170. யாதானும் நாடாமால் ஊராமால் என்னொருவன்

சாந்துணையுங் கல்லாத வாறு.

யாருக்கு எல்லா நாடும் சொந்த நாடு என வள்ளுவர் கூறுகிறார்

- a) படிக்காதவன்
- b) படித்தவன்
- c) செல்வந்தர்
- d) அரசன்

The learned make each land their own, in every city find a home;
Who, till they die; learn nought, along what weary ways they roam!.

To whom every country is his own country according to Valluvar

- a) Unlearned
- b) Learned



- c) Rich man
- d) King

171. முறையாக ஆட்சி செய்யும் மன்னவனை தெய்வத்தோடு ஒப்பு நோக்கும் குறள்

Which couplets acknowledges with the deity the ruler who rules properly

- a) வையத்துள் வாழ்வாங்கு வாழ்பவன் வான்உறையும்
தெய்வத்துள் வைக்கப் படும்.

**Who shares domestic life, by household virtues graced,
Shall, mid the Gods, in heaven who dwell, be placed**

- b) இறைகடியன் என்றுரைக்கும் இன்னாச்சொல் வேந்தன்
உறைகடுகி ஒல்லைக் கெடும்.
'Ah! Cruel is our king', where subjects sadly say,
His age shall dwindle, swift his joy of life decay.

- c) முறைசெய்து காப்பாற்றும் மன்னவன் மக்கட்கு
இறையென்று வைக்கப் படும்.

**Who guards the realm and justice strict maintains,
That king as god o'er subject people reigns.**

- d) இறைகாக்கும் வையகம் எல்லாம் அவனை
முறைகாக்கும் முட்டாச் செயின்.

**The king all the whole realm of earth protects;
And justice guards the king who right respects.**

172. கீழ்க்கண்டவற்றுள் உணவுமுறை பற்றி எந்த குறல் எடுத்தியம்புகிறது

Which one of the following kural speaks about food habit.

- I. மருந்தென வேண்டாவாம் யாக்கைக்கு அருந்தியது
அற்றது போற்றி உணின்.

**No need of medicine to heal your body's pain,
If, what you ate before digested well, you eat again.**

- II. அற்றால் அறவறிந்து உண்க அஃதுடம்பு
பெற்றான் நெடிதுய்க்கும் ஆறு.

Who has a body gained may long the gift retain,



If, food digested well, in measure due he eat again.

III. அற்றது அறிந்து கடைப்பிடித்து மாறல்ல

துய்க்க துவர்ப் பசித்து.

Knowing the food digested well, when hunger prompteth thee,

With constant care, the viands choose that well agree.

IV. உற்றான் அளவும் பிணியளவும் காலமும்

கற்றான் கருதிச் செயல்.

he habitudes of patient and disease, the crises of the ill

These must the learned leech think over well, then use his skill.

Choose the Correct code

a) I,II,IV b) II,III,IV c) II,III,IV d) I,II,III

173. கீழ்க்காண்பவற்றுள் திருக்குறள் எதைப் பற்றி பேசவில்லை

I. எந்த ஒரு மதத்தினையும் சாராத நிலை

II. தமிழரின் சிறப்புகள்

III. மது அருந்துதலை

IV. உலக நாடுகளுக்கு பொருந்தும் கருத்துக்கள்

சரியான குறியீட்டினை தேர்வு செய்க

Thirukural Does not talk about

I. Non-religious status

II. Features of Tamil

III. Drinking of Alcohol

IV. Ideas that apply to the nations of the world

a) I,II,III b) I,II,IV c) I,III,IV d) I,II,III,IV

174. Why Reservation followed based on caste in Tamilnadu but not based on economic

Status

I. For years, education was denied to the majority of the population of our country on the basis of one's birth.

II. Constitution Provides socially and educationally weaker section of Society



III. Reservations are necessary measure to ensure representation, and fight against the malaise of caste discrimination

IV. Reservation is not a poverty alleviation programme

Choose the correct code

- a) I,II,III b) II,III,IV c) IV,II,Id) I,II,III,IV

தமிழ்நாட்டில் இட ஒதுக்கீடு ஏன் சாதி வாரியாக வழங்கப்படுகிறது ஆனால் பொருளாதாரத்தை அடிப்படையாக வைத்து அல்ல

I. பல ஆண்டுகளாக, ஒருவரின் பிறப்பின் அடிப்படையில் நம் நாட்டின் பெரும்பான்மையான மக்களுக்கு கல்வி மறுக்கப்பட்டது.

II. அரசியலமைப்பு கல்வி மற்றும் சமூக ரீதியில் சமூகத்தில் பின் தங்கியோருக்கு சலுகைகள் வழங்குகின்றது

III. இட ஒதுக்கீடு வாய்ப்பு அளிப்பதற்கான கட்டாயமான ஒன்றாகும் மேலும் சாதியின் அடிப்படையில் புறக்கணிக்கப்பட்டதற்கு எதிராக போரிடுகிறது

IV. இட ஒதுக்கீடு என்பது என்பது வறுமை ஒழிப்பு திட்டம் அல்ல

சரியான குறியீட்டினை தெரிவு செய்க

- a) I,II,III b) II,III,IV c) IV,II,Id) I,II,III,IV

175. Tamil Nadu emerges as the top performer among the big states in the country, in terms of Gross Enrolment Ratio (GER) in higher education because

- a) Free Cycle
b) Free laptops
c) Reservation for deprived section of society
d) All of the above

உயர்கல்வி சேர்க்கை விகிதத்தில் பெரிய மாணிலங்களில் தமிழ்நாடு சிறந்த செயலாற்றிய உள்ளது ஏனென்றால்

- a) இலவச மிதிவண்டி
b) இலவசக் கணினி
c) சமூகத்தின் பின் தங்கிய மக்களுக்கு இட ஒதுக்கீடு
d) அனைத்தும்

176. A National Investment and Manufacturing Zone (NIMZ) is proposed to be set up in

- a) Tutucorin



IYACHAMY ACADEMY

(Associated With www.iyachamy.com)
Institution For Competitive Exam

- b) Madurai
- c) Tirunelveli
- d) Ramanathapuram

தேசிய முதலீட்டு மற்றும் உற்பத்தி மண்டலம் எங்கு உருவாக்க உத்தேசிக்கப்பட்டுள்ளது

- a) தூத்துக்குடி
- b) மதுரை
- c) திருனெல்வேலி
- d) ராமநாதபுரம்

Our Achievements

Mrs. K. Deepa
(Deputy Collector - 2019)

Mrs. B. Kamatchi
(Deputy Superintendent of Police - 2019)

Mrs. T. Anitha
(Sud Registrar - 2019)

IYACHAMY ACADEMY
REGULAR CLASS | ONLINE CLASS
CHENNAI | TIRUNELVELI | TENKASI

TAMIL NADU HISTORY | CULTURE DEVELOPEMENT ADMINISTRATION
(A Book for TNPSC Examination)

IYACHAMY MURUGAN
IYACHAMY ACADEMY

177. In which year seats were reserved for women in local bodies in Tamil Nadu?

- A) 1991
- B) 1951
- C) 1994
- D) 2010

தமிழகத்தில் உள்ளாட்சி அமைப்புகளில் பெண்களுக்கு இட ஒதுக்கீடு வழங்கப்பட்டது எந்த ஆண்டு?

- A) 1991
- B) 1951
- C) 1994
- D) 2010

178. The Government of Tamil Nadu is committed towards empowering the differently abled persons by ensuring

- a) 3 percent reservation in employment
- b) 4 percent reservation in employment



- c) The Mental Health Act, 1987
- d) Providing employment opportunities

மாற்றுத்திறனாளிகளை அதிகாரப்படுத்துவதற்கு தமிழக அரசு எதன் மூலம் உறுதிப்படுத்தியது

- a) வேலைவாய்ப்பில் 3 சதவீத இடஒதுக்கீடு
- b) வேலைவாய்ப்பில் 4 சதவீத இட ஒதுக்கீடு
- c) மன நல மருத்துவச் சட்டம் 1987
- d) வேலை வாய்ப்பு வசதிகளை ஏற்படுத்தி தருதல்

179. Tamil Nadu Health System Reform Programme (TNHSRP) launched in March 2020.

The programme aims at

- I. Improving the quality of care
- II. Management of non-communicable diseases
- III. reducing the inequities in reproductive and child health
- IV. The Programme will be implemented with funding support from the World Bank.

Choose the correct code

- a) I,II,III
- b) I,II,III,IV
- c) II,III,IV
- d) I,II,IV

தமிழ்நாடு சுகாதார முறை சீர்திருத்த திட்டம் மார்ச் 2020 ல் துவக்கப்பட்டது. இத்திட்டத்தின் நோக்கம்

- I. கவனிப்பின் தரத்தினை மேம்படுத்துதல்
- II. தொற்றா நோய்களை சமாளித்தல்
- III. குழந்தைப் பிறப்பு மற்றும் குழந்தை ஆரோக்கியத்தில் ஏற்றத்தாழ்வுகளைக் குறைத்தல்
- IV. இத்திட்டம் உலக வங்கியின் நிதி உதவியுடன் செயல்படுத்தப்படும்

சரியான கூற்றைத் தேர்ந்தெடு

- a) I,II,III
- b) I,II,III,IV
- c) II,III,IV
- d) I,II,IV

180. The Directorate of Public Health and Preventive Medicine of Tamil Nadu, formed in

- a) 1923
- b) 1939
- c) 1986
- d) 1987

தமிழ்நாடு பொது சுகாதாரம் மற்றும் நோய் தடுப்பு இயக்குரைகம் எந்த ஆண்டு அமைக்கப்பட்டது

- a) 1923
- b) 1939
- c) 1986
- d) 1987

181. Find the incorrect statement



- The number of farmers in Tamil Nadu has got increased during the last 10 years according to the 2011 census data
- Agriculture in Tamil Nadu is dependent mostly on groundwater
- Most of the cultivators in Tamil Nadu are micro farmers who cultivate in an area less than 1 hectare.
- The total land area under agriculture is shrinking fast in Tamil Nadu

தவறான வாக்கியத்தை கண்டறிக

- 2011 ஆம் ஆண்டு மக்கள் தொகை கணக்கெடுப்பின் படி தமிழகத்தில் கடந்த 10 ஆண்டுகளில் விவசாயிகளின் எண்ணிக்கை அதிகரித்துள்ளது
- தமிழகத்தில் வேளாண்மை பெரும்பாலும் நிலத்தடி நீரை ஆதாரமாக கொண்டது
- தமிழகத்தில் உள்ள விவசாயிகளில் அதிகம் பேர் குறு விவசாயிகள் அவர்கள் 1 ஹெக்டேருக்கு குறைவான அளவிலேயே பயிரிடுகின்றனர்
- விவசாயத்தின் கீழ் மொத்த நிலப்பரப்பு தமிழகத்தில் வேகமாக சுருங்கி வருகிறது

182. What is the objective of creating new districts in Tamilnadu

- To ensuring that the people have easy access to the administration and enjoy the benefits of government schemes.
- It will cause delays in implementing welfare schemes and projects.
- Encourage employment opportunities and the creation of new commercial establishments and industries.
- It will make government programmes reachable to the public.

Choose the correct code

- I,II,III
- I,II,III,IV
- II,III,IV
- I,III,IV

தமிழகத்தில் புதிய மாவட்டங்களை உருவாக்குவதின் நோக்கம்

- மக்களுக்கு நிர்வாகத்தை எளிதில் அணுகுவதை உறுதி செய்வதற்கும் அரசாங்க திட்டங்களின் நன்மைகளை அனுபவிப்பதற்கும்
- இது நலத்திட்டங்கள் மற்றும் திட்டங்களை செயல்படுத்துவதில் தாமதத்தை ஏற்படுத்தும்.
- வேலை வாய்ப்புகள் மற்றும் புதிய வணிக நிறுவனங்கள் மற்றும் தொழில்களை உருவாக்குவதை ஊக்குவித்தல்.
- இது அரசாங்கத் திட்டங்களை பொதுமக்களுக்கு அடையச் செய்யும்

சரியான குறியீட்டினை தேர்வு செய்க

- I,II,III
- I,II,III,IV
- II,III,IV
- I,III,IV



183. The Tamil Nadu Rice Research Institute located in

- a) Coimbatore b) sri rangam c) Aduthurai d) Tiruchuzhi

தமிழ்நாடு அரிசி ஆராய்ச்சி மையம் எங்கு அமைந்துள்ளது

- a) கோயம்புத்தூர் b) ஸ்ரீ ரங்கம் c) ஆடுதுறை d) திருச்சுழி

184. Which sector is next only to agriculture with regards to labour employed in the state.

- a) Automobile b) Information Technology d) Textile d) Mining

தமிழ்நாட்டில் விவசாயத்திற்கு அடுத்தபடியாக எந்த துறையில் அதிகமான தொழிலாளர்கள் வேலை செய்கின்றனர்

- a) ஆட்டோமொபைல் b) தகவல் தொழில்நுட்பம்
c) ஜவுளி d) சுரங்கத் தொழில்

185. According to Tamilnadu Industrial policy 2014 in which sector Tamilnadu does not emphasise

- a) Biotechnology and Pharmaceuticals Sector
b) Aerospace Industry
c) Automobile and Auto components sector
d) Chemical industry

தமிழ்நாடு தொழிற்கொள்கை 2014ன் படி எந்த துறைக்கு தமிழ்நாடு முக்கியத்துவம் அளிக்கவில்லை

- a) உயிரித் தொழில்நுட்பம் மற்றும் மருந்துகள் துறை
b) வான்பொருள் துறை
c) ஆட்டோ மொபைல் மற்றும் உதிரி பாகங்கள்
d) வேதித்தொழிற்சாலை

186. With reference to Tamilnadu vision 2023 which of the following statement is wrong

- a) To position Tamil Nadu as the most preferred State for manufacturing
b) To raise the investment in infrastructure from the existing 4.5% of the GSDP gradually to 10% by 2015
c) To make Tamil Nadu the innovation hub and the knowledge capital of India



d) To achieve rapid industrialisation of the western districts of Tamil Nadu

தமிழ்நாடு தொலைநோக்கு 2023ன் படி கீழ்க்கண்டவற்றுள் தவறான வாக்கியம் எது

a) தமிழ்நாட்டை உற்பத்தித்துறைக்கு உகந்த துறையாக மாற்றுதல்

b) மொத்த உள்நாட்டு உற்பத்தியில் தற்போதுள்ள 4.5% இலிருந்து உள்கட்டமைப்புக்கான முதலீட்டை படிப்படியாக 2015 க்குள் 10% ஆக உயர்த்துவது

c) தமிழகத்தை புதுமை மையமாகவும், இந்தியாவின் அறிவு மூலதனமாகவும் மாற்றுவது

d) தமிழ்நாட்டின் மேற்கு மாவட்டங்களின் விரைவான தொழில்மயமாக்கலை அடைதல்

187. Tamil Nadu is geographically ----- and population wise-----

largest state in india

a) Third , Eleven

b) Eleven , sixth

c) Sixth , second

d) Second, sixth

தமிழ்நாடு புவியியல் அடிப்படையில் ----- மற்றும் மக்கள் தொகை அடிப்படையில் ----- இந்தியாவின் மிகப்பெரியது

a) மூன்றாம், பதினொன்றாம்

b) பதினொன்று, ஏழாவது

c) ஆறாவது, இரண்டாவது

d) இரண்டாவது, ஆறாவது

188. Which one of the following institution does not come under e governance Institutional frame work

a) TNEGA

b) ELCOT

c) TACTV

d) SIDCO

மின்னாளுகை நிர்வாக கட்டமைப்பின் கீழ் வராத அமைப்பு

a) TNEGA

b) ELCOT

c) TACTV

d) SIDCO

189. If the length of a rectangle is decreased by 50% and the breadth is increased by 80%, then the % change in the area of rectangle is

A. Decreased by 10%

B. Increased by 10%

C. Decreased by 20%



D. Increased by 20%

ஒரு செவ்வகத்தின் நீளம் 50% அளவிற்கு குறைத்தும், அகலத்தை 80% அளவிற்கும் அதிகரிக்கும் போது அதனுடைய பரப்பில் ஏற்படும் மாற்றத்தின் சதவீதம் என்ன?

- A. 10% குறைவாக
- B. 10% அதிகமாக
- C. 20% குறைவாக
- D. 20% அதிகமாக

190. The difference between simple and compound interest for a sum of Rs. 5,000 lent at 12% per annum in 2 years is

- A. Rs.720
- B. Rs.12
- C. Rs.72
- D. Rs.700

ரூ.5,000-த்தை ஆண்டுக்கு 12% வட்டி வீதத்தில் இரண்டு ஆண்டுகளுக்கு குத்தகை விடப்பட்டால் தனிவட்டி மற்றும் கூட்டு வட்டி இவைகளுக்கு உள்ள வேறுபாடு ----- ஆகும்.

- A. ரூ.720
- B. ரூ.12
- C. ரூ.72
- D. ரூ.700

191. What percent is 20 paise of 5 rupees 80 paise?

- A. $2 \frac{13}{29}\%$
- B. $3 \frac{13}{29}\%$
- C. $4 \frac{13}{29}\%$
- D. $5 \frac{13}{29}\%$

5 ரூபாய் 80 பைசாக்களில் 20 பைசாக்கள் என்பது எத்தனை சதவீதம்?

- A. $2 \frac{13}{29}\%$
- B. $3 \frac{13}{29}\%$
- C. $4 \frac{13}{29}\%$
- D. $5 \frac{13}{29}\%$



192. A voluntary organization planted a total of 106 trees along the road side. Some of the trees were fruit bearing trees. If the number of non-fruit bearing trees was two more than thrice the number of fruit bearing trees, what was the number of fruit bearing trees planted?

- A. 20
- B. 22
- C. 24
- D. 26

ஒரு தன்னார்வ தொண்டு நிறுவனம் ஒரு தேசிய நெடுஞ்சாலையின் இரு புறங்களிலும் மரங்கள் நடட்டன. அவற்றில் சில கனி தரும் மரங்கள். கனி தராத மரங்களின் எண்ணிக்கை கனி தரும் மரங்களின் எண்ணிக்கையின் மூன்று மடங்கோடு இரண்டை கூட்டினால் வரும். மொத்தம் 106 மரங்கள் நடப்பட்டு இருந்தால், கனி தரும் மரங்களின் எண்ணிக்கை எவ்வளவு?

- A. 20
- B. 22
- C. 24
- D. 26

193. If 7 is related to 56 then 10 is related to

- A. 74
- B. 64
- C. 50
- D. 90

எண் 7, 56-ற்கு சம்பந்தப்பட்டது என்றால், 10-க்கு சம்பந்தப்பட்ட எண்

- A. 74
- B. 64
- C. 50
- D. 90

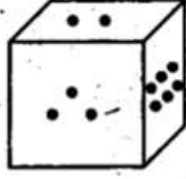
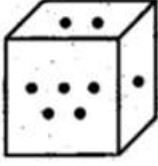
194. Two portions of a dice are given below. When 1 is at the top, which number will be at the bottom?

- A. 3
- B. 4



C. 5

D. 6



ஒரு பகடையின் இரு நிலைகள் கீழே படமாக தரப்பட்டுள்ளன. எண் 1 மேலே இருக்கும்போது கீழே உள்ள எண் எது?

A. 3

B. 4

C. 5

D. 6

195. 10 women can complete a work in 7 days and 10 children take 14 days to complete the same work. How many days will 5 women and 10 children take to complete the work.

A. 3

B. 5

C. 7

D. None of these

10 பெண்கள் ஒரு வேலையை 7 நாட்களில் முடிப்பார்கள். 10 குழந்தைகள் அதே வேலையை 14 நாட்களில் செய்து முடிப்பார்கள். 5 பெண்கள் மற்றும் 10 குழந்தைகள் சேர்ந்து அவ்வேலையை எத்தனை நாட்களில் செய்து முடிப்பார்கள்?

A. 3

B. 5

C. 7

D. மேற்கூறியவற்றில் எதுவும் இல்லை

196. The H.C.F. of two numbers is 8, which one of the following can never be their L.C.M?

A. 24

B. 48

C. 56



D. 60

இரண்டு எண்களின் உயர் பொதுக் காரணி 8 எனில் பின்வருவனவற்றில் எந்த எண் அவற்றின் மீச்சிறு பொது மடங்காக இருக்க முடியாது

A. 24

B. 48

C. 56

D. 60

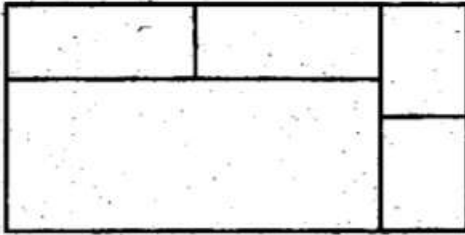
197. How many rectangles are there in the figure below?

A. 6

B. 7

C. 8

D. 9



கீழ்க்காணும் படத்தில் எத்தனை செவ்வகங்கள் உள்ளன?

A. 6

B. 7

C. 8

D. 9

198. The greatest number that exactly divides 105, 1001 and 2436 is

A. 7

B. 3

C. 9

D. 5

105,1001 மற்றும் 2436 ஆகிய எண்களை மிகச்சரியாக வகுக்கும் மீப்பெரு எண்



IYACHAMY ACADEMY

(Associated With www.iyachamy.com)
Institution For Competitive Exam

- A. 7
- B. 3
- C. 9
- D. 5

199. The value of x in the equation $(925)^2 - (225)^2 = 1000x$ is

- A. 805
- B. 805000
- C. 1850
- D. 1.85

200. In what time will Rs. 1,000 become Rs. 1,331 at 10% per annum compounded annually?

- A. 2
- B. 3
- C. 4
- D. None of these

ரூ.1,000 ஆனது 10% ஆண்டு கூட்டு வட்டி வீதத்தில் எத்தனை ஆண்டுகளில் ரூ.1,331 ஆகும்?

- A. 2
- B. 3
- C. 4
- D. மேற்கூறியவற்றில் எதுவும் இல்லை

GROUP I MAINS PROGRAM WILL BEGIN SECOND WEEK OF JANUARY

RESIDENTIAL | CLASS ROOM | ONLINE

FOR MORE INFO 9952521550 OR WHATSAPP 9840281550