



IYACHAMY ACADEMY

(Associated with www.iyachamy.com)
Institution For Competitive Exam

CHENNAI | TIRUNELVELI | TENKASI

GROUP I MODEL TEST -1

23/12/2020

OUR ACHIEVEMENTS



கே.தீபா (துணை ஆட்சியர்)



காமராட்சி (DSP)



ஆஷா (சப் ரிஜிஸ்டர்)

IYACHAMY ACADEMY - ANNA NAGAR - CHENNAI -9952521550

IYACHAMY ACADEMY - PALAYAMKOTTAI -TIRUNELVELI -7338884555

IYACHAMY ACADEMY - SWAMY SANNATHI - TENKASI -9786947055

CLASS ROOM | ONLINE | POSTAL COACHING

Share your views about the compilation via whatsapp to 9840281550

WWW.IYACHAMY.COM



1. To distinguish between real gems and artificial gems a merchant may use which of the following radiations ?

- a) Infrared rays
- b) γ -rays
- c) X-rays
- d) Ultraviolet rays

உண்மையான நவரத்தினக் கற்களை செயற்கையான நவரத்தினக் கற்களை வேறுபடுத்த ஒரு வியாபாரி எந்த வகையான கதிர்களைப் பயன்படுத்த வேண்டும்

- a) அகச்சிவப்பு கதிர்கள்
- b) காமா கதிர்கள்
- c) எக்ஸ் கதிர்கள்
- d) புற ஊதாக் கதிர்கள்

2. In echo cardiography (ECG) the frequency of the sound waves used is

- a) 20 hertz to 20 kilohertz
- b) 20 hertz to 2 kilohertz
- c) beyond 20 kilohertz
- d) below 20 hertz.

எக்கோ கார்டியாகிரபி யில் பயன்படும் ஒலி அலைகளின் அதிர்வெண்கள்

- a) 20 ஹெர்ட்ஸில் இருந்து 20 கிலோஹெர்ட்ஸ் வரை
- b) 20 ஹெர்ட்ஸில் இருந்து 2 கிலோஹெர்ட்ஸ் வரை
- c) 20 கிலோ ஹெர்ட்ஸ்க்கும் அதிகமாக
- d) 20 ஹெர்ட்ஸ்க்கும் குறைவாக

3. Detergents are more efficient than soaps in cleaning, yet you have to limit the use of detergents because

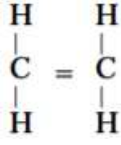
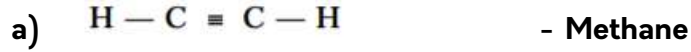
- a) they are costly
- b) they are not eco-friendly
- c) their production cost is high
- d) they produce scum in hard water.

தூய்மையாக்கிகள் சோப்பை விட அதிக திறனுடன் சுத்தம் செய்கின்றன எனினும் அவற்றின் பயன்பாட்டினைக் குறைக்க வேண்டும் ஏனென்றால்

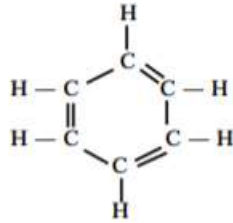
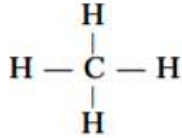
- a) அவை விலை உயர்ந்தவை
- b) அவை சுற்றுபுறத்திற்கு நண்பனாக விளங்குவதில்லை
- c) அவற்றின் உற்பத்திச் செலவு அதிகம்
- d) கடின நிருடன் இணைந்து கறையை உருவாக்குகிறது



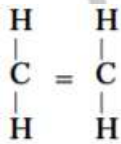
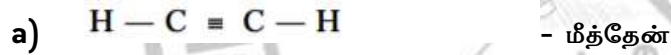
4. Match the items of List-A with items of List-B. Write the correct answer in the space provided :



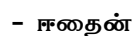
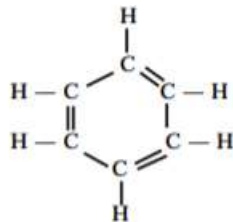
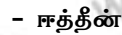
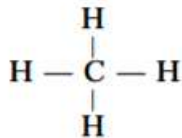
c)



பட்டியல் அ வில் உள்ள சேர்மங்களை பட்டியல் ஆ வுடன் பொருத்து



c)





- பெண்சீன்

- புரோப்பேன்

5. Hepatitis-B does not spread through

- a) contaminated food
- b) mosquito bite
- c) sexual contact with infected person
- d) sharing unsterilized needles.

ஹெபடைடஸ் பி எதன்மூலம் பரவாது

- a) அசுத்தமான உணவு
- b) கொசுக்கடி
- c) நோய் தொற்றியவர்களுடன் பாலின உறவு
- d) சுத்தப்படுத்தப்படாதா ஊசிகளை பயன்படுத்துவது

6. If a shallow dish containing some mercury and water is rotated about a vertical axis, mercury collects at the edge of the dish because of

- a) centripetal force
- b) gravitational force
- c) repulsive force
- d) centrifugal force

பாதரசத்தையும் நீரையும் கொண்டுள்ள ஒரு குறைந்த ஆழமுடைய பாத்திரமானது அதன் செங்குத்து அச்சைப் பொறுத்து சுழற்றப்படும் போது பாதரசமானது பாத்திரத்தின் விளிம்பில் ஒன்று சேர்கிறது எதனால்?

- a) மையனோக்கு விசை
- b) புவிமீர்ப்பு விசை
- c) விலக்கு விசை
- d) மைய விலக்கு விசை

7. Which one of the following does not belong to the group ?

- a) Oxygen cycle
- b) Sulphur cycle
- c) Nitrogen cycle
- d) Carbon cycle.

பின்வருவனவற்றுள் சேராது எது

- a) ஆக்ஸிஜன் சுழற்சி
- b) கந்தக சுழற்சி
- c) நைட்ரஜன் சுழற்சி
- d) கார்பன் சுழற்சி



8. The technique of effecting desirable changes in the genetic material is

- a) Cloning
- b) tissue culture
- c) DNA finger print technology
- d) genetic engineering

மரபுப் பொருளில் விரும்பத்தக்க மாற்றங்களை செய்ய உதவும் தொழில்நுட்பம்

- a) குளோனிங்
- b) திசு வளர்ப்பு
- c) டி.என்.ஏ விரல்ரேகை தொழில்நுட்பம்
- d) மரபுப் பொறியியல்

9. Which one of the following types of medicines is used for treating indigestion?

- a) antibiotic
- b) analgesic
- c) antacid
- d) antiseptic

கீழே கொடுக்கப்பட்ட மருந்துகளில் அஜீரணக் கோளாறை குணப்படுத்த எவ்வகை மருந்து பயன்படுகிறது

- a) உயிரிள்திர்ப்பு
- b) வலி நிவாரணி
- c) அமிலமுறிவு
- d) கிருமி நாசினி

10. The size of an object as perceived by an eye depends primarily on

- a) actual size of the object
- b) distance of the object from the eye
- c) aperture of the pupil
- d) size of the image formed on the retina

மனித கண் கிரகித்து உணரும் பொருளின் அளவு முதலில் எதனைச் சார்ந்திருக்கும்

- a) பொருளின் உண்மையான அளவு
- b) கண்ணிலிருந்து பொருளின் தூரம்
- c) கண்பார்வையின் திறவு
- d) விழித்திரையில் ஏற்படும் பிம்பத்தின் அளவு

11. Greta Thunberg, a Swedish teen working on a movement against climate change, was in the news in mid of 2019, because of which of the following reasons?



- She won the Right Livelihood Award
- She won the Nobel Peace Prize, 2019
- She won the Ramon Magsaysay Award, 2019
- None of the above

ஸ்வீடன் நாட்டு இளைஞியான க்ரெடதன்பர் பருவ நிலைமாற்றத்திற்கு எதிராக பணியாற்றி வருபவர் 2019 ஆம் ஆண்டின் மைய காலகட்டத்தில் செய்திகளில் பேசப்பட்டார் ஏனென்றால் கீழ்க்கண்ட காரணங்களுக்காக?

- ரைட் டீ லைவ்லிஹூட் என்ற விருதினை வென்றார்
- 2019 ஆம் ஆண்டு அமைதிக்கான நோபல் பரிசினை வென்றார்
- 2019 ஆம் ஆண்டிற்கான ராமன் மகசேச விருதினை வென்றார்
- மேற்கண்ட எதுவுமில்லை

12. Consider the following regarding the United Nations Security Council (UNSC) :

- UNSC consists of 15 members
- Five permanent members are USA, UK, Japan, Russia and China
- Ten non-permanent members are elected on a regional basis to serve for five-year terms.

Which of the above statements is/are correct?

Select the code for the correct answer from the options given below:

- 1 only
- 2 and 3 only
- 1 and 3 only
- 1, 2 and 3

ஐக்கிய நாடுகளின் பாதுகாப்பு அவை தொடர்பான கீழ்க்கண்ட கூற்றுகளை ஆராய்க

- ஐ நா பாதுகாப்பு சபை மொத்தம் 15 உறுப்பினர்களைக் கொண்டது
- ஐந்து நிரந்தர உறுப்பினர்கள், அமெரிக்க, பிரிட்டன், ஜப்பான், ரஷ்யா மற்றும் சீனா
- பத்து நிரந்தரமல்லாத உறுப்பினர்கள் பிராந்திய அடிப்படையில் பணியாற்ற ஐந்து ஆண்டுகளுக்கு ஒரு முறை தேர்வு செய்யப்படுவர்

சரியான கூற்று எவ்வை

- 1 மட்டும்
- 2 மற்றும் 3
- 1 மற்றும் 3
- 1,2,3

13. Which one of the following countries had chosen the name 'Nisarga' for the cyclone which devastated the coastline of Maharashtra and Gujarat in June 2020?

- Maldives
- Bangladesh
- Thailand
- Japan

ஜூன் 2020ல் மகராஷ்டிரா மற்றும் குஜராத் மாணில கடற்கரைகளை சூரையாடிய நிசர்கா புயலுக்கு கீழ்க்கண்டவற்றுள் பெயர் சூட்டிய நாடு



- a) மாலத்தீவு
b) வங்கதேசம்
c) தாய்லாந்து
d) ஜப்பான்

14. Who among the following played the role of Shakuntala Devi in the biopic movie based on the life of the famous mathematician?

- A) Madhuri Dixit
B) Rani Mukherjee
C) Tabu
D) Vidya Balan

கீழ்க்கண்டவர்களுள் பிரபல கணிதவியாளர் சகுந்தலா தேவியின் வாழ்க்கை வரலாற்றை ஒட்டி வந்த படத்தில் அவருடைய பாத்திரத்தில் நடித்தவர்

- a) மாதூரி தீக்சித்
b) ராணி முகர்ஜி
c) தபு
d) வித்யா பாலன்

15. G. C. Murmu, who was appointed as the Comptroller and Auditor General of India in August 2020, was the Lieutenant Governor/Administrator of which one of the following Union Territories prior to this appointment?

- A) Ladakh
B) Jammu and Kashmir
C) Chandigarh
D) Puducherry

ஆகஸ்ட் 2020 முதல் இந்தியாவின் கணக்கு தணிக்கை அலுவலராக நியமிப்பட்ட ஜி சி மர்மு கீழ்க்கண்டவற்றுள் எந்த மத்திய ஆட்சிப் பகுதியின் துணை நிலை ஆளுனராக பணியாற்றினார்

- a) லடாக்
b) ஜம்மு காஷ்மீர்
c) சண்டிகர்
d) புதுச்சேரி

16. In August 2020, a blast has taken place at Beirut killing about one hundred people and thousand wounded. The blast was caused by

- A) dynamite
B) ammonium nitrate
C) RDX
D) mercury nitride

ஆகஸ்ட் 2020 அன்று பேய்ரூட்டில் நடைபெற்ற வெடிவிபத்து நூற்றுக்கணக்கான மக்களை கொன்றுதுடன் ஆயிரக்கணக்கானோரை பாதிப்பிற்குள்ளாக்கியது, இந்த வெடிப்பு எதனால்

- a) டைனமிட்
b) அம்மோனியம் நைட்ரேட்
c) ஆர் டி எக்ஸ்
d) மெர்குரி நைட்ரேட்

17. Which one of the following Indian institutes was approved by the Drugs Controller General of India for Conducting human trials of the Oxford-AstraZeneca Covid-19 vaccine candidate?

- A) Bharat Biotech
B) AIIMS
C) Serum Institute of India
D) National Institute of Epidemiology



IYACHAMY ACADEMY

(Associated With www.iyachamy.com)
Institution For Competitive Exam

கீழ்க்கண்டவற்றுள் எந்த இந்திய நிறுவனத்திற்கு இந்தியாவின் மருந்து கட்டுப்பாட்டு ஜெனரல் ஆக்போர்ட் பல்கலைக்கழகத்தின் AstraZeneca என்ற கோவிட் 19 தடுப்பு மருந்தை மனிதச் சோதனை நடத்த ஒப்புதல் அளித்துள்ளார்

- a) பாரத் பயோடெக்
b) எம்ம்ஸ்
c) சீரம் நிறுவனம்
d) தேசிய தொற்றுநோய் நிறுவனம்

18. Who among the following is the architect of the Ram Temple being constructed at Ayodhya?

- A) P.O. Sompura
B) Chandrakant Sompura
C) Brinda Somaya
D) B. V. Doshi

அயோத்தியில் கட்டப்பட்டு வரும் ராமர் கோவிலுக்கு கீழ்க்கண்டவர்களுள் யார் முதன்மை வடிவமைப்பாளர்

- a) பி ஓ சோம்புரா
b) சந்திரகாந்த் சோம்புரா
c) பிரிந்தா சோமையா
d) பி வி தோஷி

19. The Citizenship (Amendment) Act falls under which one of the following Parts of the Constitution of India?

- A) Part I
B) Part II
C) Part IV
D) Part VI

குடியுரிமை சட்ட திருத்தம் அரசியலமைப்பின் எந்தப் பகுதியின் கீழ் வருகிறது

- a) பகுதி 1
b) பகுதி 2
c) பகுதி 4
d) பகுதி 5

20. ASEEM is

- A) Aatmanirbhar Skilled Employee Employer Measurement
B) Aatmanirbhar Skilled Employee Employer Mapping
C) Aatmanirbhar Skilled Employee Enterprises Medium
D) Automatic Skilled Employee Employer Mission

ASEEM

என்பதின்

விரிவாக்கம்

- A) Aatmanirbhar Skilled Employee Employer Measurement
B) Aatmanirbhar Skilled Employee Employer Mapping
C) Aatmanirbhar Skilled Employee Enterprises Medium
D) Automatic Skilled Employee Employer Mission

21. The exact matching of the marked River Valley projects is



- a) 1 - Nagarjuna Sagar, 2 - Bhakra Nangal, 3 - Kosi
- b) 1 - Bhakra Nangal, 2 - Kosi, 3 - Nagarjuna Sagar
- c) 1 - Kosi, 2 -Nagarjuna Sagar, 3 - Bhakra Nangal
- d) 1 -Nagarjuna Sagar, 2 - Kosi, 3 - Bhakra Nangal.

கொடுக்கப்பட்டுள்ள இந்திய வரைபடத்தில் குறிக்கப்பட்ட சரியான ஆற்றுப் பள்ளத்தாக்கு திட்ட அணைகளின் இணையை பொருத்துக



- a) 1- நாகார்ஜீன சாகர் , 2- பக்ரா நக்கல் , 3- கோசி
- b) 1 - பக்ரா நங்கல்,2-கோசி, 3- நாகார்ஜீன சாகர்
- c) 1 -கோசி, 2- நாகார்ஜீன சாகர் ,3-பக்ரா நங்கல்
- d) 1 - நாகார்ஜீன சாகர், 2- கோசி 3- பக்ரா நங்கல்

22. Which one of the following is an example for Cottage industries ?

- a) Rope making
- b) Garments
- c) Soaps
- d) Chemicals.

பின்வருவனவற்றுள் எது குடிசைத் தொழிலுக்கு ஓர் எடுத்துக்காட்டு

- a) கயிறு திரித்தல்
- b) ஆடை தயாரிப்பு



- c) சோப்புகள்
- d) வேதிப்பொருட்கள்

23. The pair that is not correctly matched is

- a) Kumari - Karnataka
- b) Jhum - Assam
- c) Podu - Madras
- d) Ponama - Kerala

கீழ்க்கண்டவற்றுள் சரியாக பொருந்தாதது எது

- a) குமரி- கர்ணாடாக
- b) ஜீம்- அசாம்
- c) பொடு-மெட்ராஸ்
- d) பொன்மை-கேரளா

24. In the field of tourism, which one of the following Indian States is described as 'One State Many World's'?

- A) Assam
- B) West Bengal
- C) Karnataka
- D) Rajasthan

சற்றுலாத்துறையைப் பொருத்தவரை கீழ்க்கண்டவற்றுள் எந்த மாநிலம் "ஒரே மாநிலம் பல உலகங்கள்" என விவரிக்கப்படுகிறது

- a) அசாம்
- b) மேற்கு வங்கம்
- c) கர்ணாடகா
- d) ராஜஸ்தான்

25. The Following are the major peaks of the Himalayas. Arrange them from Higher to lower Altitudes

- I. Kanjanjhunga
- II. Nanga Parvat
- III. Nandadevi
- IV. Dhualagiri

Select the correct code given below

- a) 1-4-2-3
- b) 1-2-4-3
- c) 4-1-2-3
- d) 2-3-1-4

கீழ்க்காண்பவை இமயமலையின் முக்கிய சிகரங்கள், அவற்றை உயர அடிப்படையில் மேலிருந்து கீழாக வரிசைப் படுத்து

- I. கஞ்சுருங்கா
- II. நங்கபர்வதம்



III. நந்தாதேவி

IV. தெளலகிரி

சரியான குறியீட்டைத் தேர்ந்தெடு

- a) 1-4-2-3
- b) 1-2-4-3
- c) 4-1-2-3
- d) 2-3-1-4

26. Which one the following is the oldest nuclear power plant in India?

- a) Kaiga
- b) Tarapore
- c) Kudankulam
- d) Kakrapar

கீழ்க்காண்பற்றில் இந்தியாவின் பழமையான அணுமின் நிலையது எது

- a) கைகா
- b) தாராப்பூர்
- c) கூடங்குளம்
- d) காக்கரபார்

27. Consider the following: Which one of the pair is incorrect?

- a) Senani - chief of the army
- b) Gramani - village head
- c) Bali - voluntary contribution
- d) Purohita - Chancellor

கீழ்க்காணுள் இணைகளை கவனத்தில் கொண்டு தவறான இணையை கண்டறிக

- a) சேனானி - படைத் தளபதி
- b) கிராமணி - கிராமத் தலைமை
- c) பாலி - தன்னார்வ பங்களிப்பு
- d) புரோகிதர் - வேந்தர்

தவறான இணை எது

- a) 1 மட்டும்
- b) 2 மட்டும்
- c) 3 மட்டும்
- d) 4 மட்டும்

28. Assertion (A): The expansion of trade and shipping brought foreign merchants and sailors to the Tamil region.

Reason (R): The seasonal nature of the monsoon winds the prevailing level of technology necessitated their stay in host countries.

- a) A and R are correct
- b) A and R are wrong



c) A is correct, R is wrong

d) A is wrong, R is correct

கூற்று: கடல் கடந்த வாணிகம் , கப்பல் போக்குவரத்தின் விரிவாக்கம் அயல்நாட்டு வணிகர்களையும் , கடலோடிகளையும் தமிழக பகுதிக்கு அழைத்து வந்தது

காரணம்: பருவ காற்றுகளின் கால்முறை இயல்பு மற்றும் நடப்பிலிருந்த தொழில்நுட்பங்கள் ஆகியவை வணிகம் செய்யச் சென்ற நாடுகளில் நெடு நாட்கள் தங்கியிருப்பதை அவசியப்படுத்தியது

a) கூற்று மற்றும் காரணம் சரி

b) கூற்று மற்றும் காரணம் தவறு

c) கூற்று சரி காரணம் தவறு

d) கூற்று தவறு காரணம் சரி

29. The World famous Khajuraho temple was built by _____.

a) Rashtrakutas

b) Tomaras

c) Chandelas

d) Paramaras

உலகப்புகழ் பெற்ற கஜ்ஜாகோ கோவில் யாரால் கட்டப்பட்டது

அ) ராஷ்ட்ரகூடர்கள்

அ) தோமர்கள்

அ) சந்தாலர்கள்

அ) பரமர்கள்

30. Which of the following statements about Harappan Culture is not Correct

a) It witnessed the first Cities in the Indian Sub Continent

b) It marks the first use of Script, written from right to left

c) It marks the earliest known use of iron as a medium for the art of Sculpturing

d) It marks the earliest known use of stone as a medium for the art of Sculpturing

கீழ்க்கண்ட கூற்றுகளில் எவை ஹரப்பா நாகரிகத்தோடு பொருந்தாதது

a) இந்திய துணைக் கண்டத்தில் முதன் முதலாக நகரங்கள் இருந்ததற்கான ஆதாரம்

b) இது வரிவடிப் பயன்பாட்டைக் குறிக்கிறது, இது வலமிருந்து இடமாக எழுதப்பட்டுள்ளது

c) சிற்பக் கலைக்கான ஒரு ஊடகமாக இரும்பின் ஆரம்பகால பயன்பாட்டை இது குறிக்கிறது

d) சிற்பக் கலைக்கான ஒரு ஊடகமாக கல்லைப் பயன்படுத்தியதை இது குறிக்கிறது

31. Match the following

List I

A. Mohenjodaro

B. Chanhudaro

C. Rangpur

List II

1. Absence of mother goddess figure

2. Assembly hall and collegiate building

3. Bead making factory



IYACHAMY ACADEMY

(Associated With www.iyachamy.com)
Institution For Competitive Exam

D. Harappa

4. Sandstone make dancer

பட்டியல் 1 ஐ பட்டியல் 2 உடன் இணைக்க

பட்டியல் 1

பட்டியல் 2

a) மொகஞ்சதரோ

- பெண் தெய்வ சிலை காணப்படவில்லை

b) சாண்ஹீதாரோ

- கூடும் அவை மற்றும் கல்லூரிக் கட்டிடம்

c) ராங்பூர்

- செங்கல் செய்யும் தொழிற்சாலை

d) ஹரப்பா

- மண்ணால் உருவாக்கப்பட்ட சிற்பம்

A b c d

a) 1 2 3 4

b) 4 2 1 3

c) 3 1 2 4

d) 4 2 3 1



GROUP-1 MAINS 2020 CLASS | TESTS SERIES

AVAILABLE IN TAMIL & ENGLISH MEDIUM

Starting : Post Prelims exam

TOTAL 38 TEST

31 Subjective Tests

4 Revision Tests

3 Full Syllabus Tests

Available in Class Room, Online, And Postal

We planning for limited admission Because of giving Personal Attention and care we couldn't able to admit more than 40 people for class room coaching and class room Test Series.

Class and Tests Timings

Class time
10: AM - 5.00 PM

Test Time 10.00:
AM - 1.00 PM

Key Discussion Sunday
2.00 PM - 5.00 PM

ALL TESTS ARE SPOT TESTS

Venue : No, 172, Tiruguanamsambandar Street, Tirumangalam,
Anna Nagar (W), Chennai 40. Ph. 9952521550 / 044-45601550

32. Which one of the following stages of the life of man in Aryan Society in ascending order of age, is correct?

- Brahmacharya-Grihastha Vanaprastha, Sanyasa
- Grihastha-Brahmacharya-Vanaprastha- Sanyasa
- Brahmacharya-Vanaprastha Sanyasa-Grihasthan
- Grihastha-Sanyasa-Vanaprastha Brahmacharya

ஆரியச் சமூகத்தில் மனிதனின் நிலையை ஏறுவரிசையில் எழுதுக



- a) பிரம்மச்சாரியம்-கிருகஸ்தம்-வனப்பிரஸ்தம்-சன்னியாசம்
- b) கிருகஸ்தம்-பிரம்மச்சாரியம்-வனப்பிரஸ்தம்-சன்னியாசம்
- c) பிரம்மச்சாரியம்-வனப்பிரஸ்தம்-சன்னியாசம்-கிருகஸ்தம்
- d) கிருகஸ்தம்-சன்னியாசம்-வனப்பிரஸ்தம்-பிரம்மச்சாரியம்

33. The number of horses on a farm is twice the number of ducks. The total number of feet ducks and horses counted together is 70. The number of ducks is

- a) 5
- b) 7
- c) 14
- d) 35

ஒரு பண்ணையில் உள்ள குதிரைகளின் எண்ணிக்கை வாத்துக்களின் எண்ணிக்கையைப் போல இரு மடங்கு. வாத்து மற்றும் குதிரைகளின் மொத்த பாதங்களை எண்ணினால் 70. வாத்துக்களின் எண்ணிக்கை என்ன?

- a) 5
- b) 7
- c) 14
- d) 35

34. Which of these numbers does not remain the same when turned upside down?

- a) 689
- b) 66166
- c) 96186
- d) 981186

கீழே காணும் எண்களில் எது தலைகீழாக திருப்பி வாசித்தாலும் மாறாத தன்மை இல்லாத எண்?

- a) 689
- b) 66166
- c) 96186
- d) 981186

35. Traffic lights at three junctions change simultaneously at morning 8.00 am. The First light changes once in 30 seconds, the second once in 72 seconds, the third once in 45 seconds. after 8.00 am which is the next time they change simultaneously?

- a) 8.03 AM
- b) 8.06 AM
- c) 8.10 AM
- d) 8.12 AM

முவ்வேறு சாலை சந்திப்புகளில் உள்ள சாலை பாதுகாப்பு விளக்குகள் காலை 8.00 மணிக்கு ஒரே நேரத்தில் மாற்றமடைகின்றன. மூன்றும் முறையே 30 வினாடிக்கு ஒரு தரம், 72 வினாடிக்கு ஒரு தரம், 45 வினாடிக்கு ஒரு தரம் மாறுகின்றன. 8.00 மு.ப பின்பு மீண்டும் இம்மூன்றும் எப்பொழுது ஒரே சமயத்தில் மாறும்?

- a) 8.03 முப
- b) 8.06 முப
- c) 8.10 முப
- d) 8.12 முப

36. calculate the radius of a sector whose area and arc length are 60 cm^2 and 20 cm respectively

- a) 3 Cm
- b) 6 cm
- c) 4 cm
- d) 5cm

ஒரு வட்டக்கோணப் பகுதியின் பரப்பு 60 செ.மீ^2 . அதன் வில்லின் நீளம் 20 செ.மீ எனில் ஆரம் காண்க

- a) 3 செ.மீ
- b) 6 செ.மீ
- c) 4 செ.மீ
- d) 5 செ.மீ



37. If interest is compounded every six months a principal of Rs 8,000 at 10% rate of interest will amount to at the end of 18 months

- a) Rs 9,000 b) Rs 9156 c) Rs 9261 d) Rs 9282

அரை ஆண்டுக்கு ஒரு முறை வட்டி அசலுடன் சேர்க்கப்பட்டால் ரூ 8000 க்கு ஆண்டு வட்டி வீதம் 10 % வீதப்படி , 18 மாதங்களுக்குப் பின் இறுதி கூட்டுத்தொகை

- a) ரூ 9,000 b) ரூ 9156 c) ரூ 9261 d) ரூ 9282

38. 400 square metres have to be painted. 1 litre of paint A costs 150 Rs and can be used to paint 4 sq.m. ! litre of paint B costs Rs. 200 and can paint 6 sq.m. Paint C costs Rs. 250 per litre and each litre paint C can be used to paint 8 sq.m. least the cost of painting 400 sq.m is

- b) Rs 10,000 b) Rs 12,500 c) Rs 15,500 d) Rs 16,250

400 சதுர மீட்டர் பரப்பளவு வர்ணம் பூச வேண்டியுள்ளது. A வகை பெயிண்ட் லிட்டருக்கு 150 ரூபாய், ஒரு லிட்டர் கொண்டு 4 சதுர மீட்டர் பூசலாம். B வகை லிட்டர் 200 ரூபாய், லிட்டருக்கு 6 சதுரமீட்டர் பூசலாம். C வகை லிட்டர் 250 ரூபாய், லிட்டருக்கு 8 சதுரமீட்டர் பூசலாம். மிக குறைந்த விலையில் 400 சதுர மீட்டரை வர்ணம் பூச ஆகும் செலவு

- c) ரூ 10,000 b) ரூ 12,500 c) ரூ 15,500 d) ரூ 16,250

39. Find the GCD of $15x^4y^3z^5$, $12x^2y^7z^2$ மீப்பெரு பொது வகுத்தி காண்க

- a) $170x^4y^7z^5$ b) $3x^2y^3z^2$ c) $3x^4y^7z^5$ d) $170x^2y^3z^2$

40. A cone, a hemisphere and cylinder have equal bases. If the heights of the cone and the Cylinder are equal and equal to their common radius, then find the ration of their respective volumes

- a) 1:3:2 b) 3:2:1 c) 1:2:3 d) 3:1:2

ஒரு கூம்பு, ஒரு அரைக்கோளம் மற்றும் உருளை ஆகியன சம அடிப்பரப்பினைக் கொண்டுள்ளன. கூம்பின் உயரம், உருளையின் உயரத்திற்கு சமமாகவும், மேலும் இவ்வயரம் அவற்றின் ஆரத்திற்கு சமமாகவும் இருந்தால் முறையே இம்மூன்றின் கன அளவுகளுக்கு இடையே உள்ள விகிதம் யாது

- b) 1:3:2 b) 3:2:1 c) 1:2:3 d) 3:1:2

41. Find the missing term, 17,19,23,29,?,37

- a) 31 b) 33 c) 35 d) 36

விடுபட்ட எண்ணைக் காண்க 17,19,23,29,?,37

- a) 31 b) 33 c) 35 d) 36

42. A and B can do a work in 8 days, B and C in 12 days, C and A in 24 days. If A, B and C work together, then the number of days, they will complete the work is



- a)6 b)7 c)8 d)4

A மற்றும் **B** என்பவர்கள் ஒரு வேலையை 8 நாட்களிலும், **B** மற்றும் **C** என்பவர்கள், 12 நாட்களிலும் **C** மற்றும் **A** என்பவர்கள் 24 நாட்களிலும் அவ்வேலையை முடிக்கின்றனர். **A**, **B** மற்றும் **C** என்பவர்கள் அவ்வேலையை சேர்ந்து செய்தால், அவர்கள் அவ்வேலையை முடிக்கத் தேவைப்படும் நாட்கள்.

- a)6 b)7 c)8 d)4

43. Which of the following is not a Reform of Warren Hastings

- a) He Introduced dual Government
b) He shifter treasury Murshidabad to Calcutta
c) Two courts of appeal namely the sadar Diwani adalat and Nisamt Adalat was established
d) English Collectors were appointed in every district

வாரன் ஹேஸ்டிங்கிஸின் சீர்திருத்தம் அல்லாதது?

- a) இரட்டையாட்சி முறையை அறிமுகப்படுத்தினார்
b) கரூவூலத்தை மூர்ஷிதாபாத்தில் இருந்து கொல்கத்தாவிற்கு மாற்றினார்
c) இரண்டு நீதிமன்றங்கள் , உரிமையியல் மற்றும் குற்றவியல் நீதிமன்றங்கள் ஏற்படுத்தப்பட்டன
d) ஒவ்வொரு மாவட்டத்திற்கும் ஆங்கில கலெக்டர்கள் நியமிக்கப்பட்டனர்

44. Consider the following statement and Pick the incorrect one

- a) The revolt begun with a mutiny of soldiers but soon people from all section of the society participated
b) Great revolt occurred during the period of Lord Dalhousie
c) The English historian regard it as a mere sepoy mutiny , with selfish interest
d) Indian historians called it as a First War of Independence

கீழ்க்கண்ட கூற்றுக்களை ஆராய்ந்து சரிற்றா விடையைத் தேர்ந்தெடு

- a) 1857 போராட்டம் சிப்பாய்களால் துவக்கப்பட்டு பின் சமுதாயத்தின் அனைத்து பிரிவினரும் பங்கு கொண்டனர்
b) இப்போராட்டம் டல்ஹூசியின் ஆட்சிக்காலத்தில் நடைபெற்றது
c) பிரிட்டிஷ் வரலாற்றாளர்கள் இதனை சாதாரண சிப்பாய்கலகம் , சுய நலத்தின் ஆசையால் நடைபெற்ற போராட்டம் என்றழைத்தனர்
d) இந்திய வரலாற்றாளர்கள் இதனை முதல் சுதந்திர விடுதலைப் போராட்டம் என்றழைத்தனர்

45. Consider the Following statement and the correct code

- I. Rajaram Mohan roy tried to cure Hindu Society
II. He founded Atmiya sabha in 1829



48. Which Political Party formally accepted the Cabinet Mission plan on 6th June , 1946, which had rejected the demand for the sovereign Pakistan

- a) The Hindu Mahasabha
- b) The Congress
- c) The Muslim League
- d) The unionist Party

அமைச்சரவை தூதுக்குழு திட்டத்தினை ஜூன் 6, 1946 முறையாக ஏற்றுக்கொண்ட அரசியல் கட்சி எது , எந்த கட்சி இறையாண்மையுடைய பாகிஸ்தான் கோரிக்கையை நிராகரித்தது

- a) இந்து மஹாசபா
- b) காங்கிரஸ்
- c) முஸ்லீம் லீக்
- d) யூனியனிஸ்ட் கட்சி

49. With regard to quit India movement consider the following statement

- I. It called for immediate end to British rule
- II. Gandhiji Directed the civil servants to resign
- III. There was active participant of peasants

Which of the above statement are correct

- a) I ,II,III
- b) I,III,
- c) I only
- d) II only

வெள்ளையனை வெளியேறு தொடர்பான கூற்றுகளை ஆராய்க

- I. இவ்வியக்கம் பிரிட்டிஷ் ஆட்சி உடனடியாக முடிவுக்கு வரவேண்டும் என கூறியது
- II. காந்தி அரசுப்பணியாளர்களை ராஜினாம செய்ய கேட்டுக்கொண்டார்
- III. விவசாயிகள் மும்முரமாக இப்போராட்டத்தில் கலந்து கொண்டனர்

சரியான குறியீட்டை தேர்ந்தெடுக்கவும்

- a) 1,2,3 சரி
- b) 1,3 சரி
- c) 1 மட்டும்
- d) 2 மட்டும்

50. Supreme Court Judgment in Indra sawhney vs Union of India is related to which issue

- a) Reservation of OBC
- b) Reservation for Scheduled Caste
- c) Reservation for Minorities
- d) Reservation of Scheduled Tribes

இந்திரா சஹானி எதிர் இந்திய அரசு தொடர்பான வழக்கின் உச்ச நீதிமன்றத்தின் தீர்ப்பு எதனோடு தொடர்புடையது

- a) பிற்படுத்தப்பட்டோருக்கான இட ஒதுக்கீடு



- b) தாழ்த்தப்பட்டோருக்கான இட ஒதுக்கீடு
- c) சிறுபான்மையினருக்கான இட ஒதுக்கீடு
- d) பழங்குடியினருக்கான இட ஒதுக்கீடு

51. The Elected members of the state legislative assembly participate in the elections of

- I. The president of India
- II. The Vice president of India
- III. Members of Rajya sabha
- IV. Members of legislative Council

Choose the Correct code

- a) 1,2,3
- b) 1,3,4
- c) 1,2,4
- d) 1,2,3,4

தேர்தெடுக்கப்பட்ட மாணிலச் சட்டப்பேரவை உறுப்பினர்கள் எந்த தேர்தலில் கலந்து கொள்வார்கள்

- I. குடியரசுத்தலைவர்
- II. துணைக்குடியரசுத் தலைவர்
- III. ராஜ்ய சபா
- IV. சட்ட மேலவை

சரியான குறியீட்டினை தேர்ந்தெடுக்க

- b) 1,2,3
- b) 1,3,4
- c) 1,2,4
- d) 1,2,3,4

52. Which of the commission/ committee has recommended that there should be a separate minister for Panchayat Raj

- a) Ashok Mehta Committee
- b) L.M. Singhvi Committee
- c) G. V. K. Rao Committee
- d) Second Administrative Reform Committee

கீழ்க்கண்டவற்றுள் எந்தக்குழு பஞ்சாயத்து ராஜ்க்கு என்று தனி அமைச்சர் இருக்க வேண்டும் என பரிந்துரை செய்தது

- a) அசோக் மேத்தா கமிட்டி
- b) எல் எம் சிங்வி குழு
- c) ஜி வி கே ராவ் கமிட்டி
- d) இரண்டாம் நிர்வாக சீர்திருத்தக் குழு

53. Consider the Following statement Indian Constitution is

- I. Written Constitution
- II. Unitary state
- III. Universal Adult Franchise
- IV. Secular State

Choose the Correct Code



IYACHAMY ACADEMY

(Associated With www.iyachamy.com)
Institution For Competitive Exam

- a) 1,2,3 only b) 2, 3,4 only a) 1,3,4 only d) 1,2,3,4

இந்திய அரசியலமைப்பு தொடர்பான கூற்றுகளை ஆராய்க

1. எழுதப்பட்ட அரசியலமைப்பு 2) ஒற்றையாட்சி நாடு
3) வயது வந்தோர் வாக்குரிமை 4) மதச்சார்பற்ற நாடு
சரியான குறியீட்டை தேர்ந்தெடு

- a) 1,2,3 சரி b) 2,3,4 சரி c) 1,3,4 சரி d) 1,2,3,4 சரி

54. Which of the following States and the year of their creation is incorrectly matched?

- a) Andhra Pradesh - 1956
b) Maharashtra - 1960
c) Arunachal Pradesh - 1987
d) None of the above

கீழ்க்கண்டவற்றுள் மாநிலங்களும் அவை உருவாக்கப்பட்ட ஆண்டுகளும் தரப்பட்டுள்ளன அவற்றில் பொருத்தமில்லாதவை

- a) ஆந்திரப் பிரதேசம் - 1956
b) மகாராஷ்டிரா - 1960
c) அருணாச்சல பிரதேசம் - 1987
d) மேற்கண்ட எதுவுமில்லை

55. Find the Incorrect one

- a) Tamilandu Human Rights Commission - 1997
b) Tamil Nadu Right to Information Act - 1997
c) Tamil nadu state commission for women - 1993
d) State Commission for Protection of Child Rights - 2007

தவறான ஒன்றைக் கண்டறிக

- a) தமிழ்நாடு மனித உரிமை ஆணையம் - 1997
b) தமிழ்நாடு தகவல் அறியும் உரிமைச் சட்டம் - 1997
c) தமிழ்நாடு மகளிர் ஆணையம் - 1993
d) தமிழ்நாடு குழந்தைகள் பாதுகாப்பு ஆணையம் - 2007

56. Periplus of Erhythrean Sea' was written by

- A) Ptolemy B) Hiuen Tsang
C) Pliny D) None of them

'பெரிபிளஸ் ஆப் எரித்திரேயன் சீ' என்னும் புத்தகம் யாரால் எழுதப்பட்டது

- A) டாலமி B) யுவான் சுவாங்
C) பிளினி D) இவற்றுள் எவருமில்லை



57. Women of Sangam age

- I. Enjoyed respectable status in society
- II. Excelled in music, dance, drama & education
- III. Held many responsibilities
- IV. Had marriage in Aryan fashion

Of these:

- A) I, III and IV are correct B) II, III and IV are correct
C) I, II and III are correct D) I, II and IV are correct

சங்ககால பெண்கள்

- I. சமூகத்தில் மதிக்கப்பட்டார்கள்
- II. இசை, நடனம், நாடகம், கல்வியில் சிறந்து விளங்கினர்
- III. பல பொறுப்புகளை வகித்தனர்
- IV. திருமணம் ஆரிய முறையில் நடந்தது.

இவற்றுள்:

- A) I, III மற்றும் IV சரியானவை B) II, III மற்றும் IV சரியானவை
C) I, II மற்றும் III சரியானவை D) I, II மற்றும் IV சரியானவை

58. Bhakti movement in Tamil Nadu started during the period of

- A) Sangam B) Pallavas
C) Cholas D) Pandyas

பக்தி இயக்கம் தமிழகத்தில் தோன்றிய காலம்

- A) சங்ககாலம் B) பல்லவர் காலம்
C) சோழர்கள் காலம் D) பாண்டியர்கள் காலம்

59. Match List I with List II correctly and select your answer using the codes given below:

List I

- a) Simhavishnu
b) Neduchadayan Paranthagan
c) Nandi Varman II
D) Narasimhavarman

List II

1. Velvikudi Cheppedu
2. Udayendra Pattayam
3. Udaya Sundara Mangala Pattayam
4. Kasakudi Pattayam

Codes:

- | | a | b | c | d |
|----|---|---|---|---|
| A) | 3 | 2 | 1 | 4 |
| B) | 2 | 1 | 4 | 3 |
| C) | 1 | 3 | 2 | 4 |



IYACHAMY ACADEMY

(Associated With www.iyachamy.com)
Institution For Competitive Exam

D) 4 2 3 1

பட்டியல் Iஐ பட்டியல் II உடன் பொருத்தி, கீழே கொடுக்கப்பட்டுள்ள குறியீடுகளைக் கொண்டு சரியான விடையைத் தேர்ந்தெடு :

பட்டியல் I

பட்டியல் II

- | | |
|---------------------------|-------------------------------|
| a) சிம்ம விஷ்ணு | 1. வேள்விக்குடிச் செப்பேடு |
| b) நெடுஞ்சடையன் பராந்தகன் | 2. உதயேந்திரப் பட்டயம் |
| c) இரண்டாம் நந்திவர்மன் | 3. உதய சுந்தர மங்கலப் பட்டயம் |
| D) நரசிம்ம வர்மன் | 4. காசக்குடி பட்டயம் |

குறியீடுகள் :

	a	b	c	d
A)	3	2	1	4
B)	2	1	4	3
C)	1	3	2	4
D)	4	2	3	1

60. Which of the following is wrongly matched?

- | | | |
|-----------------------------|---|---------------|
| A) Historical archaeology | - | Arikamedu |
| B) Pre-historic archaeology | - | Attirampakkam |
| C) Under-water archaeology | - | Dwaraka |
| D) Salvage archaeology | - | Kodumanal |

கீழ்க்காண்பவற்றுள் தவறாகப் பொருத்தப்பட்டுள்ளது எது?

- | | | |
|--|---|-----------------|
| A) வரலாற்றுத் தொல்லியல் | - | அரிக்கமேடு |
| B) வரலாற்றுக்கு முற்பட்ட காலத் தொல்லியல் | - | அத்திரம்பாக்கம் |
| C) நீரடித் தொல்லியல் | - | துவாரகா |
| D) அழிவுமீட்புத் தொல்லியல் | - | கொடுமணல் |

61. Match List I with List II correctly and select your answer using the codes given below:

List I

List II

- | | |
|----------------|---------------------|
| a) Payyampalli | 1. Bead industry |
| b) Gudiyam | 2. Neolithic period |
| c) Kunnattur | 3. Natural caverns |
| D) Kodumanal | 4. Sekkular |

Codes:

a b c d



IYACHAMY ACADEMY

(Associated With www.iyachamy.com)
Institution For Competitive Exam

- A) 2 3 1 4
B) 1 4 3 2
C) 3 4 1 2
D) 2 3 4 1

பட்டியல் Iஐ பட்டியல் II உடன் பொருத்தி, கீழே கொடுக்கப்பட்டுள்ள குறியீடுகளைக் கொண்டு சரியான விடையைத் தேர்ந்தெடு :

பட்டியல் I

பட்டியல் II

- a) பையம்பள்ளி
b) குடியம்
c) குன்னத்தூர்
d) கொடுமணல்
1. மணிகள் செய்யும் தொழிற்சாலை
2. புதிய கற்காலம்
3. இயற்கையான குகைகள்
4. சேக்கிழார்

குறியீடுகள் :

- | | a | b | c | d |
|----|---|---|---|---|
| A) | 2 | 3 | 1 | 4 |
| B) | 1 | 4 | 3 | 2 |
| C) | 3 | 4 | 1 | 2 |
| D) | 2 | 3 | 4 | 1 |

62. Navai, Timil, Ambi and Vangam refer to

- A) Metals of Sangam Age
B) Ships/boats of Sangam Age
C) Toys found at Arikamedu
D) Tamil-brahmi inscriptions

நாவாய் , திமில், அம்பி மற்றும் வங்கம் எதைக் குறிக்கிறது

- a) சங்க கால உலோகங்கள்
b) சங்க கால கப்பல்கள்
c) அரிக்கமேட்டில் கிடைத்த பொம்மைகள்
d) தமிழ் பிராமி கல்வெட்டு

63. The library work 'Kalingattu parani' praises the military exploits of -----
Chola

- A) Kulothunga-I
B) Kulothunga-III
C) Kulothunga-II
D) Rajendra-I

கலிங்கத்துப்பரணி என்னும் இலக்கிய நூல் ----- சோழ மன்னனின் படையெடுப்பு வெற்றிகளை புகழ்கிறது.

- A) முதலாம் குலோத்துங்கன்
B) மூன்றாம் குலோத்துங்கன்
C) இரண்டாம் குலோத்துங்கன்
D) முதலாம் இராஜேந்திரன்

64. Match List I with List II correctly and select your answer using the codes given below:



List I

- a) Kalavu
- b) Karpu
- c) Kurinji
- D) Palai

Codes:

	a	b	c	d
A)	4	3	1	2
B)	4	3	2	1
C)	3	4	2	1
D)	3	4	1	2

List II

- 1. Pre-marital love
- 2. Long separation
- 3. Arranged marriage
- 4. Marriage without parent's knowledge

பட்டியல் Iஐ பட்டியல் II உடன் பொருத்தி, கீழே கொடுக்கப்பட்டுள்ள குறியீடுகளைக் கொண்டு சரியான விடையைத் தேர்ந்தெடு :

பட்டியல் I

பட்டியல் II

- a) களவு
- b) கற்பு
- c) குறிஞ்சி
- D) பாலை

- 1. திருமணத்திற்கு முந்திய காதல்
- 2. நீண்ட பிரிவு
- 3. நிச்சயிக்கப்பட்ட திருமணம்
- 4. பெற்றோர் அறியாமல் திருமணம்

குறியீடுகள் :

	a	b	c	d
A)	4	3	1	2
B)	4	3	2	1
C)	3	4	2	1
D)	3	4	1	2

65. What is the second line of the verse from Purananooru that begins as follows?

“ Nallathu seithal Atteerayinum”

(Even if you don't do good deeds)

- a) “Allatu ceyta lompumi natutan “
(avoiddoing bad ones! If you do that)
- b) “Olluvatu ollum enralum, yavarkkum”
(To give to others what one is capable of, and to)
- c) “Nallarivu utaiyor nalkuravu”
(of the poverty of those who are truly aware)



d) "Nitu vaaliya netuntakai! Yanum"

(living in a distant country)

"நல்லது செய்த லாற்றீ ராயினும் " எனும் புற நானுற்றுப் பாடலின் அடுத்த அடி

- a) அல்லது செய்த லோம்புமி னதுதான்
- b) ஒல்லுவது ஒல்லும் என்றலும், யாவர்க்கும்
- c) நல்லறிவு உடையோர் நல்குரவு
- d) நீடு வாழிய நெடுந்தகை! யானும்

66. The Earliest work of Tamil Tolkappiyam Text deals with

- I. Grammar
- II. Poetics
- III. Love
- IV. Dance

Choose the Correct one

- a) I,II,III
- b) II,III,IV
- c) I,III,IV
- d) I,II,III,IV

தமிழின் மிகப்பழமையான தொல்காப்பிய நூல் எதைப் பேசுகிறது

- I. இலக்கணம்
- II. பாடல்கள்
- III. காதல்
- IV. நடனம்

சரியான குறியீட்டை தேர்ந்தெடுக்க

- a) I,II,III
- b) II,III,IV
- c) I,III,IV
- d) I,II,III,IV

67. Consider the following statement with reference to Silapathikaram and choose the incorrect one

- a) Tamil country was ruled by three Different kings
- b) Its unity was thus not political but only the Cultural unity based on the literature and language
- c) The story is not of a kings but the son of merchant and daughter of another merchant
- d) The Kannagi kovalan marriages takes in Chera nadu

சிலப்பதிகாரம் தொடர்பான கூற்றுக்களை கவனத்தில் கொண்டு சரியற்ற ஒன்றை தெரிவு செய்க

- a) தமிழ் நாடு மூவேந்தர்களால் ஆளப்பட்டது
- b) இவர்களின் ஒற்றுமை அரசியல் சார்ந்ததாக இருக்கவில்லை ஆனால் மொழி மற்றும் இலக்கியத்தை அடிப்படையாக வைத்த கலாச்சார ஒற்றுமையாக இருந்தது



- c) இந்தக் கதை மன்னர்கள் பற்றியதல்ல , வனிகன் ஒருவரின் மகன் மற்றும் மற்றொரு வணிகரின் மகள் பற்றிய கதையாகும்
- d) கண்ணகி கோவலன் திருமணம் சேர நாட்டில் நடைபெற்றது

68. Thirukural is claimed by almost all religions of India as one of their adherents because

- a) The Whole tenor of thirukural shows that he want to emphasise the universal aspect of human life
- b) Thiruvalluvar might have heard the sermons of the apostle St.Thomas who is said to live at santhome
- c) It has been said that Valluvar couplet's contain ideas found in , kamasutra ,Arthasasthra and Manu some works
- d) Certain phrases are pointed as having a Jain flavour

இந்தியாவில் உள்ள எல்லா சமயத்தவரும் திருக்குறளை அவர்களின் நூலாக உரிமை கோருகிறார்கள் ஏனென்றால்

- a) மனித வாழ்க்கையின் உலகளாவிய அம்சத்தை அவர் வலியுறுத்த விரும்புகிறார் என்பதை திருக்குறளின் காலம் காட்டுகிறது
- b) சாந்தோமில் வசித்ததாக கூறப்படும் அப்போஸ்தலன் புனித தோமஸின் பிரசங்கங்களை திருவள்ளுவர் கேட்டிருக்கலாம் என கூறப்படுகிறது
- c) காமசூத்ரா, அர்த்தசாஸ்திரம் மற்றும் மனு சில படைப்புகளில் காணப்படும் கருத்துக்களை வள்ளுவரின் குறள்களும் கொண்டிருப்பதாகக் கூறப்படுகிறது
- d) சில சொற்றொடர்கள் சமண சுவை கொண்டவை என சுட்டிக்காட்டப்படுகின்றன

69. Who has written in a Kind of Viruttam which comes to be called Tiru Kurunthogai in Appar's Poem

- a) Thirumoolar
- b) Manikavasagar
- c) Thirunavukkarasar
- d) Periyazhvaar

ஒரு வகையான விருத்தப்பாடல் திருக்குறுந்தொகை என அழைக்கப்படுகிறது இது அப்பரின் பாடல் தொகுப்பின் கீழ் வருகிறது இதனை எழுதியவர் யார்

- a) திருமூலர்
- b) மாணிக்கவாசகர்
- c) திருணாவுக்கரசர்
- d) பெரியாழ்வார்

70. Which one the following minor works deal with Puram

- a) Ula b) Tutu c) Matal d) Parani



கீழ்க்கண்டவற்றுள் எந்த சிற்றிலக்கியம் புறப்பொருள் பற்றி பாடுகிறது

- a) உலா b) தூது c) மடல் d) பரணி

71. Find the Incorrect one

- a) First Short story in Tamil - V V S Iyer
b) Father of modern prose Literary - Arumuga Navalar
c) Civakamiyin Sabatam - cola age of Raja Raja
d) Paavai Vilakku - Akilan

பொருத்தமற்ற ஒன்றை தெரிவு செய்க

- a) தமிழின் முதல் சிறுகதை - வ வே சு ஐயர்
b) தற்கால உரை நடையின் தந்தை - ஆறுமுக நாவலர்
c) சிவகாமியின் சபதம் - ராஜ ராஜ சோழன் காலம்
d) பாவை விளக்கு - அகிலன்

72. கூத்தாட்டு அவைக்குழாத்த தற்றே பெருஞ்செல்வம்

போக்கும் அதுவிளிந் தற்று.

இந்தக் குறள் எதனை வெளிப்படுத்துகிறது

- a) நாடக அரங்கு
b) செல்வம் நிலைத்தல்
c) செல்வம் நிலையாமை
d) எல்லோருக்கும் செல்வத்தை பகிர்ந்தளித்தல்

As crowds round dancers fill the hall, is wealth's increase;
Its loss, as throngs dispersing, when the dances cease.

What this Kural reveals

- a) Dancing Theatre
b) Wealth is Stable
c) Instable of Wealth
d) Distribution of wealth to all

73. காந்தியடிகளின் அகிம்சை மற்றும் சத்தியம் ஆகியற்றை கீழ்க்கண்டவற்றுள் எந்தக் குறள் வலியுறுத்துகிறது

Which of the following couplets emphasizes the non-violence and truth of Gandhiji?



- a) வாய்மை எனப்படுவது யாதெனின் யாதொன்றும்
தீமை இலாத சொல்லல்.
**You ask, in lips of men what 'truth' may be;
'Tis speech from every taint of evil free.**
- b) பொய்மையும் வாய்மை யிடத்த புரைதீர்ந்த
நன்மை பயக்கும் எனின்.
**Falsehood may take the place of truthful word,
If blessing, free from fault, it can afford.**
- c) யாமெய்யாக் கண்டவற்றுள் இல்லை எனைத்தொன்றும்
வாய்மையின் நல்ல பிற.
**Of all good things we've scanned with studious care,
There's nought that can with truthfulness compare.**
- d) ஒன்றாக நல்லது கொல்லாமை மற்றதன்
பின்சாரப் பொய்யாமை நன்று.
**Alone, first of goods things, is 'not to slay';
The second is, no untrue word to say.**

74. ----- இடுவென் றதுபோலும்
கோலொடு நின்றான் இரவு.

இக்குறளில் வள்ளுவர் அதிகமாக வரி வசூலிக்கும் மன்னனை யாரோடு ஒப்பிடுகிறார்

- a) பாதுகாப்பு செய்பவர்
b) காவலன்
c) வழிப்பறிக்க கொள்ளையன்
d) மன்னன்

As 'Give' the ----- uplift,

So kings with sceptred hand implore a gift.

In this verse, Valluvar compares the emperor who collects more taxes

- a) Security Force
b) Policeman
c) Robber
d) King

75. வேண்டற்க வென்றிடனும் ----- வென்றதூஉம்
தூண்டிற்பொன் மீன்விழுங்கி அற்று.



மேற்காணும் திருக்குறளில் எதனை வள்ளுவர் வெற்றிபெற்றால் கூட செய்யக்கூடாது என்று சொல்கிறார்

- a) சூது
- b) தூண்டிலை விழுங்கிய மீன்
- c) தீய வழியில் வந்த பொருள்
- d) மீன் உண்ணுதலை

Seek not the -----; though you should win,

Your gain is as the baited hook the fish takes in.

In the above Thirukural valluvar is that it should not be done even if it is successful

- a) Gambling
- b) The fish that swallowed the bait
- c) Material that came in an evil way
- d) Eating fish

76. Tamil Nadu government has recently reconstituted the State Planning Commission as the

- a) Tamilnadu NITI Ayog
- b) State Development Policy Council
- c) Tamilnadu Economic Development Commission
- d) Tamilnadu Social and Economic Development Policy Commission

சமீபத்தில் தமிழக அரசு மாணில திட்டக்குழுவை எவ்வாறு மறு சீரமைப்பு செய்தது

- a) தமிழ்நாடு நிதி ஆயோக்
- b) மாணில மேம்பாட்டுக் கொள்கை குழு
- c) தமிழ்நாடு பொருளாதார மேம்பாட்டு ஆணையம்
- d) தமிழ்நாடு சமூக பொருளாதார மேம்பாட்டு கொள்கை ஆணையம்

77. Assettion: In 2017 TN HDR Virudhunagar's rise is primarily due to "its relatively higher per capita income"

Reason : the spread of small scale industries such as printing and fireworks, apart from a "vibrant agricultural marketing economy."

கூற்று : 2017 தமிழ்நாடு மனித வள மேம்பாட்டு அறிக்கைப்படி விருதுநகரின் உயர்வு முதன்மையாக "அதன் தனிநபர் வருமானம் ஒப்பீட்டளவில் அதிகமாக" இருப்பதால்

காரணம்: துடிப்பான விவசாய சந்தைப்படுத்தல் பொருளாதாரம்" தவிர, அச்சிடுதல் மற்றும் பட்டாசு போன்ற சிறிய அளவிலான தொழில்களின் பரவல்

- a) Both [A] & [R] are true; and [R] is the correct explanation of [A].
- b) [A] is true, but [R] is false



- c) (A) and (R) are true
- d) [A] is false, but [R] is true
- e) கூற்று மற்றும் காரணம் சரி கூற்றுக்கு காரணம் சரியான விளக்கமாகும்
- f) கூற்று சரி ஆனால் காரணம் தவறு
- g) கூற்று மற்றும் காரணம் சரி
- h) கூற்று தவறு ஆனால் காரணம் உண்மை

78. Find the incorrect one

- a) highest HDI - Kanyakumari
- b) lowest HDI - Ariyalur
- c) Tamil Nadu Compulsory Education Act, -1994
- d) High Sex ratio in Tamilnadu - Darmapuri

தவறான ஒன்றை கண்டறிக

- a) உயர் மனிதவள மேம்பாடி - கன்னியாகுமரி
- b) குறைவான மனிதவள மேம்பாடு - அரியலூர்
- c) தமிழ்நாடு கட்டாய கல்விச் சட்டம் - 1994
- d) ஆண் பெண் பாலின விகிதம் அதிகம் - தர்மபுரி

79. Which one of the following scheme can be termed as women empowerment program

- I. free distribution of mixer-grinder
 - II. Cradle Baby scheme
 - III. Muthulakshmi reddy maternal Assistance Program
 - IV. cattle to the rural poor
- a) I,II,III b) I,IV c) II,III,IV d) I,II,III,IV

கீழ்க்கண்டவற்றுள் எந்த திட்டம் பெண்களுக்கு அதிகாரமளிக்கக் கூடியது எனக் கூற முடியும்

- I. இலவச மிக்ஸி கிரைண்டர்
 - II. தொட்டில் குழந்தை திட்டம்
 - III. முத்துலட்சுமி ரெட்டி மகப்பேறு நிதி உதவித்திட்டம்
 - IV. ஊரக ஏழைகளுக்கு கால்நடை வழங்கும் திட்டம்
- a) I,II,III b) I,IV c) II,III,IV d) I,II,III,IV

80. very important step forward in ensuring social balance in State administration is

- a) caste based reservation
- b) economic based reservation
- c) religion based reservation
- d) none of the above



மாநில நிர்வாகத்தில் சமூக சமநிலையை உறுதி செய்வதில் மிக முக்கியமான படியாகும்

- சாதி சார்ந்த இடஒதுக்கீடு
- பொருளாதாரம் சார்ந்த இட ஒதுக்கீடு
- மதம் சார்ந்த இட ஒதுக்கீடு
- மேற்கண்ட எதுவுமில்லை

81. Tamil Nadu abolition of posts of part-time Village officers in 1980 paved the way for

- Social Justice
- Inclusive Development
- Effective administration

Choose the correct one

- I,II,III, b) I,II c) I only d) II only

1980 இல் பகுதிநேர கிராம அலுவலர்களின் பதவிகளை தமிழகம் ஒழித்தது எதற்கு வழி வகுத்தது

- சமூக நீதி
- உள்ளடக்கிய வளர்ச்சி
- சிறந்த நிர்வாகம்

சரியான குறியீட்டினை தேர்வு செய்க

- I,II,III, b) I,II c) I only d) II only

82. Which of the following is / are true with reference to puratchi thalaivar MGR - nutritious meal programme

- To maximize enrollment and reduce school dropout rates with a view to universalize elementary education.
- To empower women by offering employment opportunities
- To provide nutrition to the under fed and under nourished children.
- To encourage children from disadvantaged backgrounds to attend school regularly and to help them in attaining formal education.

Which one of the following code is Correct

- 1,2,3 b) 2,3,4 c) 1,2,4 d) 1,2,3,4

கீழ்க்கண்டவற்றுள் புரட்சித்தலைவர் எம் ஜி ஆர் மதிய சத்துணவு திட்டம் தொடர்பான உண்மையான கூற்றுக்கள் யாவை

- பள்ளிகளில் குழந்தைகள் சேர்க்கையை அதிகரிக்கவும் , பள்ளி இடை நின்றலை குறைக்கவும் இத்துடன் அனைவருக்குமான ஆரம்பக்கல்வியை அளிப்பது
- பெண்களுக்கு வேலைவாய்ப்பு அளிப்பதோடு அதிகாரப்படுத்துவதற்கு
- ஊட்டச்சத்து குறைவாக உள்ள குழந்தைகளுக்கு ஊட்டச்சத்து அளிப்பது



IV. பின்தங்கிய பின்னணியில் உள்ள குழந்தைகளை தவறாமல் பள்ளிக்குச் செல்ல ஊக்குவித்தல் மற்றும் முறையான கல்வியைப் பெற அவர்களுக்கு உதவுதல் கீழ்க்கண்டவற்றுள் சரியான குறியீடு எது

- a) 1,2,3 b) 2,3,4 c) 1,2,4 d) 1,2,3,4

83. Annai therasa ninaivu marriage assistance scheme is implemented for

- a) Orphan
b) Intercaste Marriage
c) Daughters of poor widows
d) None of the above

அன்னை தெரசா நினைவு திருமண உதவித்திட்டம் யாருக்காக செயல்படுத்தப்படுகிறது

- a) ஆதரவற்றோர்
b) சாதிக்கலப்பு திருமணம்
c) ஏழ்மையான விதவையின் மகள்
d) மேற்கண்ட எதுவுமில்லை

84. standing examples of Tamil Nadu's model initiatives

- I. Mid day Meals Scheme
II. Cradle Baby Scheme
III. Girl child Protection Schemes
IV. Old age Pension

Choose the Correct code

- a) 1,2,3 b) 2,3,4 c) 1,2,4 d) 1,2,3,4

தமிழ் நாடு மாதிரியான முன்னெடுப்புகளில் நிலையான உதாரணம்

- I. மதிய உணவுத்திட்டம்
II. தொட்டில் குழந்தை திட்டம்
III. பெண் குழந்தை பாதுகாப்பு திட்டம்
IV. முதியோர் நிதியுதவி

85. Muthulakshmi Reddy Maternity Assistance Scheme helped in

- I. Reducing Infant Mortality Ratio
II. Increasing Institutional Delivery
III. Reducing Maternal Mortality Ratio

Choose the Correct code

- a) 1,2,3 b) 1,2 c) 2,3 d) 1,3

முத்துலட்சுமி ரெட்டி நினைவு மகப்பேறு உதவித்திட்டம் எதில் உதவிபுரிந்தது

- I. சிசு இறப்பு விகிதம் குறைவு
II. நிறுவன குழந்தைப் பிறப்பு அதிகரிப்பு



III. தாய்மார் இறப்பு விகிதம் குறைவு

சரியான குறியீட்டை தேர்வு செய்க

- a) 1,2,3 b) 1,2 c) 2,3 d) 1,3

86. Consider the Following Statement and pick the Wrong one

- a) Tamilnadu Accounting for close to 6 per cent of the country's population
b) The decadal growth rate of population for the period 2001-2011 was 15.6 per cent
c) As per the Census 2011, the State has a population density of 382 persons per sq km
d) Tamil Nadu is the most urbanised large State in the country with 48.45 per cent of its population living in urban areas

கீழ்க்கண்ட கூற்றுக்களை கவனத்தில் கொண்டு சரியற்ற ஒன்றை தெரிவு செய்க

- a) நாட்டின் மொத்த மக்கள் தொகையில் தமிழ்நாடு 6 % மக்கள் தொகையை கொண்டுள்ளது
b) 2001-2011 ஆம் ஆண்டிற்கான பத்தாண்டு வளர்ச்சியில் தமிழக வளர்ச்சி சதவீதம் 15.6
c) 2011 ஆம் ஆண்டு மக்கள் தொகை கணக்கெடுப்பின் படி மானிலத்தில் மக்கள் அடர்த்தி சதுரகிலோமீட்டருக்கு 382
d) நாட்டிலேயே அதிகமாக நகர்மயமான மானிலம் 48.45 சதவீத மக்கள் நகர்ப்புறத்தில் வசிக்கின்றனர்

87. Which of the following fact/s is /are correct ?

- I. Around 40 per cent of the State's population is still directly dependent on agriculture for its livelihood.
II. The State has been divided into seven agro-climatic subzones for planning agricultural development
III. The Contribution of Agriculture & Allied sector in GDP Gradually Increasing
IV. Tamil Nadu is the second most industrialised State after Maharashtra
a) 1,3,4 b) 1,2,4 c) 1,2,3 d) 1,2,3,4

கீழ்க்கண்ட தகவல்களில் எது சரியானது

- I. மானில மக்கள் தொகையில் 40 சதவீத மக்கள் நேரடியாக வேளாண்மையை வாழ்வாதரத்திற்காக சார்ந்துள்ளனர்
II. வேளாண் மேம்பாட்டு திட்டமிடுதலுக்காக மானிலம் 7 வேளாண் சூழல் மண்டலமாக பிரிக்கப்பட்டுள்ளது
III. மொத்த உள் மானில உற்பத்தியில் தொடர்ச்சியாக வேளாண்மைத்துறையின் பங்களிப்பு அதிகரித்து வருகிறது
IV. மகாராஷ்டிராவிற்கு பின் இரண்டாவதாக அதிக தொழில்மயமான மானிலம் தமிழ்நாடு சரியான குறியீட்டை தேர்வு செய்க



a) 1,3,4

b) 1,2,4

c) 1,2,3

d) 1,2,3,4

88. First Tamilnadu Human Development report was published in the year

a) 2013

b) 2003

c) 2001

d) 2001

முதலாவது தமிழ்நாடு மனிதவள மேம்பாட்டு அறிக்கை எந்த ஆண்டு வெளியிடப்பட்டது

a) 2013

b) 2003

c) 2001

d) 2001

89. Find the incorrect one

a) All Women Police Stations

- 1992

b) Rainwater harvesting

- 2003

c) New Veeranam scheme

- 2004

d) Amma canteens

- 2013

பொறுத்தமற்ற ஒன்றை தெரிவு செய்க

a) அனைத்து மகளிர் காவல் நிலையம்

- 1992

b) மழை நீர் சேகரிப்பு

- 2003

c) புதிய வீராணம் திட்டம்

- 2004

d) அம்மா உணவகம்

- 2013

90. The Tamil Nadu Infrastructure Development Board was set up in

a) 2012

b) 2017

c) 2018

d) 2020

தமிழ்நாடு உள்கட்டமைப்பு மேம்பாட்டு கழகம் எந்த ஆண்டு அமைக்கப்பட்டது

a) 2012

b) 2017

c) 2018

d) 2020

91. The digestive juice without enzyme is

a) Bile

b) Gastric juice

c) Pancreatic juice

d) saliva

நொதிகள் இல்லாத செரித்தல் நீர்

a) பித்த நீர்

b) இரைப்பை நீர்

c) கணைய நீர்

d) உமிழ் நீர்

92. Which of the following is correct

a) the diaphragm contracts - volume of chest cavity increased

b) the diaphragm contracts - volume of chest cavity decreased

c) the diaphragm relax - volume of chest cavity increased

d) the diaphragm relax - volume of chest cavity decreased

கீழ்க்கண்டவற்றுள் சரியான கூற்று

a) உதரவிதானம் சுருங்கும் போது - மார்புக்குழி விரிவடையும்



- b) உதரவிதானம் சுருங்கும் போது - மார்புக்குழி சுருங்கும்
- c) உதரவிதானம் விரிவடையும்போது - மார்புக்குழி விரிவடையும்
- d) உதரவிதானம் விரிவடையும்போது - மார்புக்குழி சுருங்கும்

93. After having lunch or dinner one can feel to pass urine, because of a

- a) stomach pressures on bladder
- b) solids become liquids
- c) water content in food material
- d) sphincter relaxation

இரவு அல்லது மதிய உணவிற்குப் பின் , ஒருவருக்கு உடனடியாக சிறுநீர் கழிக்க வேண்டும் என உந்துதல் ஏற்படக் காரணம்

- a) சிறுநீர்ப்பையின் மீது வயிற்றின் அழுத்தம்
- b) திடப்பொருள் திரவமாக மாறியது
- c) உணவில் உள்ள திரவப் பொருட்களால்
- d) ஸ்பிண்டர் தசை விரிவடைவதால்

94. What does a food chain always start with

- a) The herbivore
- b) The carnivore
- c) The producer
- d) none of the

உணவுச் சங்கிலிகள் எதனிலிருந்து ஆரம்பமாகும்

- a) தாவர உண்ணி
- b) விலங்குண்ணி
- c) உற்பத்தியாளர்
- d) எவையுமில்லை

95. Sustainable development means

- a) prevention of wastage
- b) stable growth
- c) development without damaging
- d) high yielding in less time

நிலையான வளர்ச்சி என்பதன் பொருள்

- a) வீணாவதைக் குறைத்தல்
- b) நிரந்தரமான வளர்ச்சி
- c) கெடுதியற்ற வளர்ச்சி
- d) குறைந்த காலத்தில் அதிக உற்பத்தி



96. An ambulance is moving fast with its siren switched 'ON'. The person who does not experience the Doppler effect is

- a) the listener at rest, and the ambulance is approaching him
- b) the driver of the ambulance
- c) the listener at rest and the ambulance is moving away from him
- d) The listener who is running towards the ambulance.

ஒரு ஆம்புலன்ஸ் ஆனது அதன் சைரன் ஒலியை எழுப்பிக் கொண்டு வேகமாகச் செல்கிறது. பின்வருபவர்களில் , டாப்ளர் விளைவை உணராதவர் யார்

- a) நிலையாக உள்ள கேட்பவர் மேலும் ஆம்புலன்ஸ் அவரை அணுகிச்செல்லும்போது
- b) ஆம்புலன்ஸின் ஓட்டுனர்
- c) நிலையாக உள்ள கேட்பவர் மேலும் ஆம்புலன்ஸ் அவரை விட்டு விலகிச் செல்லும்போது
- d) ஆம்புலன்ஸ் நோக்கி ஓடிச்செல்லும் கேட்பவர்

97. Arrange the early attempts to promote scientific temper in India

- a) Tiruvalluvar, Buddha, Rajaram mohan roy , Jawaharlal Nehru
- b) Jawharlall Nehru , Rajaram mohan roy , Tiruvalluvar , Buddha
- c) Buddha , Tiruvalluvar, Rajaram mohan roy , Jawaharlal Nehru
- d) Rajaram Mohan roy , Jawaharlal Nehru, Bhudda , Tiruvaluvar

இந்தியாவில் அறிவியல் மனப்பாங்கை ஊக்குவிக்க மேற்பட்டவர்களை கால வரிசைப்படுத்து

- a) திருவள்ளுவர், புத்தர், ராஜாராம் மோகன் ராய், ஜவஹர்லால் நேரு
- b) ஜவஹர்லால் நேரு, ராஜாராம் மோகன்ராய், திருவள்ளுவர், புத்தர்
- c) புத்தர், திருவள்ளுவர், ராஜாராம் மோகன்ராய், ஜவஹர்லால் நேரு
- d) ராஜாராம் மோகன்ராய், ஜவஹர்லால் நேரு, புத்தர், திருவள்ளுவர்

98. Flow of energy is unidirectional in an ecosystem because in each trophic level

- a) Number of consumers is constant
- b) Number of consumers reducers
- c) Loss of energy is more than the amount of available energy
- d) Available energy is completely consumed by consumers

சூழ்நிலை மண்டலத்தில் ஆற்றலின் போக்கு ஒரே திசையில் உள்ளது ஏனென்றால் ஒவ்வொரு ஆற்றல் மட்டத்திலும்

- a) நுகர்வோர்களின் எண்ணிக்கை நிலையானது
- b) நுகர்வோர்களின் எண்ணிக்கை குறைவானது
- c) கிடைக்கக்கூடிய ஆற்றலின் அளவை விட ஆற்றல் இழப்பு அதிகம்
- d) கிடைக்கக்கூடிய ஆற்றல் முழுவதும் நுகர்வோர்களால் நுகரப்படுகிறது

99. Match the Following



- | | |
|------------------|----------------|
| A. Malaria | P. Bone narrow |
| B. Filariya | Q. Brain |
| C. Encephalities | R. Blood Cells |
| D. Leukemia | S. Lymph nodes |

கீழ்க்கண்டவற்றை பொருத்துக

- | | |
|--------------------|--------------------------|
| A. மலேரியா | P. குறுகிய எலும்புகள் |
| B. பிலேரியா | Q. மூளை |
| C. என்செப்பாலிடீஸ் | R. ரத்த செல்கள் |
| D. லூகேமியா | S. நிணநீர் முடிச்சுக்கள் |

Select the Proper code

- | | |
|----------------|----------------|
| a) AP,BS,CQ,DR | b) AQ,BS,CP,DQ |
| c) AR,BQ,CD,DP | c) AS,BQ,CR,DP |

100. A Hormone is
1. a chemical messenger
 2. an enzyme
 3. produced by endocrine glands
 4. specific in its action

Select the correct answer using the codes given below

- a) 1, 2 and 4 only
- b) 1, 3 and 4 only
- c) 2, 3 and 4 only
- d) 3 only

ஹார்மோன் என்பது

1. ஒரு வேதியில் தூதுவர்
2. ஓர் நொதி
3. நாளமில்லாச் சுரப்பியால் உருவாக்கப்படுவது
4. சிறப்பு வகைச் செயல்பாடு உள்ளது

சரியான குறியீட்டை தேர்ந்தெடுக்க

- a) 1, 2 மற்றும் 4
- b) 1, 3 மற்றும் 4
- c) 2, 3 மற்றும் 4
- d) 3 மட்டும்

101. The total amount of green house gases produced , to directly and indirectly support human activities , is referred to as

- | | |
|-------------------------|---------------------|
| a) Carbon dioxide index | b) Carbon footprint |
| c) Carbon sequestration | d) Carbon Capture |



- b) A Japanese space probe tasked to study the atmosphere of Venus.
- c) China's latest mission to study the atmosphere of Mars
- d) The mission of NASA to map the entire surface of Venus.

“Akatsuki”, என்பது சமீபத்தில் செய்தியாக வந்தது

- a) ஐக்கிய அரபு அமீரகத்தின் செவ்வாய் கிரகத்துக்கான செயற்கைக் கோள் திட்டம்
- b) ஜப்பானின் விண்வெளித்திட்டம் வெள்ளியின் புறச்சூழலை ஆய்வு செய்வதற்கானது
- c) செவ்வாய் கோளின் புறப்பகுதியை ஆய்வு செய்ய சீனாவின் சமீபத்திய திட்டம்
- d) வெள்ளிக் கோளின் முழுப் பரப்பையும் கண்டறியும் நாசாவின் திட்டம்

106. The Gopalakrishnan Committee dealt with

- a) Non-Personal Data Governance Framework
- b) Civil Services Reforms
- c) Data Protection Law
- d) Draft National Education Policy

கோபால கிருஷ்ணன் குழு எதனோடு தொடர்புடையது

- a) தனி நபர் தரவு சாராத ஆளுகை சட்டம்
- b) குடிமைப் பணி சீர்திருத்தம்
- c) தரவுப் பாதுகாப்புச் சட்டம்
- d) தேசியக் கல்விக் கொள்கை வரைவு

107. The 90-90-90 strategy is associated with which of the following?

- a) Green House Gas emission mitigation
- b) Poverty alleviation measure
- c) AIDS epidemic
- d) Achieving land degradation neutrality

90-90-90 என்ற உத்தி கீழ்க்கண்டவற்றுள் எதனோடு தொடர்புடையது

- a) பசுமை இல்ல வாயு வெளியிடுதலைக் குறைத்தல்
- b) வறுமை ஒழிப்பு முயற்சி
- c) எய்ட்ஸ் தொற்றுணோய்
- d) நில சீரழிவு சமனிலையை அடைதல்

108. Which one of the following statement is incorrect with reference to Keezhadi

- a) Keeladi-An Urban Settlement of Sangam Age on the Banks of River Vaigai',
- b) Brick structures, terracotta ring wells, fallen roofing with tiles, golden ornaments, broken parts of copper objects were found
- c) Similarities were found in urban planning between the Indus Valley and Keeladi.



d) There is no evidence of water manage found in Keezhadi

கீழடி தொடர்பான கூற்றில் தவறான வாக்கியம் எது

- கீழடி வைகை நதிக்கரையில் அமைந்திருந்த சங்க கால நகர நாகரிகம்
- செங்கல் அமைப்புகள், களிமண் கிணறுகள், ஓடுகளைக் கொண்ட கூரை, தங்க ஆபரணங்கள் உடைந்த செம்பு பொருட்கள் ஆகியவை கிடைத்தது
- கீழடிக்கும் சிந்து சமவெளி நாகரிகத்திற்கும் நகரத்திட்டமிடல் தொடர்பான ஒற்றுமை காணப்படுகிறது
- கீழடியில் நீர் மேலாண்மைக்கான ஆதாரங்கள் ஏதும் கிடைக்கவில்லை

109. The Ordinance to ban online gaming providing for the levy ----- Rupees and -----months' imprisonment of for those engaged in Online Gaming

- 10,000 and 12 months imprisonment
- 5000 and 6 months imprisonment
- 1000 and 3 months imprisonment
- 4000 and 9 months imprisonment

110. Tamil Nadu Governor Banwarilal Purohit for granting assent to the Bill providing for 7.5% horizontal quota for NEET-qualified students of

- Government Schools Students who studied 1st Standard to Higher Secondary
- Government Schools Students who studied 6th Standard to Higher Secondary
- Government Schools and Aided School Students who studied 1st Standard to Higher Secondary
- Its applicable only Private school Students only

தமிழக ஆளுனர் பன்வாரிலால் புரோகித் நீட் தேர்வில் தேர்ச்சி பெற்ற மாணவர்களுக்கு 7.5% உள் இட ஒதுக்கீட்டு மசோதாவுக்கு ஒப்புதல் அளித்தார் இது

- அரசுப் பள்ளியில் 1 முதல் 12 ஆம் வகுப்பு வரை படித்த மாணவர்களுக்கு பொருந்தும்
- அரசுப் பள்ளியில் 6 முதல் 12 ஆம் வகுப்பு வரை படித்த மாணவர்களுக்கு பொருந்தும்
- அரசுப் பள்ளி மற்றும் அரசு உதவிபெறும் பள்ளியில் 1 முதல் 12 ஆம் வகுப்பு வரை படித்த மாணவர்களுக்கு பொருந்தும்
- தனியார் பள்ளி மாணவர்களுக்கு மட்டுமே பொருந்தும்

111. The 2020 SASTRA Ramanujan Prize will be awarded to

- Shai Evra
- William Duke
- Kevin Ford
- Maryna Viazovska

2020 ஆம் ஆண்டுக்கான சாஸ்த்ரா ராமானுஜன் விருது யாருக்கு வழங்கப்பட இருக்கிறது

- ஷாய் எவ்ரா



- b) வில்லியம் டியூக்
- c) கெவின் போர்ட்
- d) மரியன் வியாச்சா

112. Tamil Nadu Electronics Hardware Manufacturing Policy 2020 that aims to increase the State's electronics industry output to ----- by 2025.

- a) USD 100 billion
- b) USD 50 billion
- c) USD 100 Million
- d) USD 500 Billion

தமிழக அரசின் மின்னியல் மற்றும் வன்பொருள் உற்பத்திக் கொள்கை 2020, மாணிலத்தின் மின்னியல் உற்பத்தியின் அளவினை 2025 ஆம் ஆண்டுக்குள் எவ்வளவு அதிகரிக்க இலக்கு நிர்ணயித்துள்ளது

- a) 100 பில்லியன் அமெரிக்க டாலர்கள்
- b) 50 பில்லியன் அமெரிக்க டாலர்கள்
- c) 100 மில்லியன் அமெரிக்க டாலர்கள்
- d) 500 பில்லியன் அமெரிக்க டாலர்கள்

113. A & B undertake to do a piece of work for Rs. 600. A alone can do it in 6 days while B alone can do it in 3 days. With the help of C, they finish it in 3 days. Find the share of 'C'.

- a)Rs. 75 b)Rs. 100 c)Rs.150 d)Rs.50

Aயும் Bயும் ஒரு வேலையை செய்து முடிக்க ரூபாய் 600 க்கு ஒப்புக்கொண்டார்கள். A மட்டும் அவ்வேலையை 6 நாட்களிலும், B மட்டும் அவ்வேலையை 3 நாட்களிலும் முடிப்பார்கள். C என்பவருடன் A, B சேர்ந்து அவ்வேலையை 3 நாட்களில் முடித்தால், 'C' பெரும் வருமானம் என்ன?

- a)Rs. 75 b)Rs. 100 c)Rs.150 d)Rs.50

114. The diameter of a right circular cone is 14 meters and its height is 12 metres. Its volume is

- a)564 m³ b)500 m³ c)616 m³ d)418 m³

ஒரு நேர்வட்டக் கூம்பின் விட்டம் 14 மீட்டர். அதன் உயரம் 12 மீட்டர் எனில், அதன் கன அளவு யாது?

- a)564 மீ³ b)500 மீ³ c)616 மீ³ d)418 மீ³

115. Three cubes of sides 3cm, 4cm and 5cm are melted to form a new cube. The side of the new cube is

- a)5cm b)6cm c)6.5cm d)7cm



3 செ.மீ, 4 செ.மீ, 5 செ.மீ பக்கங்களுடைய மூன்று கன சதுரக்கட்டிகள் உருக்கப்பட்டு

ஒரே கன சதுரக்கட்டியாக செய்யப்பட்டால், புதிய சதுரக்கட்டியின் பக்கம்

- a) 5cm b) 6cm c) 6.5cm d) 7cm

116. In a code language, TINY is coded as RGLW. In the same language, ZEBRA will be coded as

- a) XCZYP b) XCZPY c) XZCPY d) XZCYP

TINY என்ற எழுத்தினை RGLW இவ்வாறு எழுதலாம். அதே போல் ZEBRA எவ்வாறு எழுதலாம்

- a) XCZYP b) XCZPY c) XZCPY d) XZCYP

117. Consider the following: and Select the Missing Number

41	?
21	16
35	40
14	42

- a) 12 b) 13 c) 14 d) 15

118. The monthly income of a person is Rs 5,000. If his income is increased by 30 % then what is his monthly income?

- a) Rs 7,000 b) Rs 5,500 c) Rs 3,500 d) 6,500

ஒருவருடைய மாதவருமானம் ரூ 5,000 அவருடைய மாத வருமானம் 30 % உயரும் போது மாத வருமானம் என்னவாக இருக்கும்.

- a) ரூ 7,000 b) ரூ 5,500 c) ரூ 3,500 d) ரூ 6,500

119. The sum of the digits of a two digit number is 13. When the digits are interchanged, the value of the number is increased by 45? What is the number?

- a) 67 b) 49 c) 58 d) 94

ஒர் ஈரிலக்க எண்ணின் இலக்கங்களின் கூடுதல் 13. அந்த எண்ணின் இலக்கங்களை அவற்றுக்குள் இடம் மாற்றினால், அந்த எண்ணின் மதிப்பு 45 ஆக அதிகரிக்கிறது எனில் அந்த எண் யாது?

- a) 67 b) 49 c) 58 d) 94



120. A father is now twice as old his son. Twenty years ago, he was six times as old his son. What are their ages now?

- a) 60,30 b) 40,20 c) 58,29 d) 50,25

தற்போது ஒரு தந்தையின் வயது அவரது மகன் வயதைப் போல் இரு மடங்கு. இருபது ஆண்டுகளுக்கு முன்பு, தந்தையின் வயது மகனின் வயதைப் போல ஆறு மடங்கு எனில் அவர்களது தற்போதைய வயது

- a) 60,30 b) 40,20 c) 58,29 d) 50,25

121. A man bought a car for Rs 2,00,000 and spent Rs 50,000 on its repair.He sold it for Rs 3,00,000.What is the profit Percentage?

- a) 20 % b) 10% c) 50 % d) 25%

ஒருவர் ரூ 2,00,000க்கு, ஒரு கார் வாங்கி அதனை பழுதுபார்ப்பதற்காக ரூ 50,000 செலவு செய்தார். அந்த காரை அவர் ரூ 3,00,000க்கு விற்பனை செய்தால் அவர் அடைந்த இலாப சதவீதம் என்ன?

- a) 20 % b) 10% c) 50 % d) 25%

122. In how many years a will sum of money double itself at 30% simple interest

- a) 4 years b) 5 years c) 10 years d) 20 years

ஒரு தொகையானது தனி வட்டி வீதத்தில் எத்தனை ஆண்டுகளில் இருமடங்காகும்?

- a) 4 ஆண்டுகள் b) 5 ஆண்டுகள் c) 10 ஆண்டுகள் d) 20 ஆண்டுகள்

123. The mean of the 5 numbers is 32. If one of the numbers is excluded, then the mean is reduced by 4. Find the excluded number

- a) 40 b) 44 c) 52 d) 48

5 எண்களின் சராசரி 32, அவ்வெண்களில் ஒன்றை நீக்கும் போது, சராசரியில் 4 குறைந்தால் நீக்கப்பட்ட எண்ணைக் காண்க

- a) 40 b) 44 c) 52 d) 48

124. A and B together can do a piece of work in 8 days, but A alone can do it in 12 days. How many days would B alone take to do the same work

- a) 24 days b) 16 days c) 32 days d) 10 days

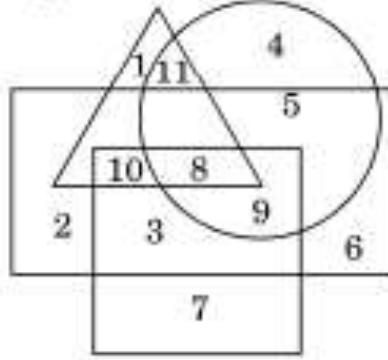
ஒரு வேலையை A மற்றும் B இருவரும் சேர்ந்து 8 நாட்களில் முடிப்பர். A மட்டும் அவ்வேலையை 12 நாட்களில் முடிப்பார். B மட்டும் அவ்வேலையை எத்தனை நாட்களில் முடிப்பார்.

- a) 24 நாட்கள் b) 16 நாட்கள் c) 32 நாட்கள் d) 10 நாட்கள்



125. The Following question is based on the figure given below. In the Given figure

- a) Rectangles represents females
- b) Circles represents people staying in metros
- c) Square represents the literate
- d) Triangle represents the employed people



Which of the number is indicating literate females , who are employed and staying in metros ?

- a) 4
- b) 7
- c) 8
- d) 9

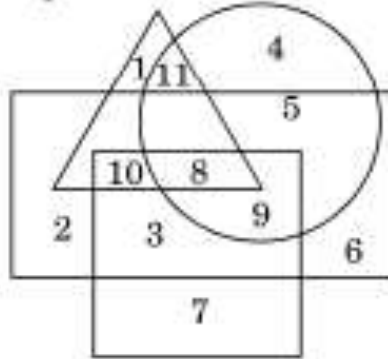
கீழ்க்கண்ட வரைபடத்தைப் பயன்படுத்தி இந்த வினாவிற்கு விடையளிக்க

அ) செவ்வக வடிவம் பெண்களைக் குறிக்கிறது

அ) வட்டம் மெட்ரோவில் வசிப்பவர்களைக் குறிக்கிறது

அ) சதுரம் கல்வியறிவுள்ளவர்களை குறிப்பிடுகிறது

அ) முக்கோணம் வேலை பார்ப்பவர்களை குறிக்கிறது



எந்த எண் கல்வி கற்ற பெண்களை குறிப்பிடுகிறது, மெட்ரோவில் வசிப்பவர்களில் வேலை பார்ப்பவர்கள் யார்.

- a) 4
- b) 7
- c) 8
- d) 9

126. Which one of the following groups of letters is the odd one out?

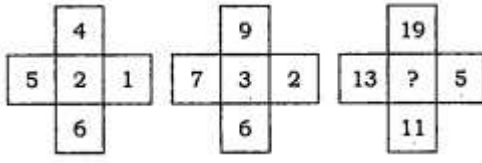
- a) CEFH
- b) HJKN
- b) PRSU
- d) UWXZ

கீழ்க்காணும் எழுத்தினங்களில் பொருந்தாத ஒன்றைக் கண்டறிக

- a) CEFH
- b) HJKN
- b) PRSU
- d) UWXZ

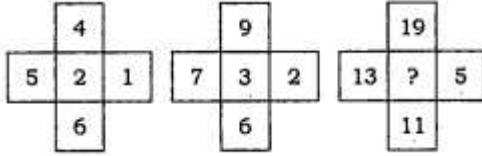


127. What number should replace the question mark shown below?



- a) 4 b) 6 c) 8 d) 10

கேள்விக்குறியுள்ள இடத்தில் எந்த எண் வரவேண்டும்



- a) 4 b) 6 c) 8 d) 10

128. Rivers that pass through Himachal Pradesh are

- a) Beas & Chenab only
b) Beas & Ravi only
c) Chenab, Ravi & Satluj only
d) Beas, Chenab, Ravi, Satluj & Yamuna

இமாச்சலப் பிரதேசத்தின் வழியே பாயும் ஆறுகள்

- a) ரியாஸ் மற்றும் சீனாப்
b) ரியாஸ் மற்றும் ராவி
c) சீனாப், ராவி மற்றும் சட்லஜ்
d) ரியாஸ், சீனாப், ராவி, சட்லஜ் மற்றும் யமுனா

129. Assertion: West-flowing rivers of Peninsular India have no deltas.

Reason: These Rivers do not carry any alluvial sediments.

- a) Both A and R are true and R is the correct explanation of A.
b) Both A and R are true but R is not the correct explanation of A.
c) A is true but R is false.
d) A is false but R is true

கூற்று: தீபகற்ப இந்தியாவில் மேற்கு நோக்கு பாயும் ஆறுகளுக்கு டெல்டாக்கள் இல்லை

காரணம் : இவை வண்டல் படிவுகளை எடுத்துவருவதில்லை

130. Match List-I (Minerals) with List-II

- a) Coal - Giridih
b) Copper - Jayankondam
c) Manganese - Alwar



IYACHAMY ACADEMY

(Associated With www.iyachamy.com)
Institution For Competitive Exam

d) Lignite - Dharwar

பட்டியல் 1 ஐ பட்டியல் 2 உடன் இணைக்க

- a) நிலக்கரி - கிரிடி
b) செம்பு - ஜெயங்கொண்டம்
c) மாங்கனிசு - ஆழ்வார்
d) லிக்னைட் - தார்வார்

	A	B	C	D
a)	4	3	2	1
b)	3	4	2	1
c)	2	1	4	3
d)	4	1	3	2

131. Which one of the following sets of states stands to benefit the most from the Konkan Railway?

- a) Goa, Karnataka, Maharashtra, Kerala
b) Madhya Pradesh, Maharashtra, Tamil Nadu, Kerala
c) Tamil Nadu, Kerala, Goa, Maharashtra
d) Gujarat, Maharashtra, Goa, Tamil Nadu

கீழ்க்கண்ட மாணிலங்களுள் எந்த மாணிலங்கள் கொங்கன் ரயில்வேயால் அதிக பலன் அடைகிறது

- a) கோவா,கர்ணாடகா, மகாராஷ்ட்ரா,கேரளா
b) மத்தியப் பிரதேசம், மகாராஷ்ட்ரா, தமிழ்நாடு, கேரளா
c) தமிழ்நாடு, கேரளா,கோவா, மகராஷ்ட்ரா
d) குஜராத்த்,மகராஷ்ட்ரா,கோவா, தமிழ்நாடு

132. Consider the following statements

- I. India is the second country in the world to adopt a National Family Planning Program.
II. The National Population Policy of India 2000 seeks to achieve population stabilisation by 2045.
III. Kerala is the first state in India to achieve replacement level of fertility.

Which of the statements given above is/are correct?

- a) 1 only
b) 1 and 2
c) 2 and 3
d) 1, 2 and 3

கீழ்க்கண்ட கூற்றுகளை கவனிக்க



IYACHAMY ACADEMY

(Associated With www.iyachamy.com)
Institution For Competitive Exam

- I. தேசிய குடும்பக் கட்டுப்பாட்டு திட்டத்தை உலகிலேயே இரண்டாவதாக தழுவிய நாடு
- II. இந்தியாவின் தேசிய மக்கள் தொகைக் கொள்கை 2000, 2045 ஆம் ஆண்டுக்குள் மக்கள் தொகையை நிலை நிறுத்த முனைகிறது
- III. கருவுறுதலின் மாற்று நிலையை அடைந்த இந்தியாவின் முதல் மாநிலம் கேரளா மேற்காண்பவற்றுள் சரியான கூற்றுகள் எவை
 - a) 1 மட்டும்
 - b) 1 மற்றும் 2
 - c) 2 மற்றும் 3
 - d) 1,2,3

133. In which one of the following Union Territories, do the people of the Onge tribe live?

- a) Andaman and Nicobar Island
- b) Dadra and Nagar Haveli
- c) Daman and Diu
- d) Lakshadweep

கீழ்க்கண்ட மத்திய ஆட்சிப் பகுதிகளில் ஆக்னி எனும் பழங்குடிகள் எங்கு வசிக்கின்றனர்

- a) அந்தமான் மற்றும் நிகோபார் தீவுகள்
- b) தாத்ரா மற்றும் நாகர்வேலி
- c) டாமன் மற்றும் டையூ
- d) லட்சத் தீவுகள்

134. Match the List - I with List - II and select the correct answer from the code given below :

List 1

- a) Primary
- b) Secondary
- c) Tertiary
- d) Quaternary

List 2

- Research Endeavour's
- Train services
- Pearl culture
- Spinning cotton year

பட்டியல் 1 ஐ பட்டியல் 2 ஐ பொருத்துக

பட்டியல் 1

பட்டியல் 2

- a) முதல் நிலை தொழில் - ஆராய்ச்சி முயற்சி
- b) இரண்டாம் நிலை தொழில் - ரயில் சேவை
- c) மூன்றாம் நிலை தொழில் - முத்துக்குளித்தல்
- d) நான்காம் நிலைத் தொழில் - பருத்தி நெய்தல்

- | | | | | |
|----|---|---|---|---|
| | A | B | C | D |
| e) | 4 | 3 | 2 | 1 |



- f) 3 4 2 1
g) 2 1 4 3
h) 4 1 3 2

135. Bring the correct statements regarding the first Buddhist Council.

1. Anand and Upale laid down the Sutta Pitaka and Vineya Pitaka respectively.
2. Its proceedings were conducted in Sanskrit.
3. It was held during the lifetime of Buddha.
4. Its main purpose was to maintain purity of Buddha's teachings.

Which of the statements given above are correct?

- a) 1 and 4 b) 2, 3 and 4 c) 1 and 2 d) All of these

முதல் புத்தசமய மாணாடு பற்றிய கூற்றுக்களை ஆராய்ந்து சரியான விடையைக் கண்டறிக

a) ஆனந்த மற்றும் உபலே ஆகியோர் சுத்தபீடகம் மற்றும் வினய பீடகத்தை இயற்றினார்கள்

b) இதன் செயல்பாடுகள் சமஸ்கிருதத்தில் நடைபெற்றது

c) இது புத்தரின் காலத்திலேயே நடைபெற்றது

d) இதன் முழுமையான நோக்கம் புத்தாவின் புனிதமான பேச்சுக்களை பராமரிப்பது சரியான விடையைத் தெரிவு செய்க

- a) 1 மற்றும் 4 b) 2,3 மற்றும் 4 c) 1 மற்றும் 2 d) அனைத்தும்

136. Assertion (A) The emphasis of Jainism on non-violence (Ahimsa) prevented agriculturist from embracing Jainism.

Reason (R) Cultivation involved killing of insects and pests.

- a) Both A and R are true and R is the correct explanation of A
b) Both A and R is true but is not a correct explanation of A
c) A is true but R is false
d) A is false but R is true

கூற்று: சமண மதத்தின் தீவிரமன் அகிம்சைக் கொள்கை விவசாயிகளை சமண மதத்திற்கு தழுவுவதை தடுத்தது

காரணம்: பயிரிடுதல் பூச்சிகள் மற்றும் உயிரிகளைக் கொல்ல வேண்டி இருந்தது

- a) கூற்று மற்றும் காரணம் சரி கூற்றுக்கு காரணம் சரியான விளக்கமாகும்
b) கூற்று மற்றும் காரணம் சரி ஆனால் கூற்றுக்கு காரணம் சரியான விளக்கமல்ல
c) கூற்று சரி காரணம் தவறு
d) கூற்று தவறு காரணம் சரி

137. Consider the following statements pick the wrong statement related with Mughals



- a) For the administrative purposes the empire was divided into a number of provinces known as subha
b) Each sabha under the Governor
c) The subadar was in charge of each subha
d) The Subhas were divided into bargana

கீழ்க்கண்ட வாக்கியங்களை வைத்து தவறான விடையை தேர்ந்தெடுக்க-முகலாயர்களின் நிர்வாகம்

- a) நிர்வாக காரணங்களுக்காக பேரரசு பல்வேறு பகுதிகளாக பிரிக்கப்பட்டு சுபா என அழைக்கப்பட்டது
b) ஒவ்வொரு சுபாவும் ஆளுனரின் பொறுப்பில் இருக்கும்
c) சுபேதார் சுபாவின் பொறுப்பாளராக இருப்பார்
d) சுபாக்கள் மேலும் பர்கான எனப்படும் பகுதிகளாக பிரிக்கப்பட்டன.

138. In 1674, Shivaji was coronated at a place , which become a capital . Identify it?

- a) Jinji b) Raigarh c) Smat d) Kalyan

1764ல் சிவாஜி முடிசூட்டிக்கொண்ட இடம் பின்னர் தலை நகரமாயிற்று . அந்த இடத்தை கண்டுபிடி.

- a) ஜிஞ்சி b) ராய்கர் c) ஸ்மாட் d) கல்யான்

139. Match the items of list I with list II and select the correct answer using the codes given below the lists :

List - I	List - II
a) Lucknow pact	1) 1910
b) Pune pact	2) 1909
c) Minto - Morley reforms	3) 1916
d) Montford reforms	4) 1932

பட்டியல் 1 ஐ பட்டியல் 2 உடன் இணைக்க

- a) லக்னோ ஒப்பந்தம் -1910
b) புனே ஒப்பந்தம் - 1909
c) மிண்டோ மார்லி சீர்திருத்தம் - 1916
d) மாண்ட்போடு சீர்திருத்தம் - 1932

Codes:

	a	b	c	d
A)	3	4	2	1
B)	4	3	1	2
C)	2	1	4	3
D)	1	2	3	4



140. The First Women Univeristy in India was Founded by

- A) Gandhiji B) J.C Kumarappa
C) Dhondo Keshave Karve D) Rani Ahila Devi

இந்தியாவின் முதல் பெண்கள் பல்கலைக் கழகம் யாரால் துவக்கப்பட்டது

- a) காந்திஜி b) ஜே சி குமாரப்பா
c) தொண்ட கேசவ கார்வே d) ராணி அகிலா தேவி

141. Arrange the following incidents in chronological order:

- A) Surat split, Home rule league, Establishment of Muslim league
B) Home rule league, Surat split, Establishment of Muslim league
C) Surat, split, Establishment of Muslim league, Home rule league
D) Establishment of Muslim league, Surat split, Home rule league

கீழ்க்கண்ட நிகழ்வுகளை காலவரிசைப்படி ஒழுங்குபடுத்துக

- a) சூரத் பிளவு, தன்னாட்சி இயக்கம், முஸ்லீம் லீக் ஆரம்பிக்கப்படல்
b) தன்னாட்சி இயக்கம், சூரத் பிளவு, முஸ்லீம் லீக் ஆரம்பிக்கப்படல்
c) சூரத் பிளவு, முஸ்லீம் லீக் ஆரம்பிக்கப்படல், தன்னாட்சி இயக்கம்
d) முஸ்லீம் லீக் ஆரம்பிக்கப்படல், சூரத் பிளவு, தன்னாட்சி இயக்கம்

142. Which of the following is correctly matched?

- I. Rajaji - Pro-changers
II. Vanchinathan - Robert William Ashe
III. K. Kamaraj - Chief Minister of Tamil Nadu in 1952
IV. Sathyamurthy - Mayor of Madurai

- A) I B) II C) III D) IV

கீழ்க்கண்டவற்றில் எது சரியாக பொருத்தியுள்ளது.

- I. ராஜாஜி - 1.மாற்றம் வேண்டுவோர்
II. வாஞ்சிநாதன் - 2.இராபர்ட் வில்லியம் ஆஷ்
III. மு. காமராஜ் - 3.1952-ல் தமிழகத்தின் முதலமைச்சர்
IV. சுத்யமூர்த்தி - 4.மதுரையின் மேயர்

- A) I B) II C) III D) IV

143. Consider the following pairs. Which of the pairs given above is/are correct?

- I. Wood's Despatch Free - 1854
II. Hunter Commission - 1882
III. University - 1880
IV. Wardhaw Scheme of Education - 1904

- A) I and IV only B) II only C) I and II D) II and III

பின்வரும் இணைகளை கருத்தில் கொள்க, சரியான இணையை தேர்வு செய்க:



IYACHAMY ACADEMY

(Associated With www.iyachamy.com)
Institution For Competitive Exam

- I. உட் அறிக்கை - 1854
II. ஹண்டர் கமிஷன் - 1882
III. பல்கலைக்கழக சட்டம் - 1880
IV. வார்தா கல்வி முறை - 1904
A) I மற்றும் IV B) II மட்டும் C) I மற்றும் II D) II மற்றும் III

144. Select the correct chronological order of the following judgment regarding fundamental rights

- a) Golaknath Vs State of Punjab
b) Keshawanad Bharathi Vs State of Kerala
c) Minerva Mills Vs Union of India
d) A.K Gopalan Vs State of Madras

Choose the correct Answer

- a) (D),(B),(C),(A) b) (A),(B),(C),(D)
c) (D),(A),(B),(C) d) (D),(C),(B),(A)

அடிப்படை உரிமைகள் தொடர்பான வழக்குகளை கால அடிப்படையில் வரிசைப் படுத்துக

- a) கோலக் நாக் எதிர் பஞ்சாப் அரசு
b) கேசவானந்த பாரதி எதிர் கேரள அரசு
c) மினர்வா மில்ஸ் எதிரி இந்திய அரசு
d) ஏ கே கோபாலன் எதிர் மெட்ராஸ் அரசு

சரியான குறியீட்டைத் தேர்ந்தெடு

- a) (D),(B),(C),(A) b) (A),(B),(C),(D)
c) (D),(A),(B),(C) d) (D),(C),(B),(A)

145. Which of the following terminology is/are mentioned the Preamble of Right to Information Act, 2005?

- A) Transparency of Administration
B) Revelation of Information
C) Informed Citizenry
D) Paramountcy of the democratic idea

Select the Correct code

- a) A only b) A and B c) (A), (B),(C) d) A,B,C,D

தகவல் அறியும் உரிமைச் சட்டம் 2005 முகப்புரையில் குறிப்பிடப்பட்டுள்ள முக்கிய வார்த்தைகள் எவை

- a) நிர்வாகத்தில் வெளிப்படைத்தன்மை
b) தகவலை வெளியிடுதல்
c) குடிமக்களுக்கு தெரியப்படுத்துதல்
d) ஜனநாயகச் சிந்தனையை மேலதிகாரப்படுத்துதல்



சரியான குறியீட்டை தேர்ந்தெடுக்க

- a) 1 மட்டும் b) 1 மட்டும் 2 c) 1 & 2 மற்றும் 3 d) 1,2,3,4

146. The 61st Amendments to the Constitution reduced the voting age from 21 to 18 in case of elections to

- a) Local bodies
b) Lok sabha
c) Legislative assembly of states
d) Lok sabha and legislative assembly of states

61வது அரசியலமைப்புச் சட்டத்திருத்தம் வாக்களிக்கும் வயதினை 21லிருந்து 18 ஆக எந்த தேர்தலுக்காக

- a) உள்ளாட்சி அமைப்புகள்
b) மக்களவை
c) மாணில சட்டப்பேரவை
d) மக்களவை மற்றும் மாணில சட்டப் பேரவைகள்

147. When the Governor gets the real Powers of the State government

- a) President rule
b) Chief minister is in leave
c) Chief minister not able to do his duties
d) During National emergency

ஆளுனருக்கு எந்த சந்தர்ப்பத்தில் மாணிலத்தின் உண்மையான செயல்திகாரம் கிடைக்கும்

- a) குடியரசுத்தலைவர் ஆட்சி அமலில் இருக்கும்போது
b) முதலமைச்சர் விடுமுறையில் இருக்கும்போது
c) முதலமைச்சரால் அவருடைய பணிகளை கவனிக்க இயலாமல் போகும்போது
d) தேசிய நெருக்கடி நிலைப் பிரகடனத்தின் போது

148. In any state of india Legislative council can be created or abolished by

- a) By the parliament
b) By the president on the recommendation of the governor of the state
c) By the governor on the recommendation of the council of ministers
d) By the parliament as per the resolution passed by the legislature assembly of the state

இந்தியாவில் ஒரு மாநிலத்தின் சட்ட மேலவை கலைக்கப்படவோ அல்லது உருவாக்க எவ்வாறு முடியும்

- a) பாரளமன்றத்தினால்
b) குடியரசுத்தலைவரால் மாணில ஆளுனரின் பரிந்துரையின் பேரில்
c) ஆளுனரால் அமைச்சரவையின் பரிந்துரையின் பேரில்



- d) பாராளமன்றத்தினால் சட்டப்பேரவையில் சட்டமேலையை கலைக்க வேண்டுமென தீர்மானத்தின் பேரில்

149. "The total number of Ministers, including the Prime Minister, in the Council of Ministers shall not exceed 15% of the total number of members of the House of the People."

Choose the correct answer with respect to this statement.

- a) It was inserted into the Article 75 of the Indian Constitution through Clause (1A) by the 91st Constitutional Amendment Act of 2003.
b) It was inserted into the Article 57 of the Indian Constitution through Clause (3C) by the 83rd Constitutional Amendment Act of 2000.
c) It was inserted into the Article 61 of the Indian Constitution through clause (2D) by the 93rd Constitutional Amendment Act of 2005.
d) It was inserted into the Article 83 of the Indian Constitution through Clause (1B) by the 42nd Constitutional Amendment Act of 1976.

"அமைச்சர்கள் குழுவில் பிரதமர் உட்பட மொத்த அமைச்சர்களின் எண்ணிக்கை மக்கள் சபையின் மொத்த உறுப்பினர்களின் எண்ணிக்கையில் 15% ஐ விட அதிகமாக இருக்காது." இக்கூற்று தொடர்பாக சரியான விடையைத் தேர்ந்தெடு

- a) இது அரசியலமைப்புச் சட்டத்தின் 75வது விதியில் 2003 ஆம் ஆண்டு மேற்கொள்ளப்பட்ட 91வது அரசியலமைப்புச் சட்டம் பிரிவு 1அ வின் படி சேர்க்கப்பட்டது
b) இது அரசியலமைப்புச் சட்டத்தின் 57வது விதியில் 2000 ஆம் ஆண்டு மேற்கொள்ளப்பட்ட 83வது அரசியலமைப்புச் சட்டம் பிரிவு 3இ வின் படி சேர்க்கப்பட்டது
c) இது அரசியலமைப்புச் சட்டத்தின் 61வது விதியில் 2005 ஆம் ஆண்டு மேற்கொள்ளப்பட்ட 93வது அரசியலமைப்புச் சட்டம் பிரிவு 2ஆ வின் படி சேர்க்கப்பட்டது
d) இது அரசியலமைப்புச் சட்டத்தின் 83வது விதியில் 1975 ஆம் ஆண்டு மேற்கொள்ளப்பட்ட 42வது அரசியலமைப்புச் சட்டம் பிரிவு 1ஆ வின் படி சேர்க்கப்பட்டது

150. Find the odd one out:

- A) Indian Constitution adopts from experiences of freedom struggle
B) Indian Constitution adopts from already existing constitutions
C) Indian Constitution has remained the same since its drafting
D) Indian Constitution provides principles and provisions for ruling the country

பொறுத்தமற்ற ஒன்றைத் தெரிவு செய்க

- a) இந்திய அரசியலமைப்பு விடுதலைப் போராட்டத்தில் கிடைத்த அனுபவத்தை தழுவியது
b) இந்திய அரசியலமைப்பு ஏற்கனவே உள்ள அரசியலமைப்புகளை தழுவியது
c) இந்திய அரசியலமைப்பு இயற்றப்பட்டதில் இருந்து மாறாமல் உள்ளது
d) இந்திய அரசியலமைப்பு நாட்டினை ஆள்வதற்கான விதிகள் மற்றும் சலுகைகளை வழங்குகிறது



151. The National Disaster Management Authority functions under the Ministry of

- A) Environment, Forest and Climate Change
- B) Home Affairs
- C) Commerce and Industry
- D) Finance

தேசிய பேரிடர் மேலாண்மை ஆணையத்தின் பணிகள் எந்த அமைச்சரவையின் கீழ் வருகிறது

- a) சுற்றுச்சூழல் , வனம் மற்றும் பருவநிலை மாற்றம்
- b) உள்நுறை
- c) வர்த்தகம் மற்றும் தொழில்நுறை
- d) நிதி அமைச்சகம்

152. Which one of the following is the correct sequence of formation of the Commissions starting from the earliest?

- a) Finance Commission, Planning Commission, Investment Commission, Election Commission
- b) Election Commission, Planning Commission, Finance Commission, Investment Commission
- c) Planning Commission, Election Commission, Finance Commission, Investment Commission
- d) Investment Commission, Finance Commission, Planning Commission, Election Commission

கீழ்க்கண்டவற்றுள் சரியான வரிசைப்படி அவை அமைத்த காலத்தையொட்டி வரிசைப் படுத்துக

- a) நிதி ஆணையம், திட்ட ஆணையம், முதலீட்டு ஆணையம், தேர்தல் ஆணையம்
- b) தேர்தல் ஆணையம், திட்ட ஆணையம், நிதி ஆணையம், முதலீட்டு ஆணையம்
- c) திட்ட ஆணையம், தேர்தல் ஆணையம், நிதி ஆணையம், முதலீட்டு ஆணையம்
- d) முதலீட்டு ஆணையம் , நிதி ஆணையம் , திட்ட ஆணையம், தேர்தல் ஆணையம்

153. Which one among the following is not a part of the Fundamental Rights (Part III) of the Constitution of India?

- A) Prohibition of traffic in human beings and forced labour
- B) Prohibition of employment of children in factories
- C) Participation of workers in management of industries
- D) Practice any profession, or to carry on any occupation, trade or business

கீழ்க்கண்டவற்றுள் எது அடிப்படை உரிமைகள் (பகுதி 3)ன் இந்திய அரசியலில் இல்லை



- மனிதர்களின் கடத்தல் மற்றும் கட்டாய உழைப்பு தடை
- தொழிற்சாலைகளில் சிறுவர்களை வேலைக்கு அமர்த்துவதை தடை செய்தல்
- தொழிலாளர்கள் தொழிற்சாலையின் நிர்வாகத்தில் பங்கெடுத்தல்
- எந்த ஒரு தொழிலையும் , எந்த ஒரு பணி அல்லது வியாபாரம் செய்தல்

154. Anaithu Grama Anna Marumalarchi Thittam focus on

- Injection of resources into village panchayats
- Providing better economic development
- Providing social infrastructure
- None of the above

அனைத்து கிராம அண்ணா மறுமலர்ச்சி திட்டம் எதனை மையமாக கொண்டிருக்கிறது

- கிராம பஞ்சாயத்துக்கு வளங்களை அளிக்கிறது
- சிறப்பான பொருளாதார மேம்பாடு வழங்குகிறது
- சமூக கட்டமைப்பை வழங்குகிறது
- மேற்கண்ட எதுவுமில்லை

155. Which case fixed maximum limit for reservation

- Chembagam Thurairaj
- Indra Sahney
- Ram Nandan
- B.P Mandal

எந்த வழக்கு இட ஒதுக்கீட்டிற்கு உச்ச பட்ச அளவை நிர்ணயித்தது

- செம்பகம் துரைராஜ்
- இந்திரா சஹானி
- ராம் நந்தன்
- பி பி மண்டல்

156. Find the incorrect statement

- First Tamilnadu backward classes commission recommended to create separate reservation within the backward classes
- Amba sankar commission recommended to create separate reservation within the backward classes
- MGR Increased the reservation from 31% to 50 Percentage
- DMK Government approved 20% reservation for Most Backward classes

தவறான வாக்கியத்தை கண்டறிக

- முதலாவது பிற்படுத்தப்பட்டோர் நல ஆணையம் பிற்படுத்தப்பட்டோரிடைய தனிப்பிரிவை உருவாக்கி இட ஒதுக்கீடு வழங்க பரிந்துரை செய்தது



- b) அம்பா சங்கர் குழு பிற்படுத்தப்பட்டோரிடைய தனிப்பிரிவை உருவாக்கி இட ஒதுக்கீடு வழங்க பரிந்துரை செய்தது
- c) எம் ஜி ஆர் பிற்படுத்தப்பட்டோருக்கான இட ஒதுக்கீட்டை 31 சதவீதத்தில் இருந்து 50 சதவீதமாக உயர்த்தினார்
- d) தி மு க அரசு மிகவும் பிற்படுத்தப்பட்டோருக்கு 20% இட ஒதுக்கீட்டிற்கு ஒப்புதல் அளித்தது

157. How Tamilnadu Promoted Social Harmony

- I. Treatment of all section of people equally
- II. Promoted Economic Development
- III. Institutional level initiative
- IV. Inclusive growth for all

Choose the correct code

- a) I,II,III b) I,II,III,IV c) II,III,IV d) I,II,IV

தமிழ்நாடு எவ்வாறு சமூக நல்லினக்கத்தை மேம்படுத்தியது

- I. சமூகத்தின் அனைத்து பிரிவினரையும் சமமாக பாவித்தல்
- II. பொருளாதார வளர்ச்சியை மேம்படுத்தியது
- III. நிறுவன முறையிலான முன்னெடுப்புகள்
- IV. அனைவரையும் உள்ளடக்கிய வளர்ச்சி

சரியான குறியீட்டினை தேர்வு செய்க

- a) I,II,III b) I,II,III,IV c) II,III,IV d) I,II,IV

158. The Government of Tamil Nadu is committed towards empowering the differently abled persons by ensuring

- a) 3 percent reservation in employment
- b) 4 percent reservation in employment
- c) The Mental Health Act, 1987
- d) Providing employment opportunities

மாற்றுத்திறனாளிகளை அதிகாரப்படுத்துவதற்கு தமிழக அரசு எதன் மூலம் உறுதிப்படுத்தியது

- a) வேலைவாய்ப்பில் 3 சதவீத இடஒதுக்கீடு
- b) வேலைவாய்ப்பில் 4 சதவீத இட ஒதுக்கீடு
- c) மன நல மருத்துவச் சட்டம் 1987
- d) வேலை வாய்ப்பு வசதிகளை ஏற்படுத்தி தருதல்

159. Which of the following fact/s is /are correct ?

- I. Tamil Nadu is pioneer in relation to Nutritional supplements to children. Children upto Higher Secondary are covered
- II. Presently, the Child Help Line toll free number 1098



III. Tamil Nadu Women Harassment Act, 2000

IV. 1982 Tamil Nadu Backward Classes Economic Development Corporation was formed

Choose the correct code

- a) I,II,III b) I,II,III,IV c) II,III,IV d) I,II,IV

கீழ்க்கண்டவற்றுள் சரியான கூற்றுக்கள் எவை

I. குழந்தைகளுக்கு ஊட்டச்சத்து சத்துக்கள் தொடர்பாக தமிழகம் முன்னோடியாக உள்ளது. மேல் நிலைக் கல்வி வரை வரையிலான குழந்தைகள் இதில் பயன்பெறுகிறார்கள்

II. தற்போது குழந்தை பாதுகாப்பு இலவச எண் 1098

III. தமிழ்நாடு பெண்கள் துன்புறுத்தல் சட்டம், 2000

IV. 1982 ஆம் ஆண்டு தமிழ்நாடு பிற்படுத்தப்பட்டோர் பொருளாதாஅ மேம்பாட்டுக் கழகம் அமைக்கப்பட்டது

சரியான கூற்றைத் தேர்ந்தெடு

- a) I,II,III b) I,II,III,IV c) II,III,IV d) I,II,IV

160. According to the 2011 population census Tamil Nadu's population is literate- -----?, an improvement from 73.45 per cent in 2001.

- a) 80.09 b) 65.45 c) 72.99 d) 85.00

2011 மக்கள் தொகை கணக்கெடுப்பின் படி தமிழக மக்கள்தொகையில் கல்வியறிவு விகிதம் 2001 ஆம் ஆண்டில் 73.45 ஆக இருந்தது எவ்வளவு முன்னேற்றம் அடைந்தது

- a) 80.09 b) 65.45 c) 72.99 d) 85.00

161. Match List 1 with List 2

- a) Tamil nadu Agricultural University - 1978
b) Anna University - 1971
c) Bharathidasan University - 1982
d) Mother Theresa Women University - 1983

பட்டியல் 1 ஐ பட்டியல் 2 உடன் பொருத்துக

- a) தமிழ் நாடு வேளாண் பல்கலைக்கழகம் -1978
b) அண்ணா பல்கலைக் கழகம் - 1971
c) பாரதிதாசன் பல்கலைக் கழகம் - 1982
d) அன்னை தெரசா மகளிர் பல்கலைக் கழகம் - 1989

162. Assertion: Tamil Nadu by permitting self-financing institutions to run engineering and medical and arts colleges paved way for higher economic and social Development



Reason: Because the passed Graduates used the opportunity of Information Technology Industry and Automobile industries in Post Globalisation

- i) Both [A] & [R] are true; and [R] is the correct explanation of [A].
- j) [A] is true, but [R] is false
- k) (A) and (R) are true
- l) [A] is false, but [R] is true

கூற்று: தமிழ்நாடு பொறியியல் மருத்துவம் மற்றும் கலைக்கல்லூரிகளை சுய நிதிக் கல்லூரியாக நடத்த அனுமதித்ததன் மூலம் உயர் பொருளாதார மற்றும் சமூக வளர்ச்சிக்கு வித்திட்டது

காரணம்: ஏனென்றால் உலகமயமாக்கலுக்குப் பின்பு வந்த தகவல் தொழில்நுட்ப துறை மற்றும் வாகன உதிரி பாகங்கள் துறையில் உள்ள வாய்ப்புகளை பட்டதாரிகள் பயன்படுத்திக் கொண்டனர்.

- a) கூற்று மற்றும் காரணம் சரி கூற்றுக்கு காரணம் சரியான விளக்கமாகும்
- b) கூற்று சரி ஆனால் காரணம் தவறு
- c) கூற்று மற்றும் காரணம் சரி
- d) கூற்று தவறு ஆனால் காரணம் உண்மை

163. Anantha Krishnan Committee with related to

- a) Scrapping of Entrance exam in Tamilnadu
- b) Task Force on School Curriculum
- c) To provide reservation for Tamil medium students
- d) Fees fixing of private education institution

அனந்தகிருஷ்ணன் குழு எதனோடு தொடர்புடையது

- a) தமிழகத்தில் நுழைவுத் தேர்வினை ரத்து செய்வது தொடர்பானது
- b) பள்ளி பாடத்திட்டத்திற்காக அமைக்கப்பட்ட சிறப்பு குழு
- c) தமிழ் வழியில் படித்த மாணவர்களுக்கு இடஒதுக்கீடு தொடர்பானது
- d) தனியார் கல்வி நிறுவனங்களில் கல்வி கட்டண நிர்ணயம் தொடர்பானது

164. Dr. Muthulakshmi Reddy Maternity Benefit Scheme had all helped to improve the

- a) Institutional Delivery
- b) Economic status of women
- c) Improved the medical infrastructure
- d) Effective implementation of Universal Immunization Programme

டாக்டர் முத்துலட்சுமி மகப்பேறு உதவிதிட்டம் எதனை மேம்படுத்துவதில் உதவியது

- a) மருத்துவமனையில் குழந்தைப் பிறப்பு
- b) பெண்களின் பொருளாதார நிலைமை
- c) மருத்துவ உட்கட்டமைப்பை மேம்படுத்தியது



d) அனைவருக்குமான தடுப்பூசியை சிறப்பாக செயல்படுத்தியது

165. Kadamparai hydroelectric Power Plant are located on

- a) Anaimalai b) Andipatti hills
c) Palani hills d) Varsuanadu Hills

காடம்பாறை நீர்மின் உற்பத்தி மையம் எங்கு அமைந்துள்ளது

- a) ஆணைமலை b) ஆண்டிப்பட்டி மலை
c) பழனி மலை d) வருசனாடு மலை

166. Find the incorrect one

- a) Salem - Kanjamalai
b) Perambalur - Vathalmalai
c) Kanyakumari - Marunthuvazhmalai
d) Tirunelveli - Mahendragiri

பொருந்தாதா ஒன்றைக் கண்டறிக

- a) சேலம் - கஞ்சமலை
b) பெரம்பலூர் - வதலமலை
c) கன்னியகும்ரி - மருந்துவாழ்மலை
d) திருனெல்வேலி - மகேந்திரகிரி

167. Tamil Nadu, which has released its e-Governance Policy 2017 intends to promote

- I. paperless office by 2020
II. easily accessible by public and Government
III. enhance transparency
IV. efficiency and speed

Choose the correct code

- a) I,II,III b) II,III,IV c) I,III,IV d) I,II,III,IV

2017 ஆம் ஆண்டு தமிழக அரசு வெளியிட்ட மின்னாளுகை கொள்கை 2017 எதனை மேம்படுத்த

- I. 2020 ஆம் ஆண்டுக்குள் காகிதமற்ற அலுவலகம்
II. பொதுமக்கள் மற்றும் அரசாங்கம் எளிதில் அணுகுதல்
III. வெளிப்படைத் தன்மையை அதிகரித்தல்
IV. திறமை மற்றும் வேகம்

சரியான குறியீட்டை தேர்வு செய்க

- a) I,II,III b) II,III,IV c) I,III,IV d) I,II,III,IV

168. Consider the following state and find the incorrect one



- It was the first State to enact the Public Health Act.
- The State ranks first in the country in terms of number of children immunised
- Tamil Nadu Medical Services Corporation for regulating the medical education in Tamilnadu
- the economic growth of the state, improved literacy rate, gender equality, and lowered fertility rate

கீழ்க்கண்ட கூற்றுகளை ஆராய்ந்து சரியற்ற வாக்கியத்தை தேர்ந்தெடு

- பொது சுகாதாரச் சட்டத்தை இயற்றிய முதல் மானிலம்
- நோய்த்தடுப்பு செய்யப்பட்ட குழந்தைகளின் எண்ணிக்கையில் நாட்டில் மாநிலத்தில் முதலிடம் வகிக்கிறது
- தமிழ்நாட்டில் மருத்துவக் கல்வியை ஒழுங்குபடுத்துவதற்காக தமிழக மருத்துவ சேவைகள் கழகம்
- மாநிலத்தின் பொருளாதார வளர்ச்சி, மேம்பட்ட கல்வியறிவு வீதம், பாலின சமத்துவம் மற்றும் கருவுறுதல் வீதத்தைக் குறைத்தல்

169. 1330 வது குறளைத் தேர்ந்தெடு / Find the 1330 couplet

- இல்லை தவறவர்க்கு ஆயினும் ஊடுதல்
வல்லது அவர்அளிக்கு மாறு.
**Although there be no fault in him, the sweetness of his love
Hath power in me a fretful jealousy to move.**
- புலத்தலின் புத்தேன்நாடு உண்டோ நிலத்தொடு
நீரியைந் தன்னார் அகத்து.
**Is there a bliss in any world more utterly divine,
Than 'coyness' gives, when hearts as earth and water join?.**
- ஊடலில் தோற்றவர் வென்றார் அதுமன்னும்
கூடலிற் காணப் படும்.
**In lovers' quarrels, 'tis the one that first gives way,
That in re-union's joy is seen to win the day.**
- ஊடுதல் காமத்திற்கு இன்பம் அதற்கின்பம்
கூடி முயங்கப் பெறின்.
**A 'feigned aversion' coy to pleasure gives a zest;
The pleasure's crowned when breast is clasped to breast.**

170. அறங்கூறான் அல்ல செயினும் ஒருவன்

புறங்கூறான் என்றல் இனிது

இக்குறளில் வள்ளுவர் இனிது என்று சிறப்பிப்பது எது



- a) அறத்தைப் பற்றித் தெரிந்தும் பிறரிடம் சொல்லாமல் இருப்பது
- b) அறத்தை எல்லோரிடமும் சொல்லுதல்
- c) அறத்தைப் பற்றி சொல்லாவிட்டாலும் புறம் பேசாதவனாக இருத்தல்
- d) புறம் மட்டுமே பேசுவது இனிது

Though virtuous words his lips speak not, and all his deeds are ill.

If neighbour he defame not, there's good within him still.

In the above Couplet What Valluvar distinguishes the sweetness

- a) Knowing about virtue and not telling others
- b) Telling charity to everyone
- c) Being non-speaking of Not Backbiting even when not talking about virtue
- d) Only to speak Backbiting is sweet

171. குடிசெய்வல் என்னும் ஒருவற்குத் தெய்வம்

மடிதற்றுத் தான்முந் துறும்.

இக்குறளில் யாருக்கு தெய்வம் உதவி செய்யும் என வள்ளுவர் உரைக்கிறார்

- a) கடவுளை வழிபட்டால் தெய்வம் உதவி புரியும்
- b) தான் பிறந்த குடியை உயர்த்த விரும்புவனுக்கு
- c) அறத்தின் வழியே நின்றவனுக்கு
- d) நாட்டின் மன்னனுக்கு

'I'll make my race renowned,' if man shall say,

With vest succinct the goddess leads the way.

Valluvar talks about who the deity will help in this

- a) The deity will help if we worship God
- b) For those who just want to develop the Citizens
- c) To one who stands in the way of virtue
- d) King of the Country

172. Why Thirukural is qualified as to declare the National Literature of India

- I. Thirukural which are universal ,embracing the whole community without any prejudice or bias to any section
- II. Thirkural written 2000 years ago
- III. The Artistic arrangement of ethical, political and erotic thoughts
- IV. It is significant to note that there is no mention about tamil language or the Tamil monarchs in Thirukkural



IYACHAMY ACADEMY

(Associated With www.iyachamy.com)
Institution For Competitive Exam

இந்தியாவின் தேசிய இலக்கியமாக திருக்குறளை பிரகடனப்படுத்த திருக்குறள் தகுதியுடையதாக இருக்கிறது

- I. எந்தவொரு பிரிவினருக்கும் எந்தவிதமான பாரபட்சமும் சார்பும் இல்லாமல் முழு சமூகத்தையும் உலக அளவில் திருக்குறள் தழுவுகிறது
- II. திருக்குறள் 2000 ஆண்டுகளுக்கு முன்னர் எழுதப்பட்டது
- III. கலைவடிவ முறையில் அறம், அரசியல், காம பகுதியை வடிவமைத்தது
- IV. குறிப்பிடத்தக்க அம்சமாக திருக்குறளில் எந்த ஒரு இடத்திலும் தமிழ் மொழியைப் பற்றியோ அல்லது முடியரசர்களைப் பற்றி எந்த ஒரு குறிப்பும் இல்லை

சரியான குறியீட்டினை தேர்ந்தெடு

- a) 1,2 b) 2,,3 c) 3,4 d) 1,3,4

173. Find the Incorrect Statement

- a) Palaykarar system was put in place in Tamilnadu by Viswanatha Nayaka
- b) Traditionally there were supposed to be 72 Palayakkarars.
- c) Their police duties were known as Padikaval or Arasu Kaval.
- d) After the death of Khan Sahib, Kattapomman returned from exile and recaptured Nerkattumseval in 1764.

சரியற்ற வாக்கியத்தை தேர்ந்தெடு

- a) பாளையக்காரர் முறை விசுவனாத நாயக்கர் காலத்தில் தமிழ்நாட்டில் அறிமுகப்படுத்தப்பட்டது
- b) மொத்தம் 72 பாளையங்கள் இருந்தன
- c) அவர்களுடைய காவல் பணிகள் படிக்காவல் அல்லது அரசு காவல் என அறியப்பட்டது
- d) கான் சாஹிப் பின் இறப்பிற்கு பின்பு கட்டபொம்மன் மறுபடியும் நெற்கட்டும் செவலைக் கைபற்றினார்

174. Arrange in a Chronological Order

- a) resistance of Kattabomman ,Battle of Kalakad , Palayakarar system came to an end , Vellore Revolt
- b) Battle of Kalakad, Vellore Revolt, resistance of Kattabomman , Palayakarar system came to an end
- c) resistance of Kattabomman, Battle of Kalakad , Palayakarar system came to an end , Vellore Revolt
- d) Vellore Revolt , Palayakarar system came to an end , resistance of Kattabomman , Battle of Kalakad

காலமுறைப்படி அடுக்குக

- a) கட்ட பொம்மனின் எதிர்ப்பு , களக்காட்டுப் போர் , பாளையக்காரர் முறை முடிவு, வேலூர் புரட்சி
- b) களக்காட்டு போர், வேலூர் புரட்சி, கட்டபொம்மனின் எதிர்ப்பு, பாளையக்காரர் முறை முடிவு



- c) கட்டபொம்மனின் எதிர்ப்பு, களக்காட்டுப் போர், பாளையக்காரர் முறை முடிவு , வேலூர் புரட்சி
- d) வேலூர் புரட்சி, பாளையக்காரர் முறை முடிவு, கட்டபொம்மனின் எதிர்ப்பு , களக்காட்டுப் போர்

175. who led one of the army units of pulithevan

- a) Ondiveeran
b) Oomaithurai
c) dheeran Chinnamalai
d) Yusuf Khan

பூலித்தேவனின் படைப் பிரிவின்கு தலைமை தாங்கியவர்

- a) ஒண்டி வீரன்
b) ஊமைத் துரை
c) தீரன் சின்னமலை
d) யூசுப் காண்

176. In an attempt to form a party an All India Communist Conference was held at Kanpur in 1925 gave the Presidential Address.

- a) S.A. Dange
b) Singaraevelar
c) M N Roy
d) Abani Mukherjee

1925 ஆம் ஆண்டு காண்பூரில் கட்சியை அமைக்கும் முறையில் நடந்த அனைத்திந்திய கம்யூனிஸ்ட் மாநாட்டில் தலைமை உரையாற்றியவர்

- a) எஸ் ஏ டாங்கே
b) சிங்கார வேலர்
c) எம் என் ராய்
d) அபானி முகர்ஜி

177. The objective of Madras Native Association

- a) To promote literature
b) focus was on reduction in taxation
c) focus on educational Development
d) focus on Women empowerment

சென்னை வாசிகள் சங்கத்தின் நோக்கம்

- a) இலக்கியத்தினை மேம்படுத்துவது
b) வரிக்குறைப்பு செய்வதில் கவனம் செலுத்தினர்
c) கல்வி மேம்பாட்டில் கவனம் செலுத்தினர்
d) பெண்கள் மேம்பாட்டில் கவனம் செலுத்தினர்

178. Find the Incorrect one

- a) Madras Native Association - 1862
b) Madras Mahajana Sabha - 1884
c) Swadesamitran - 1891
d) Bharata Matha Society - 1904

சரியற்றை ஒன்றை தெரிவு செய்க



- a) சென்னை சுதேசி சங்கம் - 1862
b) மெட்ராஸ் மகாஜன சபா - 1884
c) சுதேசமித்திரன் - 1891
d) பாரத மாதா சங்கம் - 1904

179. Who called "Rosaappu Durai" by the people of Madurai for the services he rendered to the affected communities.

- a) M.N Subbarayan b) George Joseph
c) Yakub Hasan d) Subramania Sastri

பாதிக்கப்பட்ட சமூகத்தினருக்கு ஆதரவாக செயல்பட்டதால் மதுரை மக்கள் யாரை ரோசாப்பூ துரை என அழைத்தனர்

- a) எம். என். சுப்பராயன் b) ஜார்ஜ் ஜோசப்
c) யாசுவ் ஹாசன் d) சுப்ரமணிய சாஸ்திரி

180. Find the Correct one

- a) Tamil is a classical language - V.G. Suryanarayana Sastri
b) Tani Tamil Iyakkam - Parithimar Kalaignar
c) Non-Brahmin Manifesto - A. Subbarayalu
d) Dravidian - English News paper

பொருந்தாத ஒன்றைக் கண்டறிக

- a) தமிழ் ஒரு செம்மொழி - வி. ஜி. சூரிய நாராயண சாஸ்திரி
b) தனி தமிழ் இயக்கம் - பரிதிமாற்கலைஞர்
c) பிராமணரல்லாதோர் பிரகடனம் - ஏ. சுப்பராயன்
d) திராவிடன் - ஆங்கில செய்தித் தாள்

181. During the Quit India movement, the village people attacked a prison at

- A) Karaikudi B) Pulankurichi
C) Tiruvadanaï D) Palani

வெள்ளையனே வெளியேறு இயக்கத்தின்போது எங்கு உள்ள சிறைச்சிலை தாக்கப்பட்டது?

- A) காரைக்குடி B) பூலாங்குறிச்சி
C) திருவாடனை D) பழனி

182. Which one of the following attribute is not the Impact of Social reform movement

- a) Its Promoted education to all the people of society
b) it's against inter caste marriage and inter dining
c) It instilled social awakening and sprit of nationalism in Indian minds
d) it made the people to be proud of their culture and glory



சமூக சீர்திருத்த இயக்கங்களின் தாக்கத்தின் கூறுகளின் பண்புகளில் பின்வருவனற்றில் எது பொருந்தாது

- a) சமூகத்தில் உள்ள மக்களின் கல்வியை மேம்படுத்த செயலாற்றியது
- b) கலப்பு திருமணம் மற்றும் சமபந்திக்கு எதிராக இருந்தது
- c) இந்தியர்களின் மனங்களில் சமூக விழிப்புணர்வை ஏற்படுத்தியதுடன் தேசியத்தையும் வளர்த்தது
- d) மக்களை அவர்களின் கலாச்சாரம் பண்பாடு ஆகியவற்றில் பெருமை கொள்ள செய்தது

183. Saint Ramalinga introduced the principle that God could be worshipped in the form

- a) Light b) Water c) fire d) Air

ராமலிங்கர் கடவுளை எந்த வடிவத்தில் வழிபடலாம் என்ற கொள்கையை அறிமுகப்படுத்தினார்

- a) ஒளி b) நீர் c) நெருப்பு d) காற்று

184. Consider the Following statement with Reference to Pandithar Iyothee Thassar

I. He campaigned for social justice and worked for the emancipation of the "untouchables"

II. Pandithar Iyothee Thassar was born in Nilgiris

III. He started a weekly journal, Oru Paisa Tamilan, in 1907

IV. He founded the Dravida Mahajana Sabha in 1891 and organised the First Conference of the association at Nilgiris.

Choose the Correct code

- a) I,II,III b) I,II,IV c) I,III,IV d) I,II,III,IV

பண்டித அயோத்தி தாசர் தொடர்பான கீழ்க்கண்ட கூற்றுக்களை ஆராய்க

- I. அயோத்தி தாச பண்டிதர் சமூக நீதி மற்றும் தாழ்த்தப்பட்டோரின் மேம்பாட்டிற்காக பிரச்சாரம் செய்தார்
- II. அயோத்தி தாச பண்டிதர் நீலகிரியில் பிறந்தார்
- III. 1907 ஆம் ஆண்டு ஒரு பைசா தமிழன் என்ற இதழைத் துவங்கினார்
- IV. திராவிட மகாஜன சபையை துவங்கினார் அதனுடைய முதல் மாணாடு நீலகிரியில் நடைபெற்றது

சரியான ஒன்றைத் தேர்ந்தெடு

- a) I,II,III b) I,II,IV c) I,III,IV d) I,II,III,IV

185. The next Self-Respect Conference was held at Erode on 10 May 1930, under the chairmanship

- a) W.P.A Soundarapandiyan



- b) E.V Ramasamy
- c) M.R Jeyakar
- d) K. Shanmugam

1930 ஆம் ஆண்டு ஈரோட்டில் நடைபெற்ற சுயமரியாதை மாணாட்டிற்கு தலைமை தாங்கியவர்

- a) W.P.A சவுந்திரபாண்டியன்
- b) ஈ.வெ ராம்சாமி
- c) எம் அர் ஜெயகர்
- d) கே. சண்முகம்

186. Find out the incorrect Statements among the following with respect Rajaji

- I. Established Gandhi Ashramam in Pudupalayam
- II. Started salt satyagraha in Tamilnadu
- III. Home minister in the Interim Government
- IV. Industrial Minister in the Free India

- a) 1 and 4
- b) 2 and 3
- c) 2,4
- d) 3 and 4

ராஜாஜி தொடர்பான கூற்றுக்களை கருத்தில் கொண்டு தவறான கூற்றை தேர்ந்தெடு

- I. காந்தி ஆஸ்ரமத்தினை புதுப்பாளையத்தில் நிறுவினார்
- II. தமிழ்நாட்டில் உப்புச் சத்திய கிரகத்தினை துவக்கினார்
- III. இடைக்கால அரசில் உள்நுறை அமைச்சர்
- IV. சுதந்திர இந்தியாவில் தொழில் துறை அமைச்சர்

- a) 1 and 4
- b) 2 and 3
- c) 2,4
- d) 3 and 4

187. The main purpose of the Dravidian Movement and the Justice Party

- a) securing proportionate representation for the majority of the people in the educational institutions and government positions
- b) To Participate in electoral Politics
- c) To Develop Tamilnadu as a Industrially developed State
- d) towards the goal of 'self-respect

திராவிட இயக்கம் மற்றும் நீதிக்கட்சியின் முக்கிய நோக்கம்

- a) கல்வி நிறுவனங்கள் மற்றும் அரசு வேலைவாய்ப்புக்களில் பெரும்பான்மையான மக்களுக்கு சரிவிகித பிரதிநிதித்துவத்தைப் பெறுவது
- b) தேர்தல் அரசியலில் பங்குபெற
- c) தமிழகத்தை தொழில் வளர்ச்சியடைந்த மாணிலமாக மாற்ற
- d) சுயமரியாதை இலக்கினை எட்ட



188. Find out the incorrect Statements among the following with respect C.N

Annadurai

- On 17th August, 1968 both the lower and upper houses of Madras Legislature, by the resolution passed, changed the name of the State as Tamil Nadu
- Abolished land tax to assist the poor peasant.
- On 15th May, 1966 the Rupee - a Measure Rice Scheme (Padiyarisi) was launched in Madras and Coimbatore
- The State Motto Satyameva Jayadhe (Truth alone Triumphs) in Sanskrit was altered as Vaimaye Vellum in Tamil.

அண்ணாத்துரை தொடர்பான கூற்றுக்களை வைத்து தவறான ஒன்றைக் கண்டறிக

- ஜனவரி 17, ஆகஸ்ட் 1968 சட்டப்பேரவையின் இரு அவைகளும் மாணிலத்தின் பெயரினை தமிழ்நாடு எனப் பெயர் மாற்ற தீர்மானம் நிறைவேற்றியது
- ஏழை விவசாயிகளுக்காக நில வரியை நீக்கியது
- மே 15, 1966 ரூபாய்க்கு ஒரு படி அரிசி திட்டம் மெட்ராஸ் மற்றும் கோயம்புத்தூரில் துவங்கப்பட்டது
- மாணிலத்தின் இலக்கு சத்ய மேவ ஜெயதே என்ற சமஸ்கிருத்தத்தில் இருந்து வாய்மையே வெல்லும் என மாற்றம் செய்தது

189. When a very large number of people are employed but their actual contribution is either marginal or negative, it is

- Seasonal unemployment
- Cyclical unemployment
- Technological unemployment
- Disguised unemployment

அதிகமான நபர்கள் வேலையில் இருந்த போது அவர்களுடைய பங்களிப்பு இறுதி நிலை அல்லது எதிர்மறையாக இருந்தால் அது

- பருவ கால வேலையின்மை
- சுழற்சி வேலையின்மை
- தொழில்நுட்ப வேலையின்மை
- மறைமுக வேலையின்மை

190. Which one of the following statements with regard to the National Food Security Act is not correct?

- The Act was enacted in the year 2013.
- The Act was rolled out in the year 2014.
- The Act legally entitles 67 percent of the population to receive highly subsidised food grains
- The Act is not being implemented in all the States/Union Territories

கீழ்க்கண்ட கூற்றுக்களுள் உணவுப் பாதுகாப்புச் சட்டம் தொடர்பான கூற்றுக்களை கவனத்தில் கொண்டு சரியற்ற ஒன்றை தெரிவு செய்க

- சட்டம் 2013 ஆம் ஆண்டு இயற்றப்பட்டது



- b) இச்சட்டம் 2014 முதல் செயல்பாட்டுக்கு வந்தது
c) இந்த சட்டம் மக்கள் தொகையில் 67 சதவீதம் பேர் மானிய விலையில் உணவு தானியம் பெறுவதை சட்டமாக்குகிறது
d) இந்த சட்டம் அனைத்து மானிலங்கள் / யூனியன் பிரதேசங்களில் செயல்படுத்தப்படவில்லை

191. Saubhagya, a Government of India Scheme, relates to which of the following areas?

- A) Achieving universal household electrification
B) Providing clean cooking fuel to poor households
C) Rationalizing subsidies on LPG
D) Stopping female foeticide

செளபாக்கிய என்ற இந்திய அரசின் திட்டம் கீழ்க்கண்டவற்றுள் எதனோடு தொடர்புடையது

- a) அனைவருக்குமான வீட்டு மின்சாரத்தினை அடைவது
b) ஏழைக் குடும்பங்களுக்கு சமையல் எரிவாயு வழங்குவது
c) எரிவாயுக்கான மானிங்களை விகிதப்படுத்துவது
d) பெண் சிசுக்கொலையை நிறுத்துவது

192. Which of the following are considered to be the four pillars of human development?

- A) Equity, inclusion, productivity and empowerment
B) Equity, productivity, empowerment and sustainability
C) Productivity, gender, inclusion and equity
D) Labour, productivity, inclusion and equity

மனித வள மேம்பாட்டின் நான்கு தூண்களாக கருதப்படுவது எது

- a) சமத்துவம், உள்ளடக்கம், உற்பத்தி திறன் மற்றும் அதிகாரமளித்தல்
b) சமத்தும், உற்பத்தி திறன், அதிகாரமளித்தல் மற்றும் நிலைத்தன்மை
c) உற்பத்தி திறன், பாலினம், உள்ளடக்கம் மற்றும் சமத்துவம்
d) வேலை, உற்பத்தித்திறன், உள்ளடக்கம் மற்றும் சமத்துவம்

193. Which of the following Five Year Plans emphasized the need for establishing a "Socialist Pattern of Society" in India?

- A) 2nd Five year plan
B) 3rd Five year plan
C) 4th Five year plan
D) 5th Five year plan

கீழ்க்கண்டவற்றுள் எந்த ஐந்தாண்டு திட்டம் சமதர்ம ரீதியிலான சமுதாயம் அமைய வேண்டிய தேவைக்கு முக்கியத்துவம் கொடுத்தது

- அ) இரண்டாம் ஐந்தாண்டு திட்டம்
அ) 3ஆம் ஐந்தாண்டு திட்டம்
அ) 4ஆம் ஐந்தாண்டு திட்டம்
அ) 5ஆம் ஐந்தாண்டு திட்டம்



194. Which one of the following equals Personal Disposable Income?

- A) Personal Income - Direct taxes paid by households and miscellaneous fees, fines, etc.
- B) Private Income - Saving of Private Corporate Sectors - Corporation Tax
- C) Private Income - Taxes
- D) Total expenditure of Households - Income Tax - Gifts received

கீழ்க்கண்டவற்றுள் எது செலவிடத்தக்க தனி நபர் வருமானத்தை சமன் செய்யும்

- a) தனி நபர் வருமான - குடிமக்களால் நேரடியாக செலுத்தப்பட்ட வரி மற்றும் இதர கட்டணங்கள் மற்றும் அபராதம்
- b) தனி வருமானம் - பெறு நிறுவனங்களின் சேமிப்பு - பெரு நிறுவன வரி
- c) தனி வருமானம் - வரிகள்
- d) குடிமக்களின் மொத்த செலவு - வருமான வரி - நன்கொடைகள் பெற்றது

195. Who used the term "Hindu rate of Growth" with reference to Indian economy and why?

- a) Mahalanobis to describe the faster growth rate
- b) Raj Krishna to describe the stagnant growth rate
- c) Amartya Sen to describe the inequality in growth
- d) None of the above

"இந்து வளர்ச்சி வீதம் என்ற அடிப்படையில் இந்தியப் பொருளாதாரத்தை தொடர்பு படுத்தி பேசியவர்

- a) வேகமான பொருளாதார வளர்ச்சியாக மகலனோபிஸ் கூறினார்
- b) தேக்கமற்ற பொருளாதார வளர்ச்சி வீதத்தை, ராஜ்கிருஷ்ணன்
- c) வளர்ச்சியில் ஏற்றத்தாழ்வு நிலை என அமர்த்தியா சென்
- d) மேற்கண்ட எதுவுமில்லை

196. Which one of the following is not function of RBI

- a) Regulator of currency
- b) Agent and Adviser to the Government
- c) Custodian of Foreign Exchange reserves
- d) Making Budget for the government

கீழ்க்கண்டவற்றுள் எது ரிசர்வ் வங்கியின் பணிகளுள் அடங்காதது

- a) பண நோட்டுக்களை கட்டுபடுத்துவது
- b) அரசின் முகவர் மற்றும் ஆலோசகராக செயல்படுவது
- c) வெளிநாட்டு பணத்தின் காவலனாக இருப்பது
- d) அரசிற்காக பட்ஜெட் தயாரிப்பது



197. Consider the following statements regarding the measurement of rate of inflation:

- I. The rate of inflation is measured on the basis of price indices which are of two kinds, Wholesale Price Index (WPI) and Consumer Price Index (CPI).
- II. A price index is a measure of the average level of prices.
- III. Price index shows the exact price rise or fall of a single good.

Which of the following are correct?

- a) 1 only b) 1& 2 c) 2& 3 d) All of the above

பணவீக்கத்தை அளவிடுதல் தொடர்பான கீழ்க்கண்ட கூற்றுக்களை ஆராய்க

- I. பணவீக்கத்தின் அளவு மொத்த உற்பத்திக் குறியீடு மற்றும் நுகர்வோர் விலைக்குறியீடு ஆகியவற்றின் அடிப்படையில் அளவிடப்படுகிறது
- II. விலைக்குறியீடு சராசரியாக விலைகள் உயர்வதை அளவிட்டு செய்கிறது
- III. விலைக்குறியீடு சரியாக ஒரு பொருளின் விலை ஏற்றம் மற்றும் வீழ்ச்சியை குறிக்கிறது

- a) 1 சரி b) 1,2 சரி c) 2 3 சரி d) அனைத்தும் சரி

198. The Bank Account that is best suitable for businessmen is

- a) Savings Bank Account b) Current Account
c) Recurring Deposit Account d) Term Deposit Account.

வாணிகம் செய்வோருக்கு மிகவும் பொருத்தமான வங்கி கணக்கு எது

- a) சேமிப்பு வங்கி கணக்கு
b) நடப்பு வங்கி கணக்கு
c) தொடர் வைப்பு தொகை வங்கி கணக்கு
d) பருவ வைப்பு தொகை வங்கி கணக்கு

199. Pick the Incorrect answer

- a) Thanjavur is said to be the Rice Bowl of Tamilnadu.
b) Agmark grading and standardization is a state government scheme to check the quality and standard for agricultural products.
c) The grades given are Special, Good, Fair and Ordinary.
d) Regulated markets eliminate unhealthy marketing practices and exploitation of the products by middlemen.

கீழ்க்கண்டவற்றுள் தவறானவற்றைத் தேர்ந்தெடு

- a) தஞ்சாவூர் தமிழ் நாட்டின் அரிசிக்கிண்ணம் என அழைக்கப்படுகிறது
b) அக்மார்க் எனும் தர நிர்ணய திட்டம் மா நில அரசால் வேளாண் விளை பொருட்கள் தரப்படுத்தப்படுகிறது
c) இவை , சிறப்பு, நல்ல,சுமார், சாதாரணம் என வகைப்படுத்தப்படுகிறது



IYACHAMY ACADEMY

(Associated With www.iyachamy.com)
Institution For Competitive Exam

- d) ஒழுங்குபடுத்தப்பட்ட சந்தைகள் முறையற்ற சந்தை நடவடிக்கைகள் மற்றும் இடைத்தரகர்களின் சுரண்டலை தடுக்கிறது

200. Green Revolution made the Country Self Sufficient in food Production but had some fallouts . Consider the Following Statement

- I. It has Successful in the case of wheat, but not in the case of Pulses
- II. Brought Inter State Disparities
- III. Helped in Soil Restoring
- IV. Reduced water table in some states

பசுமைப் புரட்சி நமது நாடு உணவு உற்பத்தியில் தன்னிறைவு அடைய உருவாக்கியது ஆனால் அதில் சில குறைபாடுகள் உள்ளது, கீழ்க்கண்ட கூற்றுக்களை கருத்தில் கொள்க

- I. கோதுமை உற்பத்தியில் வெற்றியடைந்தது, ஆனால் தானிய உற்பத்தியில் அல்ல
- II. மாணிலங்களுக்கு இடையே வேறுபாட்டை உருவாக்கியது
- III. மண்ணின் தன்மையை சீரமைக்க உதவியது
- IV. சில மாணிலங்களில் நீரின் அளவினைக் குறைத்தது

Choose the Correct Code / சரியான குறியீட்டினை தேர்ந்தெடு

- a) 1, 2,4 b) 2,4 only c) 1,3,4 d) all are correct

NOTE THIS QUESTION STANDARD BASED ON THE MODEL QUESTION PAPER WHICH WAS RELEASED LAST YEAR. THIS IS EXPECTED PATTERN ONLY, IT MAY OR MAY NOT BE A AUTHENTICATED STANDARD OR PATTERNS

IYACHAMY ACADEMY NO , 172, GROUD FLOOR THIRUGNANASAMBANDAR STREET THIRUVALEESWARAR NAGAR THIRUMANGALAM ANNA NAGAR WEST CHENNAI - 40 9952521550	IYACHAMY ACADEMY SECOND FLOOR, JENITH OPTICAL UPSTAIRS OPPOSITE TO VOC GROUND PALAYAMKOTTAI TIRUNELVELI 7338884555	IYACHAMY ACADEMY KRISHNA BAKKERY UPSTAIRS SWAMY SANNATHI TENKASI 9786947055
--	---	---