

1. Consider the following statements about Vallalar's philosophy:

- (1) He prioritized practical solutions over theoretical teachings
- (2) He supported concentration of wealth
- (3) He advocated for widow remarriage
- (4) He emphasized feeding the hungry before spiritual teaching

Choose the correct answer:

- (A) 1 and 4 only
- (B) 2 and 3 only
- (C) 1, 2 and 4 only
- (D) All of the above
- (E) Answer not known

வள்ளலாரின் தத்துவத்தைப் பற்றிய பின்வரும் கூற்றுகளைக் கவனியுங்கள்:

- (1) அவர் தத்துவார்த்த போதனைகளை விட நடைமுறை தீர்வுகளுக்கு முன்னுரிமை அளித்தார்.
- (2) அவர் செல்வத்தை குவிப்பதை ஆதரித்தார்.
- (3) அவர் விதவை மறுமணத்தை ஆதரித்தார்.
- (4) அவர் ஆன்மீக போதனைகளுக்கு முன் பசியுள்ளவர்களுக்கு உணவளிக்க வலியுறுத்தினார்.

சரியான பதிலைத் தேர்ந்தெடுக்கவும்:

- (A) 1 மற்றும் 4 மட்டும்
- (B) 2 மற்றும் 3 மட்டும்
- (C) 1, 2 மற்றும் 4 மட்டும்
- (D) மேலே உள்ள அனைத்தும்
- (E) பதில் தெரியவில்லை

2. Consider the following statements:

- (1) English obtained Madras from Rajah of Chandragiri
- (2) Fort St. George became presidency in 1653
- (3) Aaron Baker was first Governor of Bentam
- (4) Thomas Yale acquired Fort St. David

Choose the correct answer:

- (A) 1 and 2 only
- (B) 2 and 3 only
- (C) 1, 2 and 4 only
- (D) All of the above
- (E) Answer not known

பின்வரும் கூற்றுகளைக் கவனியுங்கள்:

- (1) ஆங்கிலேயர்கள் மதராசை சந்திரகிரி ராஜாவிலிருந்து பெற்றனர்.
- (2) கோட்டை செயின்ட் ஜார்ஜ் 1653 இல் ஒரு பிரசிடென்சியாக மாறியது.
- (3) ஆரோன் பேக்கர் பெண்டமின் முதல் கவர்னர் ஆவார்.
- (4) தாமஸ் யேல் கோட்டை செயின்ட் டேவிட்டைப் பெற்றார்.

சரியான பதிலைத் தேர்ந்தெடுக்கவும்:

- (A) 1 மற்றும் 2 மட்டும்
- (B) 2 மற்றும் 3 மட்டும்
- (C) 1, 2 மற்றும் 4 மட்டும்
- (D) மேலே உள்ள அனைத்தும்
- (E) பதில் தெரியவில்லை

3. What was the outcome of Battle of Ambur?

- (A) French defeat
- (B) Confederate victory
- (C) Stalemate

- (D) British intervention  
 (E) Answer not known  
 ஆம்பூர் போரின் முடிவு என்ன?  
 (A) பிரெஞ்சு தோல்வி  
 (B) கூட்டமைப்பின் வெற்றி  
 (C) தேக்க நிலை  
 (D) பிரிட்டிஷ் தலையீடு  
 (E) பதில் தெரியவில்லை

4. Which of these were members of South Indian Confederacy?

- (a) Marudu Pandyan  
 (b) Gopala Nayak  
 (c) Yadul Nayak  
 (d) Oomathurai

- (A) (a) and (b) only  
 (B) (b) and (c) only  
 (C) (a), (b) and (c)  
 (D) All of the above

(E) Answer not known

தென்னிந்திய கூட்டமைப்பின் உறுப்பினர்கள் யார்?

- (a) மருது பாண்டியன்  
 (b) கோபால நாயக்  
 (c) யாதுல் நாயக்  
 (d) ஊமைத்துரை

- (A) (a) மற்றும் (b) மட்டும்  
 (B) (a) மற்றும் (c) மட்டும்  
 (C) (a), (b) மற்றும் (c)  
 (D) மேலே உள்ள அனைத்தும்  
 (E) பதில் தெரியவில்லை

5. Which of the following is NOT one of Colonel Olcott's healing achievements?

- (i) Curing paralysis  
 (ii) Treating blindness  
 (iii) Healing broken bones  
 (iv) Treating epilepsy  
 (A) (i) and (ii) only  
 (B) (ii) and (iii) only  
 (C) (iii) only  
 (D) (i), (ii), and (iv) only

(E) Answer not known

கர்னல் ஒல்காட்டின் குணப்படுத்தும் சாதனைகளில் பின்வருவது எது இல்லை?

- (i) பக்கவாதத்தை குணப்படுத்துதல்  
 (ii) பார்வையற்ற நிலைக்கு சிகிச்சை அளித்தல்  
 (iii) எலும்பு முறிவுகளை குணப்படுத்துதல்  
 (iv) வலிப்பு நோய்க்கு சிகிச்சை அளித்தல்

- (A) (i) மற்றும் (ii) மட்டும்  
 (B) (ii) மற்றும் (iii) மட்டும்  
 (C) (iii) மட்டும்  
 (D) (i), (ii) மற்றும் (iv) மட்டும்  
 (E) பதில் தெரியவில்லை

6. M.C. Rajah was nominated to Madras Legislative Council in:

- (A) 1915, 1920, 1923  
 (B) 1921, 1925, 1926  
 (C) 1917, 1922, 1924

- (D) 1919, 1923, 1927  
 (E) Answer not known  
 எம்.சி.ராஜா மெட்ராஸ் சட்டமன்ற கவுன்சிலுக்கு நியமிக்கப்பட்டது எப்போது?  
 (A) 1915, 1920, 1923  
 (B) 1921, 1925, 1926  
 (C) 1917, 1922, 1924  
 (D) 1919, 1923, 1927  
 (E) பதில் தெரியவில்லை

7. Assertion (A): Anjalai Ammal was released from Vellore jail during her pregnancy.  
 Reason (R): She encouraged her nine-year-old daughter to participate in freedom struggle.

- (A) Both (A) and (R) are true and (R) is the correct explanation of (A)  
 (B) Both (A) and (R) are true but (R) is not the correct explanation of (A)  
 (C) (A) is true but (R) is false  
 (D) (A) is false but (R) is true  
 (E) Answer not known

கூற்று (A): அஞ்சலை அம்மாள் கர்ப்ப காலத்தில் வேலூர் சிறையிலிருந்து விடுவிக்கப்பட்டார்.  
 காரணம் (R): அவர் தனது ஒன்பது வயது மகளை சுதந்திரப் போராட்டத்தில் பங்கேற்க ஊக்குவித்தார்.

- (A) (A) மற்றும் (R) இரண்டும் உண்மை மற்றும் (R) என்பது (A) இன் சரியான விளக்கம்  
 (B) (A) மற்றும் (R) இரண்டும் உண்மை ஆனால் (R) என்பது (A) இன் சரியான விளக்கம் அல்ல  
 (C) (A) உண்மை ஆனால் (R) தவறு  
 (D) (A) தவறு ஆனால் (R) உண்மை  
 (E) பதில் தெரியவில்லை

8. Who among the following missionaries is credited with adopting an ascetic lifestyle and prioritizing high-caste conversions in the Madurai Mission?

- (A) Francis Xavier  
 (B) Antony Criminali  
 (C) Robert de Nobili  
 (D) Balthasar da Costa  
 (E) Answer not known

மதுரை மிஷனில் துறவற வாழ்க்கையை ஏற்று, உயர் சாதி மதமாற்றங்களுக்கு முன்னுரிமை அளித்த மிஷனரி யார்?

- (A) பிரான்சிஸ் சேவியர்  
 (B) ஆண்டனி கிரிமினலி  
 (C) ராபர்ட் டி நோபிலி  
 (D) பஸ்தசார் டா கோஸ்டா  
 (E) பதில் தெரியவில்லை

9. Match the following individuals with their primary association or activity:

List I (Individual) | List II (Association/Activity)

- (a) Lakshminarasu Chetty | 1. Madras Mahajana Sabha  
 (b) Srinivasa Pillay | 2. Hindu Literary Society Revival  
 (c) Venkataraylu Naidu | 3. Madras Native Association  
 (d) G. Subramanya Iyer | 4. Hindu Reading Room

- (A) (a)-(3), (b)-(2), (c)-(4), (d)-(1)  
 (B) (a)-(1), (b)-(4), (c)-(2), (d)-(3)  
 (C) (a)-(2), (b)-(3), (c)-(4), (d)-(1)  
 (D) (a)-(4), (b)-(1), (c)-(3), (d)-(2)

(E) Answer not known

பின்வரும் நபர்களை அவர்களின் முதன்மை தொடர்பு அல்லது செயல்பாட்டுடன் பொருத்தவும்:  
 பட்டியல் I (நபர்) | பட்டியல் II (சங்கம்/செயல்பாடு)

- (a) லட்சுமிநரசு செட்டி | 1. மெட்ராஸ் மகாஜன சபை  
 (b) சீனிவாச பிள்ளை | 2. இந்து இலக்கிய சங்கத்தின் மறுமலர்ச்சி  
 (c) வெங்கடராயலு நாயுடு | 3. மெட்ராஸ் நேடீவ் அசோசியேஷன்  
 (d) ஜி.சுப்பிரமணிய ஐயர் | 4. இந்து வாசிப்பு அறை  
 (A) (a)-(3), (b)-(2), (c)-(4), (d)-(1)  
 (B) (a)-(1), (b)-(4), (c)-(2), (d)-(3)  
 (C) (a)-(2), (b)-(3), (c)-(4), (d)-(1)  
 (D) (a)-(4), (b)-(1), (c)-(3), (d)-(2)  
 (E) பதில் தெரியவில்லை

10. Which of the following South Indian leaders served as Congress President at Gauhati session?

- (A) Ananthacharlu  
 (B) Sir Sankaran Nair  
 (C) C. Vijayaraghavachari  
 (D) S. Srinivasa Iyengar  
 (E) Answer not known

பின்வரும் தென்னிந்திய தலைவர்களில் கௌஹாத்தி மாநாட்டில் காங்கிரஸ் தலைவராக இருந்தவர் யார்?

- (A) அனந்தச்சார்லு  
 (B) சர் சங்கரன் நாயர்  
 (C) சி. விஜயராகவாச்சாரி  
 (D) எஸ். சீனிவாச ஐயங்கார்  
 (E) பதில் தெரியவில்லை

11. Statement 1: After the 91st Constitutional Amendment Act, 2003, the total number of Ministers in the Council of Ministers at the Centre shall not exceed 15% of the total number of members in the Lok Sabha, which effectively caps the maximum size at 81 Ministers.

Statement 2: This limitation was introduced because oversized Councils of Ministers were being used to accommodate defectors and maintain political alliances, leading to additional burden on the public exchequer.

- (A) S1 and S2 are correct but S2 does not explain S1  
 (B) S1 is wrong; S2 is correct  
 (C) Both S1 and S2 are wrong  
 (D) S1 and S2 are correct and S2 explains the S1  
 (E) Answer not known

கூற்று 1: 91வது அரசியலமைப்பு திருத்தச் சட்டம், 2003க்குப் பிறகு, மத்திய அமைச்சர்கள் குழுவில் உள்ள மொத்த அமைச்சர்களின் எண்ணிக்கை மக்களவையில் உள்ள மொத்த உறுப்பினர்களின் எண்ணிக்கையில் 15%-ஐ தாண்டக்கூடாது, இது அதிகபட்ச அளவை 81 அமைச்சர்களாகக் கட்டுப்படுத்துகிறது.

கூற்று 2: அமைச்சர்கள் குழுவை அரசியல் கட்சி மாறுபவர்களை தங்களுடன் வைத்துக்கொள்வதற்கும் மற்றும் அரசியல் கூட்டணிகளை பராமரிப்பதற்கும் பயன்படுத்தியதால் பொதுப்பணத்தில் கூடுதல் சுமை ஏற்பட்டது. இந்த கட்டுப்பாடு கொண்டுவரப்பட்டது.

- (A) S1 மற்றும் S2 சரியானவை ஆனால் S2, S1ஐ விளக்கவில்லை  
 (B) S1 தவறு; S2 சரியானது  
 (C) S1 மற்றும் S2 இரண்டும் தவறு  
 (D) S1 மற்றும் S2 சரியானவை மற்றும் S2, S1ஐ விளக்குகிறது.  
 (E) பதில் தெரியவில்லை

12. The Special Category Status was first granted to:

- (A) Assam  
 (B) Jammu and Kashmir  
 (C) Nagaland  
 (D) Himachal Pradesh

- (E) Answer not known  
 சிறப்பு வகை அந்தஸ்து முதன்முதலில் யாருக்கு வழங்கப்பட்டது:  
 (A) அசாம்  
 (B) ஜம்மு காஷ்மீர்  
 (C) நாகாலாந்து  
 (D) இமாச்சல பிரதேசம்  
 (E) பதில் தெரியவில்லை

13. Consider the following statements:

- (1) The Citizenship Act was amended in 2003 to introduce OCI scheme  
 (2) Dual citizenship is permitted under certain conditions  
 (3) PIO cardholders were merged with OCI category in 2015  
 (4) Registration under Section 5 requires 12 years residence  
 Choose the correct answer:

- (A) 2 and 3 only correct  
 (B) 1 and 3 only correct  
 (C) 2 and 4 only correct  
 (D) 1 and 4 only correct  
 (E) Answer not known

பின்வரும் கூற்றுகளைக் கவனியுங்கள்:

- (1) வெளிநாட்டு இந்தியர் (OCI) திட்டத்தை அறிமுகப்படுத்த 2003 ஆம் ஆண்டில் குடியுரிமைச் சட்டம் திருத்தப்பட்டது.  
 (2) இரட்டை குடியுரிமை சில நிபந்தனைகளின் கீழ் அனுமதிக்கப்படுகிறது.  
 (3) வெளிநாடு வாழ் இந்தியர் (PIO) அட்டை வைத்திருப்பவர்கள் 2015 இல் OCI பிரிவில் இணைக்கப்பட்டனர்.  
 (4) பிரிவு 5 இன் கீழ் பதிவு செய்வதற்கு 12 ஆண்டுகள் வசிப்பது அவசியம்.  
 சரியான பதிலைத் தேர்ந்தெடுக்கவும்:

- (A) 2 மற்றும் 3 மட்டும் சரி  
 (B) 1 மற்றும் 3 மட்டும் சரி  
 (C) 2 மற்றும் 4 மட்டும் சரி  
 (D) 1 மற்றும் 4 மட்டும் சரி  
 (E) பதில் தெரியவில்லை

14. Which of the following is NOT a condition for calling joint sitting?

- (i) Bill passed by one House and rejected by other  
 (ii) Houses disagree on amendments  
 (iii) More than six months elapse  
 (iv) Bill relates to state subject  
 (A) (i) and (ii) only  
 (B) (ii) and (iii) only  
 (C) (iv) only  
 (D) (i), (ii), and (iii) only  
 (E) Answer not known

கூட்டு அமர்வை அழைப்பதற்கான நிபந்தனை எது இல்லை?

- (i) ஒரு அவையில் நிறைவேற்றப்பட்டு மற்றொரு அவையில் நிராகரிக்கப்பட்ட மசோதா  
 (ii) திருத்தங்களில் சபைகளுக்கு உடன்பாடு இல்லாமை  
 (iii) ஆறு மாதங்களுக்கு மேல் காலாவதியாகி இருந்தால்  
 (iv) மசோதா மாநிலப் பொருளைப் பற்றியதாக இருந்தால்  
 (A) (i) மற்றும் (ii) மட்டும்  
 (B) (ii) மற்றும் (iii) மட்டும்  
 (C) (iv) மட்டும்  
 (D) (i), (ii) மற்றும் (iii) மட்டும்  
 (E) பதில் தெரியவில்லை

15. Choose the correct statements related to "Three Lists":



- (a) Education was moved to Concurrent List by 42nd Amendment  
 (b) Forests were originally in State List  
 (c) Public health is in State List  
 (A) (a) only  
 (B) (b) only  
 (C) (a) and (c) only  
 (D) All of the above  
 (E) Answer not known

"மூன்று பட்டியல்கள்" தொடர்பான சரியான கூற்றுகளைத் தேர்ந்தெடுக்கவும்:

- (a) கல்வி 42வது திருத்தத்தின் மூலம் பொதுப் பட்டியலுக்கு மாற்றப்பட்டது.  
 (b) காடுகள் முதலில் மாநிலப் பட்டியலில் இருந்தன.  
 (c) பொது சுகாதாரம் மாநிலப் பட்டியலில் உள்ளது.  
 (A) (a) மட்டும்  
 (B) (b) மட்டும்  
 (C) (a) மற்றும் (c) மட்டும்  
 (D) மேலே உள்ள அனைத்தும்  
 (E) பதில் தெரியவில்லை

16. Which one of the following pairs is wrongly matched?

- |                                |                           |
|--------------------------------|---------------------------|
| Amendment Procedure            | Constitutional Provisions |
| (I) Simple Majority            | - Creation of new states  |
| (II) Special Majority          | - Fundamental Rights      |
| (III) State Ratification       | - Election of President   |
| (IV) Special Majority + States | - Federal Provisions      |
- (A) (I) and (III) only  
 (B) (III) and (IV) only  
 (C) (III) only  
 (D) (II) only  
 (E) Answer not known

பின்வரும் ஜோடிகளில் எது தவறாகப் பொருத்தப்பட்டுள்ளது?

- திருத்த நடைமுறை | அரசியலமைப்பு விதிகள்
- (I) எளிய பெரும்பான்மை - புதிய மாநிலங்களை உருவாக்குதல்  
 (II) சிறப்பு பெரும்பான்மை - அடிப்படை உரிமைகள்  
 (III) மாநில அங்கீகாரம் - ஜனாதிபதி தேர்தல்  
 (IV) சிறப்பு பெரும்பான்மை + மாநிலங்கள் - கூட்டாட்சி விதிகள்  
 (A) (I) மற்றும் (III) மட்டும்  
 (B) (III) மற்றும் (IV) மட்டும்  
 (C) (III) மட்டும்  
 (D) (II) மட்டும்  
 (E) பதில் தெரியவில்லை

17. Match the Following:

- |                 |                            |
|-----------------|----------------------------|
| List I (Term)   | List II (Description)      |
| (a) Article 32  | 1. High Court power        |
| (b) Article 226 | 2. Fundamental right       |
| (c) Article 141 | 3. Law declared by SC      |
| (d) Article 144 | 4. Civil authorities' duty |
- (A) (a)-(2), (b)-(1), (c)-(3), (d)-(4)  
 (B) (a)-(1), (b)-(4), (c)-(2), (d)-(3)  
 (C) (a)-(4), (b)-(1), (c)-(3), (d)-(2)  
 (D) (a)-(2), (b)-(3), (c)-(4), (d)-(1)  
 (E) Answer not known

பின்வருவனவற்றைப் பொருத்தவும்:

- பட்டியல் I (பதம்) | பட்டியல் II (விளக்கம்)

- (a) பிரிவு 32 | 1. உயர் நீதிமன்ற அதிகாரம்  
 (b) பிரிவு 226 | 2. அடிப்படை உரிமை  
 (c) பிரிவு 141 | 3. உச்ச நீதிமன்றத்தால் அறிவிக்கப்பட்ட சட்டம்  
 (d) பிரிவு 144 | 4. சிவில் அதிகாரிகளின் கடமை  
 (A) (a)-(2), (b)-(1), (c)-(3), (d)-(4)  
 (B) (a)-(1), (b)-(4), (c)-(2), (d)-(3)  
 (C) (a)-(4), (b)-(1), (c)-(3), (d)-(2)  
 (D) (a)-(2), (b)-(3), (c)-(4), (d)-(1)  
 (E) பதில் தெரியவில்லை

18. The first state to implement complete prohibition as per Article 47 was \_\_\_\_\_.

- (A) Gujarat  
 (B) Bihar  
 (C) Tamil Nadu  
 (D) Kerala  
 (E) Answer not known

சரத்து 47-ன்படி முழுமையான மதுவிலக்கை அமல்படுத்திய முதல் மாநிலம் \_\_\_\_\_.

- (A) குஜராத்  
 (B) பீகார்  
 (C) தமிழ்நாடு  
 (D) கேரளா  
 (E) பதில் தெரியவில்லை

19. Choose the correct statements related to "Democratic Republic":

- (a) Head of State is elected  
 (b) Universal adult suffrage  
 (c) Indirect elections for President  
 (A) (a) only  
 (B) (b) only  
 (C) All of the above  
 (D) (b) and (c) only  
 (E) Answer not known

"ஜனநாயகக் குடியரசு" தொடர்பான சரியான கூற்றுகளைத் தேர்ந்தெடுக்கவும்:

- (a) அரசின் தலைவர் தேர்ந்தெடுக்கப்படுகிறார்  
 (b) வயது வந்தோர் வாக்குரிமை  
 (c) ஜனாதிபதிக்கு மறைமுகத் தேர்தல்கள்  
 (A) (a) மட்டும்  
 (B) (b) மட்டும்  
 (C) மேலே உள்ள அனைத்தும்  
 (D) (b) மற்றும் (c) மட்டும்  
 (E) பதில் தெரியவில்லை

20. Consider the following statements about Anglo-Indian representation:

- (1) It was the only community with nominated representation in Lok Sabha  
 (2) The provision was extended multiple times before being abolished  
 (3) State assemblies still retain the power of Anglo-Indian nomination  
 (4) The nomination was mandatory for every Lok Sabha

Choose the correct answer:

- (A) 1 and 2 only  
 (B) 2 and 3 only  
 (C) 1, 2 and 3 only  
 (D) All of the above  
 (E) Answer not known

ஆங்கிலோ-இந்திய பிரதிநிதித்துவம் பற்றிய பின்வரும் கூற்றுகளைக் கவனியுங்கள்:

- (1) மக்களவையில் நியமன பிரதிநிதித்துவம் பெற்ற ஒரே சமூகம் இதுவாகும்.

- (2) இந்த ஏற்பாடு ரத்து செய்யப்படுவதற்கு முன்பு பல முறை நீட்டிக்கப்பட்டது.  
 (3) மாநில சட்டசபைகள் இன்னும் ஆங்கிலோ-இந்திய நியமன அதிகாரத்தை தக்கவைத்துள்ளன.  
 (4) ஒவ்வொரு மக்களவைக்கும் நியமனம் கட்டாயமாக இருந்தது.  
 சரியான பதிலைத் தேர்ந்தெடுக்கவும்:  
 (A) 1 மற்றும் 2 மட்டும்  
 (B) 2 மற்றும் 3 மட்டும்  
 (C) 1, 2 மற்றும் 3 மட்டும்  
 (D) மேலே உள்ள அனைத்தும்  
 (E) பதில் தெரியவில்லை

21. The timeline for Governor to give assent to Bills as per Article 200 is:

- (A) Within 30 days  
 (B) As soon as possible  
 (C) Within 6 months  
 (D) No specific timeline  
 (E) Answer not known

சரத்து 200-ன்படி ஆளுநர் மசோதாக்களுக்கு ஒப்புதல் அளிக்க வேண்டிய காலக்கெடு:

- (A) 30 நாட்களுக்குள்  
 (B) கூடிய விரைவில்  
 (C) 6 மாதங்களுக்குள்  
 (D) குறிப்பிட்ட காலக்கெடு இல்லை  
 (E) பதில் தெரியவில்லை

22. Which of the following was NOT a recommendation of GVK Rao Committee?

- (A) Strengthening of Zila Parishad  
 (B) Regular elections to PRIs  
 (C) Abolition of DRDA  
 (D) District level planning  
 (E) Answer not known

ஜி.வி.கே ராவ் கமிட்டியின் பரிந்துரைகளில் பின்வருவது எது இல்லை?

- (A) ஜில்லா பரிஷத்தை வலுப்படுத்துதல்  
 (B) பிஆர்ஐகளுக்கு வழக்கமான தேர்தல்கள்  
 (C) DRDAவை ஒழித்தல்  
 (D) மாவட்ட அளவிலான திட்டமிடல்  
 (E) பதில் தெரியவில்லை

23. Which of the following statements are correct about District Collector's role?

- (1) Chairs District Rural Development Agency  
 (2) Supervises implementation of central schemes  
 (3) Controls local body funds directly  
 (4) Coordinates between state and local bodies

- (A) 1 and 2 only  
 (B) 2 and 4 only  
 (C) 1, 2 and 4 only  
 (D) All of the above  
 (E) Answer not known

மாவட்ட ஆட்சியரின் பங்கு பற்றிய பின்வரும் கூற்றுகளில் எது சரியானது?

- (1) மாவட்ட ஊரக வளர்ச்சி முகமைக்குத் தலைமை தாங்குபவர்  
 (2) மத்திய திட்டங்களின் செயல்பாட்டை மேற்பார்வை செய்கிறார்  
 (3) உள்ளாட்சி அமைப்புகளின் நிதியை நேரடியாகக் கட்டுப்படுத்துகிறார்  
 (4) மாநில மற்றும் உள்ளாட்சி அமைப்புகளுக்கு இடையே ஒருங்கிணைக்கிறார்

- (A) 1 மற்றும் 2 மட்டும்  
 (B) 2 மற்றும் 4 மட்டும்  
 (C) 1, 2 மற்றும் 4 மட்டும்



- (D) மேலே உள்ள அனைத்தும்  
(E) பதில் தெரியவில்லை

24. The programme that includes "Oru Naal Ungal Kanavu" for professional shadowing is:

- (A) Thiranchudar  
(B) Kalangarai  
(C) Thozilanangu  
(D) Kathiroli  
(E) Answer not known

தொழில்முறை நிழலாட்டத்திற்கான "ஒரு நாள் உங்கள் கனவு" திட்டத்தை உள்ளடக்கிய திட்டம்:

- (A) திறஞ்சுடர்  
(B) கலங்கரை  
(C) தொழிலனங்கு  
(D) கதிரொளி  
(E) பதில் தெரியவில்லை

25. Which of the following statements is INCORRECT regarding the Tamil Nadu State Planning Commission?

- (I) It is an advisory body to the State Government on matters related to planning and development.  
(II) It is headed by the Chief Minister of Tamil Nadu.  
(III) It primarily focuses on creating short-term policy measures.  
(IV) It has a role in formulating State Five-Year Plans and Annual Plans.  
(A) (I) and (III) only  
(B) (III) only  
(C) (II) and (IV) only  
(D) (IV) only  
(E) Answer not known

தமிழ்நாடு மாநில திட்ட ஆணையம் தொடர்பான பின்வரும் கூற்றுகளில் எது தவறானது?

- (I) இது மாநில அரசின் திட்டமிடல் மற்றும் மேம்பாடு தொடர்பான விஷயங்களில் ஆலோசனை வழங்கும் அமைப்பாகும்.  
(II) இதற்கு தமிழ்நாடு முதலமைச்சர் தலைமை தாங்குகிறார்.  
(III) இது முக்கியமாக குறுகிய கால கொள்கை நடவடிக்கைகளை உருவாக்குவதில் கவனம் செலுத்துகிறது.  
(IV) இது மாநில ஐந்தாண்டுத் திட்டங்கள் மற்றும் ஆண்டுத் திட்டங்களை உருவாக்குவதில் ஒரு பங்கு வகிக்கிறது.  
(A) (I) மற்றும் (III) மட்டும்  
(B) (III) மட்டும்  
(C) (II) மற்றும் (IV) மட்டும்  
(D) (IV) மட்டும்  
(E) பதில் தெரியவில்லை

26. Consider the following statements regarding the additional student enrolment in higher education as a result of "Pudhumai Penn" Scheme:

- (1) The scheme led to a 6.9% increase in student enrollment in 2022 and 2023.  
(2) The majority of these additional students are from SC households.  
(3) The increase was primarily seen in professional courses

Choose the correct answer:

- (A) 1 and 2 only correct  
(B) 2 and 3 only correct  
(C) 1 and 3 only correct  
(D) 1,2 and 3 are correct  
(E) Answer not known

"புதுமைப் பெண்" திட்டத்தின் விளைவாக உயர் கல்வியில் கூடுதல் மாணவர் சேர்க்கை தொடர்பாக பின்வரும் கூற்றுகளைக் கவனியுங்கள்:

(1) இந்தத் திட்டம் 2022 மற்றும் 2023 ஆம் ஆண்டுகளில் மாணவர் சேர்க்கையில் 6.9% அதிகரிப்புக்கு வழிவகுத்தது.

(2) இந்த கூடுதல் மாணவர்களில் பெரும்பாலானோர் SC குடும்பங்களைச் சேர்ந்தவர்கள்.

(3) இந்த அதிகரிப்பு முக்கியமாக தொழில்முறை படிப்புகளில் காணப்பட்டது.

சரியான பதிலைத் தேர்ந்தெடுக்கவும்:

(A) 1 மற்றும் 2 மட்டும் சரி

(B) 2 மற்றும் 3 மட்டும் சரி

(C) 1 மற்றும் 3 மட்டும் சரி

(D) 1, 2 மற்றும் 3 சரி

(E) பதில் தெரியவில்லை

27. Assertion (A): Tamil Nadu's economy has shown resilience by maintaining positive GSDP growth during the pandemic year 2020-21.

Reason (R): The state's economy relies heavily on non-agricultural sectors, making it immune to global agricultural market fluctuations.

(A) Both (A) and (R) are true and (R) is the correct explanation of (A)

(B) Both (A) and (R) are true, but (R) is not the correct explanation of (A)

(C) (A) is true but (R) is false

(D) (A) is false but (R) is true

(E) Answer not known

கூற்று (A): தொற்றுநோய் ஆண்டான 2020-21ல் தமிழ்நாடு பொருளாதாரம் நேர்மறையான GSDP வளர்ச்சியைப் பேணுவதன் மூலம் மீள்தன்மையைக் காட்டியுள்ளது.

காரணம் (R): மாநிலத்தின் பொருளாதாரம் விவசாயம் அல்லாத துறைகளை அதிகமாகச் சார்ந்துள்ளது, இது உலகளாவிய விவசாயச் சந்தை ஏற்ற இறக்கங்களுக்கு நோய் எதிர்ப்பு சக்தியை அளிக்கிறது.

(A) மற்றும் (R) இரண்டும் உண்மை மற்றும் (R) என்பது (A) இன் சரியான விளக்கம்

(B) (A) மற்றும் (R) இரண்டும் உண்மை, ஆனால் (R) என்பது (A) இன் சரியான விளக்கம் அல்ல

(C) (A) உண்மை ஆனால் (R) தவறு

(D) (A) தவறு ஆனால் (R) உண்மை

(E) பதில் தெரியவில்லை

28. Consider the following statements about Tamil Nadu's sectoral composition:

(1) Primary sector contributes 12.6% to GVA

(2) Secondary sector contributes 34.1% to GVA

(3) Tertiary sector contributes 53.1% to GVA

(4) Primary sector shows highest growth rate

Choose the correct answer:

(A) 1, 2 and 3 only

(B) 2, 3 and 4 only

(C) 1 and 4 only

(D) All of the above

(E) Answer not known

தமிழ்நாட்டின் துறைசார் அமைப்பு பற்றிய பின்வரும் கூற்றுகளைக் கவனியுங்கள்:

(1) முதன்மைத் துறை GVAக்கு 12.6% பங்களிக்கிறது

(2) இரண்டாம் துறை GVAக்கு 34.1% பங்களிக்கிறது

(3) மூன்றாம் துறை GVAக்கு 53.1% பங்களிக்கிறது

(4) முதன்மைத் துறை அதிக வளர்ச்சி விகிதத்தைக் காட்டுகிறது

சரியான பதிலைத் தேர்ந்தெடுக்கவும்:

(A) 1, 2 மற்றும் 3 மட்டும்

(B) 2, 3 மற்றும் 4 மட்டும்

(C) 1 மற்றும் 4 மட்டும்

(D) மேலே உள்ள அனைத்தும்

(E) பதில் தெரியவில்லை





# திறவுகோல்

THE KEY TO SUCCESS

## GROUP 1 PRELIMS TEST SERIES 2025

Mode: Online Only (PDF)

Fee: ₹2000

1 Fill in the Blanks/  
True or False Questions

65 Tests

2 Previous Year Questions  
(PYQ - Objective)

7 Tests

3 Revision Tests  
(Objective)

7 Tests

4 Model Tests

2 Tests

STARTS FROM FEBRUARY -1

IYACHAMY ACADEMY

9952521550 -9840281550

29. Which of the following is NOT a nodal point in Tamil Nadu Defence Industrial Corridor?

- (i) Chennai
- (ii) Coimbatore
- (iii) Madurai
- (iv) Salem
- (A) (i) and (ii) only
- (B) (ii) and (iii) only
- (C) (iii) only
- (D) (i) and (iv) only
- (E) Answer not known

தமிழ்நாடு பாதுகாப்பு தொழில் வழித்தடத்தில் பின்வருவது எது முனைப்புப் புள்ளி அல்ல?

- (i) சென்னை
- (ii) கோயம்புத்தூர்
- (iii) மதுரை
- (iv) சேலம்
- (A) (i) மற்றும் (ii) மட்டும்
- (B) (ii) மற்றும் (iii) மட்டும்
- (C) (iii) மட்டும்
- (D) (i) மற்றும் (iv) மட்டும்
- (E) பதில் தெரியவில்லை

30. Which one of the following pairs is wrongly matched?

Industrial Parks	Location
(I) Future Mobility Park	- Shoolagiri
(II) Medical Devices Park	- Oragadam
(III) Defence Park	- Sulur
(IV) Space Industrial Park	- Thoothukudi

- (A) (I) and (III) only
- (B) (III) only
- (C) (II) and (IV) only
- (D) (III) and (IV) only
- (E) Answer not known

பின்வரும் ஜோடிகளில் எது தவறாகப் பொருத்தப்பட்டுள்ளது?

- தொழில்துறை பூங்காக்கள் | அமைவிடம்
- (I) எதிர்கால இயக்கம் பூங்கா - சூலகிரி
  - (II) மருத்துவ சாதனங்கள் பூங்கா - ஓரகடம்
  - (III) பாதுகாப்புப் பூங்கா - சூலூர்
  - (IV) விண்வெளி தொழில் பூங்கா - தூத்துக்குடி
  - (A) (I) மற்றும் (III) மட்டும்
  - (B) (III) மட்டும்
  - (C) (II) மற்றும் (IV) மட்டும்
  - (D) (III) மற்றும் (IV) மட்டும்
  - (E) பதில் தெரியவில்லை

31. Choose the correct statements about Tamil Nadu's Electronic exports:

- (a) Reached USD 9.5 billion in 2023-24
- (b) Accounts for 33% of India's total electronics exports
- (c) Growth enabled by industry-friendly Electronics Policy
- (A) (a) only
- (B) (b) only
- (C) (a) and (b) only
- (D) (a), (b) and (c) only

(E) Answer not known

தமிழ்நாட்டின் மின்னணு ஏற்றுமதி தொடர்பான சரியான கூற்றுகளைத் தேர்ந்தெடுக்கவும்:

- (a) 2023-24ல் 9.5 பில்லியன் அமெரிக்க டாலர்களை எட்டியது  
 (b) இந்தியாவின் மொத்த மின்னணு ஏற்றுமதியில் 33% ஆகும்  
 (c) தொழில்-நட்பு மின்னணு கொள்கையால் வளர்ச்சி சாத்தியமானது  
 (A) (a) மட்டும்  
 (B) (b) மட்டும்  
 (C) (a) மற்றும் (b) மட்டும்  
 (D) (a), (b) மற்றும் (c) மட்டும்  
 (E) பதில் தெரியவில்லை

32. Which district in Tamil Nadu is recognized as holding the first position in terms of organic farming area?

- (A) Krishnagiri  
 (B) Dharmapuri  
 (C) Thanjavur  
 (D) Villupuram  
 (E) Answer not known

தமிழ்நாட்டில் எந்த மாவட்டம் கரிம விவசாயப் பரப்பளவில் முதலிடம் பிடித்ததாக அங்கீகரிக்கப்பட்டுள்ளது?

- (A) கிருஷ்ணகிரி  
 (B) தருமபுரி  
 (C) தஞ்சாவூர்  
 (D) விழுப்புரம்  
 (E) பதில் தெரியவில்லை

33. Choose the correct statements about Uzhavar Sandhai:

- (a) Launched in 1999 by former CM Muthamizh Arignar Dr. Kalaignar  
 (b) Currently 192 markets functioning across Tamil Nadu  
 (c) Entering its 25th year of operation  
 (A) (a) only  
 (B) (b) only  
 (C) (a) and (c) only  
 (D) All of the above  
 (E) Answer not known

உழவர் சந்தை பற்றிய சரியான கூற்றுகளைத் தேர்ந்தெடுக்கவும்:

- (a) முன்னாள் முதல்வர் முத்தமிழ் அறிஞர் டாக்டர் கலைஞர் அவர்களால் 1999 இல் தொடங்கப்பட்டது.  
 (b) தற்போது தமிழகம் முழுவதும் 192 சந்தைகள் செயல்பட்டு வருகின்றன  
 (c) செயல்பாட்டின் 25வது ஆண்டில் நுழைந்துள்ளது.  
 (A) (a) மட்டும்  
 (B) (b) மட்டும்  
 (C) (a) மற்றும் (c) மட்டும்  
 (D) மேலே உள்ள அனைத்தும்  
 (E) பதில் தெரியவில்லை

34. Under which Act was the 7.5% reservation for government school students introduced?

- (A) Tamil Nadu Admission Act 2021  
 (B) Tamil Nadu Reservation Act 2020  
 (C) Tamil Nadu Education Act 2021  
 (D) Tamil Nadu Schools Act 2020  
 (E) Answer not known

அரசுப் பள்ளி மாணவர்களுக்கான 7.5% இடஒதுக்கீடு எந்தச் சட்டத்தின் கீழ் அறிமுகப்படுத்தப்பட்டது?



- (A) தமிழ்நாடு சேர்க்கை சட்டம் 2021
- (B) தமிழ்நாடு இடஒதுக்கீடு சட்டம் 2020
- (C) தமிழ்நாடு கல்விச் சட்டம் 2021
- (D) தமிழ்நாடு பள்ளிகள் சட்டம் 2020
- (E) பதில் தெரியவில்லை

35. Which one of the following pairs is incorrectly matched?

District - Literacy Rate (2011)

- (A) Kanniyakumari - 91.7%
- (B) Chennai - 90.2%
- (C) Thoothukudi - 86.2%
- (D) Perambalur - 84.3%
- (E) Answer not known

பின்வரும் ஜோடிகளில் எது தவறாகப் பொருந்தியுள்ளது?

மாவட்டம் - கல்வியறிவு விகிதம் (2011)

- (A) கன்னியாகுமரி - 91.7%
- (B) சென்னை - 90.2%
- (C) தூத்துக்குடி - 86.2%
- (D) பெரம்பலூர் - 84.3%
- (E) பதில் தெரியவில்லை

36. Identify the major plateau that forms a part of the Mysore Plateau in Tamil Nadu:

- (A) Coimbatore Plateau
- (B) Bharamahal Plateau
- (C) Madurai Plateau
- (D) Sigur Plateau
- (E) Answer not known

தமிழ்நாட்டில் மைசூர் பீடபூமியின் ஒரு பகுதியாக உள்ள முக்கிய பீடபூமியை அடையாளம் காணவும்:

- (A) கோயம்புத்தூர் பீடபூமி
- (B) பாரமஹால் பீடபூமி
- (C) மதுரை பீடபூமி
- (D) சிகூர் பீடபூமி
- (E) பதில் தெரியவில்லை

37. Consider the following statements about Tamil Nadu's climate patterns:

- (1) Tamil Nadu experiences higher temperatures during Agni Nakshatram.
- (2) The retreating northeast monsoon is the primary rainy season for Tamil Nadu.
- (3) Chinnakallar near Valparai is the driest location in Tamil Nadu.

Choose the correct answer:

- (A) 1 and 2 only
- (B) 2 and 3 only
- (C) 1 and 3 only
- (D) 1, 2, and 3
- (E) Answer not known

தமிழ்நாட்டின் காலநிலை முறைகள் பற்றிய பின்வரும் கூற்றுகளைக் கவனியுங்கள்:

- (1) தமிழ்நாட்டில் அக்னி நட்சத்திரத்தின் போது அதிக வெப்பநிலையை அனுபவிக்கிறது.
- (2) வடகிழக்கு பருவமழை பின்வாங்குவது தமிழ்நாட்டின் முதன்மை மழைக்காலமாகும்.
- (3) வால்பாறைக்கு அருகிலுள்ள சின்னக்கல்லூர் தமிழ்நாட்டின் வறண்ட பகுதியாகும்.

சரியான பதிலைத் தேர்ந்தெடுக்கவும்:

- (A) 1 மற்றும் 2 மட்டும்
- (B) 2 மற்றும் 3 மட்டும்
- (C) 1 மற்றும் 3 மட்டும்
- (D) 1, 2, மற்றும் 3
- (E) பதில் தெரியவில்லை

38. Assertion (A): Tamil Nadu experiences cyclones primarily during the northeast monsoon.

Reason (R): The Bay of Bengal is warmer during this period, creating favorable conditions for cyclone formation.

- (A) Both (A) and (R) are true; (R) is the correct explanation of (A).  
 (B) Both (A) and (R) are true; (R) is not the correct explanation of (A).  
 (C) (A) is true but (R) is false.  
 (D) (A) is false but (R) is true.  
 (E) Answer not known

கூற்று (A): தமிழ்நாட்டில் வடகிழக்கு பருவமழையின் போது பெரும்பாலும் சூறாவளிகள் ஏற்படுகின்றன.

காரணம் (R): வங்காள விரிகுடா இந்த காலகட்டத்தில் வெப்பமாக இருப்பதால் சூறாவளி உருவாக சாதகமான சூழல் நிலவுகிறது.

- (A) (A) மற்றும் (R) இரண்டும் உண்மை; (R) என்பது (A) இன் சரியான விளக்கம்.  
 (B) (A) மற்றும் (R) இரண்டும் உண்மை; (R) என்பது (A) இன் சரியான விளக்கம் அல்ல.  
 (C) (A) உண்மை ஆனால் (R) தவறு.  
 (D) (A) தவறு ஆனால் (R) உண்மை.  
 (E) பதில் தெரியவில்லை

39. Which of the following districts is bordered by both the Bay of Bengal and the Palk Strait?

- (A) Ramanathapuram  
 (B) Nagapattinam  
 (C) Thoothukudi  
 (D) Mayiladuthurai  
 (E) Answer not known

பின்வரும் எந்த மாவட்டம் வங்காள விரிகுடா மற்றும் பாக் ஜலசந்தி இரண்டாலும் எல்லையாக உள்ளது?

- (A) ராமநாதபுரம்  
 (B) நாகப்பட்டினம்  
 (C) தூத்துக்குடி  
 (D) மயிலாடுதுறை  
 (E) பதில் தெரியவில்லை

40. Which of the following districts in Tamil Nadu was carved out most recently?

- (A) Tenkasi  
 (B) Mayiladuthurai  
 (C) Chengalpattu  
 (D) Ranipet  
 (E) Answer not known

தமிழ்நாட்டில் சமீபத்தில் உருவாக்கப்பட்ட மாவட்டம் எது?

- (A) தென்காசி  
 (B) மயிலாடுதுறை  
 (C) செங்கல்பட்டு  
 (D) ராணிப்பேட்டை  
 (E) பதில் தெரியவில்லை

41. Consider the following statements about mangrove forests in Tamil Nadu:

- (1) Mangroves are commonly found along the Palk Strait.  
 (2) Pichavaram and Vedaranyam are the two largest mangrove regions.  
 (3) Mangroves are adapted to saltwater environments.

Choose the correct answer:

- (A) 1 and 2 only

- (B) 2 and 3 only  
 (C) 1 and 3 only  
 (D) 1, 2, and 3  
 (E) Answer not known

தமிழ்நாட்டில் உள்ள சதுப்புநில காடுகள் பற்றிய பின்வரும் கூற்றுக்களைக் கவனியுங்கள்:

- (1) சதுப்புநிலங்கள் பொதுவாக பாக் ஜலசந்திப் பகுதியில் காணப்படுகின்றன.  
 (2) பிச்சாவரம் மற்றும் வேதாரண்யம் இரண்டு பெரிய சதுப்புநிலப் பகுதிகள் ஆகும்.  
 (3) சதுப்புநிலங்கள் உப்புநீர் சூழலுக்கு ஏற்றவாறு உள்ளன.

சரியான பதிலைத் தேர்ந்தெடுக்கவும்:

- (A) 1 மற்றும் 2 மட்டும்  
 (B) 2 மற்றும் 3 மட்டும்  
 (C) 1 மற்றும் 3 மட்டும்  
 (D) 1, 2, மற்றும் 3  
 (E) பதில் தெரியவில்லை

42. Match the following tiger reserves in Tamil Nadu with their districts:

List I (Tiger Reserve) | List II (Districts)

- (a) Kalakad-Mundanthurai Tiger Reserve | 1. Tirunelveli and Tenkasi  
 (b) Anamalai Tiger Reserve | 2. Coimbatore and Tiruppur  
 (c) Mudumalai Tiger Reserve | 3. Nilgiris  
 (d) Srivilliputhur Megamalai Tiger Reserve | 4. Virudhunagar, Theni, and Madurai

- (A) (a)-(1), (b)-(2), (c)-(3), (d)-(4)  
 (B) (a)-(2), (b)-(1), (c)-(4), (d)-(3)  
 (C) (a)-(3), (b)-(2), (c)-(1), (d)-(4)  
 (D) (a)-(4), (b)-(3), (c)-(2), (d)-(1)  
 (E) Answer not known

தமிழ்நாட்டில் உள்ள புலிகள் காப்பகங்களை அவற்றின் மாவட்டங்களுடன் பொருத்தவும்:

பட்டியல் I (புலிகள் காப்பகம்) | பட்டியல் II (மாவட்டங்கள்)

- (a) களக்காடு-முண்டந்தூறை புலிகள் காப்பகம் | 1. திருநெல்வேலி மற்றும் தென்காசி  
 (b) ஆணைமலை புலிகள் காப்பகம் | 2. கோயம்புத்தூர் மற்றும் திருப்பூர்  
 (c) முதுமலை புலிகள் காப்பகம் | 3. நீலகிரி  
 (d) ஸ்ரீவில்லிபுத்தூர் மேகமலை புலிகள் காப்பகம் | 4. விருதுநகர், தேனி மற்றும் மதுரை

- (A) (a)-(1), (b)-(2), (c)-(3), (d)-(4)  
 (B) (a)-(2), (b)-(1), (c)-(4), (d)-(3)  
 (C) (a)-(3), (b)-(2), (c)-(1), (d)-(4)  
 (D) (a)-(4), (b)-(3), (c)-(2), (d)-(1)  
 (E) பதில் தெரியவில்லை

43. Which one of the following pairs is wrongly matched?

- |                     |  |                     |
|---------------------|--|---------------------|
| River               |  | Origin              |
| (I) Cauvery         |  | Talakaveri          |
| (II) Vaigai         |  | Agasthyamalai Hills |
| (III) Thamirabarani |  | Pothigai Hills      |
| (IV) Palar          |  | Nandi Hills         |

- (A) (I) and (III) only  
 (B) (II) and (IV) only  
 (C) (IV) only  
 (D) (II) only  
 (E) Answer not known

பின்வரும் ஜோடிகளில் எது தவறாகப் பொருத்தப்பட்டுள்ளது?

நதி | தோற்றம்

- (I) காவிரி | தலைக்காவேரி  
 (II) வைகை | அகத்தியமலை மலைகள்  
 (III) தாமிரபரணி | பொதிகை மலை

- (IV) பாலாறு | நந்தி மலைகள்  
 (A) (I) மற்றும் (III) மட்டும்  
 (B) (II) மற்றும் (IV) மட்டும்  
 (C) (IV) மட்டும்  
 (D) (II) மட்டும்  
 (E) பதில் தெரியவில்லை

44. Find the mismatched pair:

- (A) Uranium-235 – Nuclear Fuel  
 (B) Control Rods – Boron or Cadmium  
 (C) Coolant – Heavy Water  
 (D) Moderator – Sodium  
 (E) Answer not known

பொருந்தாத ஜோடியைக் கண்டுபிடிக்கவும்:

- (A) யுரேனியம்-235 - அணு எரிபொருள்  
 (B) கட்டுப்படுத்தும் கம்பிகள் - போரான் அல்லது காட்மியம்  
 (C) குளிர்விப்பான் - கன நீர்  
 (D) மட்டுப்படுத்தி - சோடியம்  
 (E) பதில் தெரியவில்லை

45. Which of the following are correctly paired regarding electronic components and their functions?

- (1) Resistor – Current regulation  
 (2) Capacitor – Energy storage  
 (3) Inductor – Signal amplification  
 (4) Transformer – Voltage conversion  
 (A) 1, 2, and 4 only  
 (B) 2 and 3 only  
 (C) 1 and 3 only  
 (D) 1, 2, and 3 only  
 (E) Answer not known

பின்வரும் எந்த இணைப்புகள் மின்னணு கூறுகள் மற்றும் அவற்றின் செயல்பாடுகள் தொடர்பாக சரியாக உள்ளன?

- (1) மின்தடை - மின்னோட்டம் கட்டுப்பாடு  
 (2) மின்தேக்கி - ஆற்றல் சேமிப்பு  
 (3) தூண்டி - சமிக்கை பெருக்கம்  
 (4) மின்மாற்றி - மின்னழுத்த மாற்றம்  
 (A) 1, 2 மற்றும் 4 மட்டும்  
 (B) 2 மற்றும் 3 மட்டும்  
 (C) 1 மற்றும் 3 மட்டும்  
 (D) 1, 2 மற்றும் 3 மட்டும்  
 (E) பதில் தெரியவில்லை

46. Which among the following is not an advantage of nanotechnology in medicine?

- (A) Targeted drug delivery  
 (B) Increased bioavailability of drugs  
 (C) High manufacturing costs  
 (D) Improved diagnostic techniques  
 (E) Answer not known

பின்வருவனவற்றில் எது மருத்துவத்தில் நானோ தொழில்நுட்பத்தின் நன்மை அல்ல?

- (A) இலக்கு மருந்து விநியோகம்  
 (B) மருந்துகளின் உயிர் கிடைக்கும் தன்மையை அதிகரித்தல்  
 (C) அதிக உற்பத்தி செலவுகள்  
 (D) மேம்பட்ட நோயறிதல் நுட்பங்கள்  
 (E) பதில் தெரியவில்லை

47. Arrange the following fuels in increasing order of their calorific value:

- 1) Coal
- 2) LPG
- 3) Hydrogen
- 4) Natural Gas

- (A) 1-4-2-3
- (B) 4-1-3-2
- (C) 1-2-4-3
- (D) 1-3-4-2

(E) Answer not known

பின்வரும் எரிபொருள்களை அவற்றின் கலோரி மதிப்பிற்கு ஏற்ப ஏறுவரிசையில் அடுக்கவும்:

- 1) நிலக்கரி
- 2) எல்பிஜி
- 3) ஹைட்ரஜன்
- 4) இயற்கை எரிவாயு

- (A) 1-4-2-3
- (B) 4-1-3-2
- (C) 1-2-4-3
- (D) 1-3-4-2

(E) பதில் தெரியவில்லை

48. Find the mismatched pair:

- (A) Glycogen – Storage polysaccharide in animals
- (B) Starch – Storage polysaccharide in plants
- (C) Glucose – Structural component of plant cell walls
- (D) Fructose – Monosaccharide in fruits
- (E) Answer not known

பொருந்தாத ஜோடியைக் கண்டுபிடிக்கவும்:

- (A) கிளைகோஜன் - விலங்குகளில் சேமிப்பு பாலிசாக்கரைடு
- (B) ஸ்டார்ச் - தாவரங்களில் சேமிப்பு பாலிசாக்கரைடு
- (C) குளுக்கோஸ் - தாவர செல் சுவர்களின் கட்டமைப்பு கூறு
- (D) பிரக்டோஸ் - பழங்களில் மோனோசாக்கரைடு
- (E) பதில் தெரியவில்லை

49. Which of the following statements about antibiotic resistance is INCORRECT?

- (i) Antibiotic resistance occurs when bacteria evolve to survive in the presence of antibiotics.
- (ii) Overuse of antibiotics is a major contributor to the development of resistance.
- (iii) Antibiotic resistance is a phenomenon limited to hospital settings.
- (iv) Antibiotic resistance can spread between different bacterial species

- (A) (i) and (ii) only
- (B) (iii) and (iv) only
- (C) (iii) only
- (D) (ii) and (iv) only

(E) Answer not known

நுண்ணுயிர் எதிர்ப்பி எதிர்ப்பு பற்றி பின்வரும் கூற்றுகளில் எது தவறானது?

- (i) நுண்ணுயிர் எதிர்ப்பிகள் இருக்கும் சூழலில் உயிர்வாழ பாக்டீரியாக்கள் பரிணமிக்கும்போது நுண்ணுயிர் எதிர்ப்பி எதிர்ப்பு ஏற்படுகிறது.
- (ii) நுண்ணுயிர் எதிர்ப்பிகளின் அதிகப்படியான பயன்பாடு எதிர்ப்பின் வளர்ச்சிக்கு ஒரு முக்கிய பங்களிப்பாகும்.
- (iii) நுண்ணுயிர் எதிர்ப்பி எதிர்ப்பு என்பது மருத்துவமனை அமைப்புகளுக்கு மட்டுப்படுத்தப்பட்ட ஒரு நிகழ்வு.
- (iv) நுண்ணுயிர் எதிர்ப்பி எதிர்ப்பு வெவ்வேறு பாக்டீரியா இனங்களுக்கு இடையே பரவக்கூடும்.



- (A) (i) மற்றும் (ii) மட்டும்
- (B) (iii) மற்றும் (iv) மட்டும்
- (C) (iii) மட்டும்
- (D) (ii) மற்றும் (iv) மட்டும்
- (E) பதில் தெரியவில்லை

50. Find the mismatched pair:

- (A) Golden rice – Genetically modified to produce Vitamin A
- (B) DNA Ligase – Enzyme for DNA amplification
- (C) Gel Electrophoresis – Technique to separate DNA fragments
- (D) Bt Corn – Genetically modified to resist pests
- (E) Answer not known

பொருந்தாத ஜோடியைக் கண்டுபிடிக்கவும்:

- (A) கோல்டன் ரைஸ் - வைட்டமின் ஏ உற்பத்தி செய்ய மரபணு மாற்றப்பட்டது.
- (B) டிஎன்ஏ லிகேஸ் - டிஎன்ஏ பெருக்கத்திற்கான நொதி
- (C) ஜெல் எலக்ட்ரோபோரேசிஸ் - டிஎன்ஏ துண்டுகளைப் பிரிக்கும் நுட்பம்
- (D) பி.டி சோளம் - பூச்சிகளை எதிர்க்கும் மரபணு மாற்றப்பட்டது
- (E) பதில் தெரியவில்லை

51. The 'Secretariat' in the Tamil Nadu government is the main administrative hub. Under whose direct control does the Chief Secretary of Tamil Nadu function?

- (A) The Governor of Tamil Nadu
- (B) The Chief Minister of Tamil Nadu
- (C) The Speaker of the Tamil Nadu Legislative Assembly
- (D) The State Finance Minister
- (E) Answer not known

தமிழ்நாடு அரசின் 'செயலகம்' முக்கிய நிர்வாக மையமாகும். தமிழ்நாடு தலைமைச் செயலாளர் யாருடைய நேரடிக் கட்டுப்பாட்டின் கீழ் செயல்படுகிறார்?

- (A) தமிழ்நாடு ஆளுநர்
- (B) தமிழ்நாடு முதலமைச்சர்
- (C) தமிழ்நாடு சட்டமன்ற சபாநாயகர்
- (D) மாநில நிதி அமைச்சர்
- (E) பதில் தெரியவில்லை

52. Choose the correct statements regarding the changes brought about by the Tamil Nadu Abolition of Posts of Part-Time Village Officers Act, 1981:

- (a) The Act completely disbanded village-level administration.
- (b) Full-time Village Administrative Officers (VAOs) were introduced.
- (c) The posts of part-time Village Officers were abolished with immediate effect from 14.11.1980

- (A) (a) only
- (B) (b) only
- (C) (b) and (c) only
- (D) (a) and (b) only
- (E) Answer not known

தமிழ்நாடு பகுதிநேர கிராம அலுவலர்கள் பணியிடங்கள் ஒழிப்புச் சட்டம், 1981 மூலம் கொண்டுவரப்பட்ட மாற்றங்கள் தொடர்பான சரியான கூற்றுகளைத் தேர்ந்தெடுக்கவும்:

- (a) இந்தச் சட்டம் கிராம அளவிலான நிர்வாகத்தை முழுமையாகக் கலைத்தது.
- (b) முழுநேர கிராம நிர்வாக அலுவலர்கள் (VAO) அறிமுகப்படுத்தப்பட்டனர்.
- (c) பகுதிநேர கிராம அலுவலர் பதவிகள் 14.11.1980 முதல் உடனடியாக ரத்து செய்யப்பட்டன

- (A) (a) மட்டும்
- (B) (b) மட்டும்
- (C) (b) மற்றும் (c) மட்டும்
- (D) (a) மற்றும் (b) மட்டும்
- (E) பதில் தெரியவில்லை

53. The Tamil Pudhalvan scheme was launched by the Chief Minister of Tamil Nadu at which location?

- (A) Chennai
- (B) Madurai
- (C) Coimbatore
- (D) Tiruchirappalli
- (E) Answer not known

தமிழ் புதல்வன் திட்டம் தமிழ்நாடு முதலமைச்சரால் எந்த இடத்தில் தொடங்கப்பட்டது?

- (A) சென்னை
- (B) மதுரை
- (C) கோயம்புத்தூர்
- (D) திருச்சிராப்பள்ளி
- (E) பதில் தெரியவில்லை

54. The Champakam Dorairajan case, a landmark legal battle in India, primarily revolved around the issue of:

- (I) Freedom of Speech and Expression
- (II) Reservation in educational institutions
- (III) Right to practice any profession
- (IV) Right to property

- (A) (I) only
- (B) (II) only
- (C) (III) and (IV) only
- (D) (I) and (IV) only
- (E) Answer not known

இந்தியாவில் ஒரு முக்கியமான சட்டப் போரான சம்பகம் துரைராஜன் வழக்கு, முக்கியமாக எதைப் பற்றியது?

- (I) பேச்சு மற்றும் கருத்து சுதந்திரம்
- (II) கல்வி நிறுவனங்களில் இடஒதுக்கீடு
- (III) எந்தவொரு தொழிலையும் செய்யும் உரிமை
- (IV) சொத்துரிமை

- (A) (I) மட்டும்
- (B) (II) மட்டும்
- (C) (III) மற்றும் (IV) மட்டும்
- (D) (I) மற்றும் (IV) மட்டும்
- (E) பதில் தெரியவில்லை

55. Consider the following statements about the powers of a Pro-tem Speaker:

- (1) They have all the powers of a regular Speaker.
- (2) They can not decide on matters related to disqualification of members.
- (3) Their primary responsibility is to conduct the election of the Speaker
- (4) They have powers to initiate new legislation.

Choose the correct answer:

- (A) 1 and 2 only correct
- (B) 2 and 3 only correct
- (C) 1 and 3 only correct
- (D) 2 and 4 only correct
- (E) Answer not known

தற்காலிக சபாநாயகரின் அதிகாரங்கள் பற்றிய பின்வரும் கூற்றுகளைக் கவனியுங்கள்:

- (1) அவர்களுக்கு வழக்கமான சபாநாயகரின் அனைத்து அதிகாரங்களும் உண்டு.
- (2) உறுப்பினர்களின் தகுதி நீக்கம் தொடர்பான விஷயங்களில் அவர்கள் முடிவெடுக்க முடியாது.
- (3) சபாநாயகரைத் தேர்ந்தெடுப்பதற்கான தேர்தல் நடத்துவதே அவர்களின் முக்கியப் பொறுப்பாகும்.

- (4) அவர்கள் புதிய சட்டத்தை கொண்டுவர அதிகாரம் உண்டு.  
சரியான பதிலைத் தேர்ந்தெடுக்கவும்:  
(A) 1 மற்றும் 2 மட்டும் சரி  
(B) 2 மற்றும் 3 மட்டும் சரி  
(C) 1 மற்றும் 3 மட்டும் சரி  
(D) 2 மற்றும் 4 மட்டும் சரி  
(E) பதில் தெரியவில்லை

56. Consider the following statements regarding the Sixth State Finance Commission (SSFC) of Tamil Nadu:

- (1) It was constituted for a period up to 31st July 2021.  
(2) Its period was extended twice until 28th February 2022.  
(3) The chairman of the sixth finance commission was Thiru Mohan Pyare.  
(4) It was constituted by a gazette notification from the government.

Choose the correct answer:

- (A) 1 and 2 only correct  
(B) 1, 3 and 4 only correct  
(C) 2 and 3 only correct  
(D) 2 and 4 only correct  
(E) Answer not known

தமிழ்நாட்டின் ஆறாவது மாநில நிதி ஆணையம் (SSFC) தொடர்பான பின்வரும் கூற்றுகளைக் கவனியுங்கள்:

- (1) இது 2021 ஜூலை 31 வரை ஒரு காலத்திற்கு அமைக்கப்பட்டது.  
(2) இதன் காலம் 2022 பிப்ரவரி 28 வரை இரண்டு முறை நீட்டிக்கப்பட்டது.  
(3) ஆறாவது நிதி ஆணையத்தின் தலைவர் திரு மோகன் பியாரே.  
(4) இது அரசாங்கத்தின் அரசிதழ் அறிவிப்பின் மூலம் அமைக்கப்பட்டது.

சரியான பதிலைத் தேர்ந்தெடுக்கவும்:

- (A) 1 மற்றும் 2 மட்டும் சரி  
(B) 1, 3 மற்றும் 4 மட்டும் சரி  
(C) 2 மற்றும் 3 மட்டும் சரி  
(D) 2 மற்றும் 4 மட்டும் சரி  
(E) பதில் தெரியவில்லை

57. Match the Following:

List I (Committee)

- (a) Balwant Rai Mehta Committee  
(b) Ashok Mehta Committee  
(c) Santhanam Committee  
(d) L. M. Singhvi Committee

List II (Key Recommendation)

1. Two-tier system of PRIs.  
2. Three-tier system of PRIs.  
3. Financial empowerment of PRIs.  
4. Constitutional recognition of PRIs

- (A) (a)-(2), (b)-(1), (c)-(3), (d)-(4)  
(B) (a)-(1), (b)-(2), (c)-(4), (d)-(3)  
(C) (a)-(3), (b)-(4), (c)-(1), (d)-(2)  
(D) (a)-(4), (b)-(1), (c)-(2), (d)-(3)  
(E) Answer not known

பின்வருவனவற்றைப் பொருத்துக:

பட்டியல் I (குழு) | பட்டியல் II (முக்கிய பரிந்துரை)

- (a) பல்வந்த ராய் மேத்தா குழு | 1. பிஆர்ஐக்களின் இரண்டு அடுக்கு அமைப்பு.  
(b) அசோக் மேத்தா குழு | 2. பிஆர்ஐக்களின் மூன்று அடுக்கு அமைப்பு.  
(c) சந்தானம் குழு | 3. பிஆர்ஐக்களுக்கு நிதி அதிகாரம் அளித்தல்.  
(d) எல்.எம்.சிங்வி குழு | 4. பிஆர்ஐகளுக்கு அரசியலமைப்பு அங்கீகாரம்

- (A) (a)-(2), (b)-(1), (c)-(3), (d)-(4)  
(B) (a)-(1), (b)-(2), (c)-(4), (d)-(3)  
(C) (a)-(3), (b)-(4), (c)-(1), (d)-(2)  
(D) (a)-(4), (b)-(1), (c)-(2), (d)-(3)  
(E) பதில் தெரியவில்லை

58. Consider the following statements regarding the Preamble of the Indian Constitution:

(1) The Preamble is a part of the Constitution, hence amendable under Article 368.

(2) The Preamble is non-justiciable in nature

Which of the statements given above is/are correct?

(A) 1 only

(B) 2 only

(C) Both 1 and 2

(D) Neither 1 nor 2

(E) Answer not known

இந்திய அரசியலமைப்பின் முகவுரை தொடர்பான பின்வரும் கூற்றுகளைக் கவனியுங்கள்:

(1) முகவுரை அரசியலமைப்பின் ஒரு பகுதியாகும், எனவே பிரிவு 368 இன் கீழ் திருத்தப்படலாம்.

(2) முகவுரை இயல்பில் சட்டத்திற்கு அப்பாற்பட்டது

மேலே கொடுக்கப்பட்ட கூற்றுகளில் எது சரியானது/சரியானவை?

(A) 1 மட்டும்

(B) 2 மட்டும்

(C) 1 மற்றும் 2 இரண்டும்

(D) 1ம் இல்லை 2ம் இல்லை

(E) பதில் தெரியவில்லை

59. Which one of the following arguments best describes the rationale behind including Fundamental Duties in the Constitution alongside Fundamental Rights?

(A) To create a balance between individual rights and societal responsibilities

(B) To prioritize the duties of the citizens over their rights

(C) To establish a legal mechanism for enforcing duties

(D) To make citizens completely subservient to the government

(E) Answer not known

அடிப்படை உரிமைகளுடன் அரசியலமைப்பில் அடிப்படை கடமைகளைச் சேர்ப்பதற்கான காரணத்தை பின்வரும் வாதங்களில் எது சிறப்பாக விவரிக்கிறது?

(A) தனிப்பட்ட உரிமைகளுக்கும் சமூகப் பொறுப்புகளுக்கும் இடையே ஒரு சமநிலையை உருவாக்குவதற்கு

(B) குடிமக்களின் கடமைகளுக்கு அவர்களின் உரிமைகளுக்கு மேலாக முன்னுரிமை அளிப்பது

(C) கடமைகளை நிறைவேற்றுவதற்கான சட்டப்பூர்வ வழிமுறையை நிறுவுவதற்கு

(D) குடிமக்களை அரசாங்கத்திற்கு முழுமையாக அடிபணியச் செய்வதற்கு

(E) பதில் தெரியவில்லை

60. In the current debate surrounding the use of "Bharat" versus "India," what is a common argument in favor of prioritizing the term "Bharat"?

(A) It is a more modern term that reflects India's global aspirations.

(B) It aligns better with Western understanding and interpretations.

(C) It is seen as a symbol of decolonization and reclaiming indigenous identity.

(D) It has gained widespread usage across all languages in the country.

(E) Answer not known

"பாரத்" மற்றும் "இந்தியா" ஆகிய சொற்களைப் பயன்படுத்துவது தொடர்பான தற்போதைய விவாதத்தில், "பாரத்" என்ற சொல்லுக்கு முன்னுரிமை அளிப்பதற்கான பொதுவான வாதம் என்ன?

(A) இது இந்தியாவின் உலகளாவிய அபிலாஷைகளைப் பிரதிபலிக்கும் ஒரு நவீன சொல்.

(B) இது மேற்கத்திய புரிதல் மற்றும் விளக்கங்களுடன் சிறப்பாக ஒத்துப்போகிறது.

(C) இது காலனித்துவ நீக்கம் மற்றும் பழங்குடி அடையாளத்தை மீட்டெடுப்பதற்கான அடையாளமாகக் கருதப்படுகிறது.



- (D) இது நாட்டின் அனைத்து மொழிகளிலும் பரவலான பயன்பாட்டைப் பெற்றுள்ளது.  
(E) பதில் தெரியவில்லை

61. Consider the following statements regarding the Leader of the House in a State Legislative Assembly:

- (1) The Leader of the House is formally appointed by the Governor of the state.  
(2) The Leader of the House does not have any special privileges over other MLAs in the house

Which of the statements given above is/are correct?

- (A) 1 only  
(B) 2 only  
(C) Both 1 and 2  
(D) Neither 1 nor 2  
(E) Answer not known

மாநில சட்டமன்றத்தில் அவைத் தலைவர் தொடர்பான பின்வரும் கூற்றுகளைக் கவனியுங்கள்:  
(1) அவைத் தலைவர் முறையாக மாநில ஆளுநரால் நியமிக்கப்படுகிறார்.  
(2) அவைத் தலைவருக்கு அவையில் உள்ள மற்ற எம்.எல்.ஏ.க்களை விட சிறப்பு சலுகைகள் எதுவும் இல்லை.

மேலே கொடுக்கப்பட்ட கூற்றுகளில் எது சரியானது/சரியானவை?

- (A) 1 மட்டும்  
(B) 2 மட்டும்  
(C) 1 மற்றும் 2 இரண்டும்  
(D) 1ம் இல்லை 2ம் இல்லை  
(E) பதில் தெரியவில்லை

62. The primary objective of the Tamil Nadu Geographical Information System (TNGIS) project is to:

- (A) Develop a closed-source GIS platform for exclusive government use.  
(B) Create a generic model of GIS that can be easily integrated with various datasets.  
(C) Prioritize the creation of visually appealing maps for public display.  
(D) Replace all existing GIS platforms in the state with a single new platform.  
(E) Answer not known

தமிழ்நாடு புவியியல் தகவல் அமைப்பு (TNGIS) திட்டத்தின் முதன்மை நோக்கம்:

- (A) அரசாங்கத்தின் பயன்பாட்டிற்காக பிரத்தியேகமாக ஒரு மூடிய-மூல GIS தளத்தை உருவாக்குவது.  
(B) பல்வேறு தரவுத்தொகுப்புகளுடன் எளிதாக ஒருங்கிணைக்கக்கூடிய GIS இன் ஒரு பொதுவான மாதிரியை உருவாக்குவது.  
(C) பொது காட்சிக்கு பார்வைக்கு ஈர்க்கும் வரைபடங்களை உருவாக்குவதற்கு முன்னுரிமை அளிப்பது.  
(D) மாநிலத்தில் உள்ள அனைத்து GIS தளங்களையும் ஒரே புதிய தளத்துடன் மாற்றுவது.  
(E) பதில் தெரியவில்லை

63. The concept of "Equality before Law" implies:

- (A) All individuals must be treated the same regardless of circumstances.  
(B) Individuals in different positions may be treated differently.  
(C) The law should not be impartial and must favor those with power  
(D) Special privileges must be granted to certain segments of the population  
(E) Answer not known

"சட்டத்தின் முன் சமத்துவம்" என்ற கருத்து எதைக் குறிக்கிறது:

- (A) அனைத்து தனிநபர்களும் சூழ்நிலைகளைப் பொருட்படுத்தாமல் ஒரே மாதிரியாக நடத்தப்பட வேண்டும்.  
(B) வெவ்வேறு நிலையில் உள்ள நபர்கள் வித்தியாசமாக நடத்தப்படலாம்.  
(C) சட்டம் பாரபட்சமற்றதாக இருக்கக்கூடாது மற்றும் அதிகாரத்தில் உள்ளவர்களுக்கு சாதகமாக இருக்க வேண்டும்



- (D) மக்கள்தொகையின் சில பிரிவினருக்கு சிறப்பு சலுகைகள் வழங்கப்பட வேண்டும்.  
(E) பதில் தெரியவில்லை

64. Consider the following pairs related to the Fundamental Rights:

Right Article

- (1) Right to Education Article 21A  
(2) Right to Religion Article 25  
(3) Right to Freedom Article 14

How many pairs given above are correctly matched?

- (A) Only one pair  
(B) Only two pairs  
(C) Only three pairs  
(D) None  
(E) Answer not known

அடிப்படை உரிமைகள் தொடர்பான பின்வரும் ஜோடிகளைக் கவனியுங்கள்:  
உரிமை | சரத்து

- (1) கல்வி உரிமை | சரத்து 21A  
(2) மத உரிமை | சரத்து 25  
(3) சுதந்திர உரிமை | சரத்து 14

மேலே கொடுக்கப்பட்டுள்ள ஜோடிகளில் எத்தனை சரியாகப் பொருந்துகிறது?

- (A) ஒரு ஜோடி மட்டும்  
(B) இரண்டு ஜோடிகள் மட்டும்  
(C) மூன்று ஜோடிகள் மட்டும்  
(D) எதுவும் இல்லை  
(E) பதில் தெரியவில்லை

65. The writ of Habeas Corpus is associated with which of the following fundamental rights?

- (A) Right to Equality  
(B) Right to Freedom of Religion  
(C) Right to Personal Liberty  
(D) Cultural and Educational Rights  
(E) Answer not known

ஆட்கொணர்வு நீதிப்பேராணை பின்வரும் எந்த அடிப்படை உரிமையுடன் தொடர்புடையது?

- (A) சமத்துவ உரிமை  
(B) மத சுதந்திரத்திற்கான உரிமை  
(C) தனிப்பட்ட சுதந்திரத்திற்கான உரிமை  
(D) கலாச்சார மற்றும் கல்வி உரிமைகள்  
(E) பதில் தெரியவில்லை

66. Match the following individuals with their roles or association during the events after Ashe's murder.

List I (Individual) | List II (Role/Association)

- (a) Nilakanta Brahmachari | 1. Committed Suicide to avoid humiliation  
(b) Venkateswara Iyer | 2. Sentenced to 7 years  
(c) Rajaji | 3. Flagged off the ship S.S. V.O. Chidambaram  
(d) Madasamy | 4. Went underground after conspiracy suspicion

- (A) (a)-(2), (b)-(1), (c)-(3), (d)-(4)  
(B) (a)-(1), (b)-(2), (c)-(4), (d)-(3)  
(C) (a)-(3), (b)-(4), (c)-(1), (d)-(2)  
(D) (a)-(4), (b)-(3), (c)-(2), (d)-(1)  
(E) Answer not known

ஆஷின் கொலைக்குப் பிறகு நடந்த நிகழ்வுகளின் போது பின்வரும் நபர்களை அவர்களின் பங்கு அல்லது தொடர்புகளுடன் பொருத்தவும்.

பட்டியல் I (நபர்) | பட்டியல் II (பங்கு/தொடர்பு)

- (a) நீலகண்ட பிரம்மச்சாரி | 1. அவமானத்தைத் தவிர்க்க தற்கொலை செய்து கொண்டார்  
 (b) வெங்கடேஸ்வர ஐயர் | 2. 7 ஆண்டுகள் சிறை தண்டனை விதிக்கப்பட்டது  
 (c) ராஜாஜி | 3. எஸ்.எஸ். வி.ஓ.சிதம்பரம் கப்பலை கொடியசைத்து துவக்கி வைத்தார்  
 (d) மாடசாமி | 4. சதி подозренениеக்கு பிறகு தலைமறைவாகிவிட்டார்  
 (A) (a)-(2), (b)-(1), (c)-(3), (d)-(4)  
 (B) (a)-(1), (b)-(2), (c)-(4), (d)-(3)  
 (C) (a)-(3), (b)-(4), (c)-(1), (d)-(2)  
 (D) (a)-(4), (b)-(3), (c)-(2), (d)-(1)  
 (E) பதில் தெரியவில்லை

67. Assertion (A): Vykam Satyagraha was launched against untouchability practices  
 Reason (R): The Maharajah initially supported the Brahmins' stance

- (A) Both (A) and (R) are true and (R) explains (A)  
 (B) Both (A) and (R) are true but (R) doesn't explain (A)  
 (C) (A) is true but (R) is false  
 (D) (A) is false but (R) is true  
 (E) Answer not known

கூற்று (A): வைக்கம் சத்தியாகிரகம் தீண்டாமை நடைமுறைகளுக்கு எதிராக தொடங்கப்பட்டது  
 காரணம் (R): மகாராஜா ஆரம்பத்தில் பிராமணர்களின் நிலைப்பாட்டை ஆதரித்தார்

- (A) (A) மற்றும் (R) இரண்டும் உண்மை மற்றும் (R), (A)வை விளக்குகிறது.  
 (B) (A) மற்றும் (R) இரண்டும் உண்மை ஆனால் (R), (A)வை விளக்கவில்லை  
 (C) (A) உண்மை ஆனால் (R) தவறு  
 (D) (A) தவறு ஆனால் (R) உண்மை  
 (E) பதில் தெரியவில்லை

68. Who first used the term "Dravidian" in English and for what purpose?

- (A) Robert Caldwell to describe groups who speak languages from the Dravidian language family.  
 (B) P.T. Srinivasa Iyengar to highlight the cultural stages in Tamil literature.  
 (C) K.A. Nilakanta Sastri to emphasize that Dravida is synonymous with Tamil.  
 (D) Iyothee Thasa Pandidar to form Dravida Mahajana Sabha.  
 (E) Answer not known

ஆங்கிலத்தில் "திராவிடன்" என்ற சொல்லை முதன்முதலில் யார், எந்த நோக்கத்திற்காக பயன்படுத்தினார்?

- (A) ராபர்ட் கால்டுவெல், திராவிட மொழிக்குடும்பத்தைச் சேர்ந்த மொழிகளைப் பேசுபவர்களை விவரிக்க.  
 (B) பி.டி. சீனிவாச ஐயங்கார் தமிழ் இலக்கியத்தில் உள்ள கலாச்சார நிலைகளை எடுத்துக்காட்ட.  
 (C) கே.ஏ. நீலகண்ட சாஸ்திரி, திராவிடம் என்பது தமிழுக்கு இணையானது என்பதை வலியுறுத்த.  
 (D) அயோத்தி தாசு பண்டிதர் திராவிட மகாஜன சபையை உருவாக்க.  
 (E) பதில் தெரியவில்லை

69. Who wrote the following statement: "Knowledge of English is essential to have relation with the World and to get fruits of its treasures of knowledge"?

- (A) Periyar E.V. Ramasamy  
 (B) C.N. Annadurai  
 (C) M. Karunanidhi  
 (D) Maraimalai Adigal  
 (E) Answer not known

"உலகத்துடன் உறவு கொள்ளவும், அதன் அறிவுக் கருவூலங்களைப் பெறவும் ஆங்கில அறிவு அவசியம்" என்ற கூற்றை எழுதியவர் யார்?

- (A) பெரியார் ஈ.வே. ராமசாமி  
 (B) சி.என். அண்ணாதுரை  
 (C) மு. கருணாநிதி

- (D) மறைமலை அடிகள்  
(E) பதில் தெரியவில்லை

70. Choose the correct statement regarding contemporary Tamil Nadu politics and the impact of the Dravidian and Rationalist movements:

- (1) Modern Tamil Nadu politics is purely based on religious ideals.  
(2) Dravidian parties trace their roots to the Self-Respect Movement.  
(3) Tamil Nadu's political landscape actively promotes communal dominance.  
(4) The Pure Tamil Movement succeeded in completely eliminating the use of English.

- (A) (1) and (2) are correct  
(B) (2) only is correct  
(C) (3) and (4) are correct  
(D) (1) and (3) are correct  
(E) Answer not known

சமகால தமிழ்நாடு அரசியல் மற்றும் திராவிட மற்றும் பகுத்தறிவு இயக்கங்களின் தாக்கம் குறித்து சரியான கூற்றைத் தேர்ந்தெடுக்கவும்:

- (1) நவீன தமிழ்நாட்டு அரசியல் முற்றிலும் மதக் கருத்துக்களை அடிப்படையாகக் கொண்டது.  
(2) திராவிடக் கட்சிகள் சுயமரியாதை இயக்கத்தில் இருந்து தோன்றியவை.  
(3) தமிழ்நாட்டின் அரசியல் களம் வகுப்புவாத ஆதிக்கத்தை தீவிரமாக ஊக்குவிக்கிறது.  
(4) தூய தமிழ் இயக்கம் ஆங்கிலப் பயன்பாட்டை முற்றிலுமாக ஒழிப்பதில் வெற்றி பெற்றது.

- (A) (1) மற்றும் (2) சரி  
(B) (2) மட்டும் சரி  
(C) (3) மற்றும் (4) சரி  
(D) (1) மற்றும் (3) சரி  
(E) பதில் தெரியவில்லை

71. கீழ்க்கண்டவற்றைப் பொருத்துக:

ஊழல் எதிர்ப்பு குறள் விளக்கம்

- (a) "ஈன்றாள் பசி காண்பான் ஆயினும் செய்யற்க சான்றோர் பழிக்கும் வினை" 1. தீய செயல்களைச் செய்வதால் அழிவு ஏற்படும்  
(b) "அல்லல் பட்டு ஆற்றாது அழுத கண்ணீர் அன்றே செல்வத்தைத் தேய்க்கும் படை" 2. வறுமையால் ஏற்படும் ஊழலை உணர்த்துவது  
(c) "செய்தக்க அல்ல செய்க்கெடும் செய்தக்க செய்யாமை யானும் கெடும்" 3. கொடுங்கோல் ஆட்சியின் விளைவுகள்  
(d) "தவம்மறைந்து அல்லவை செய்தல் புதல்மறைந்து வேட்டுவன் புள்சிமிழ்த்து அற்று" 4.

துறவிகளின் தவறான செயல்களைச் சுட்டிக்காட்டுவது

- (a) (b) (c) (d)  
(A) 2 3 1 4  
(B) 1 2 3 4  
(C) 4 3 2 1  
(D) 3 2 4 1

(E) விடை தெரியவில்லை

72. கீழ்க்கண்ட எந்த பாடல் வரியின் மூலம் புறநானூறு "கொள்ளெனக் கொடுத்தல் உயர்ந்தன்று; அதனைதிர் கொள்ளேன் என்றல் அதனினும் உயர்ந்தன்று" என்ற கருத்தை வலியுறுத்துகிறது?

- (A) "யாதும் ஊரே யாவரும் கேளிர்"

- (B) "உண்டி கொடுத்தோர் உயிர் கொடுத்தோரே"  
 (C) "நல்லது செய்தல் ஆற்றீ ராயினும் அல்லது செய்தல் ஓம்புமின்"  
 (D) "ஈயென இரத்தல் இழிந்தன்று; அதனெதிர் ஈயென் என்றால் அதனினும் இழிந்தன்று"  
 (E) விடை தெரியவில்லை

73. With Reference to birth centenary of Muthamizharignar Kalaingar Choose the correct statements:

- (a) Name printed in Tamil only  
 (b) The coin features the quote "Thamizh Vellum"  
 (c) The commemorative coin release event occurred at Kalaivanar Arangam, Chennai, on 18th August 2024  
 (A) (a) only  
 (B) (b) only  
 (C) (b) and (c) only  
 (D) (a), (b) and (c)  
 (E) Answer not known

முத்தமிழறிஞர் கலைஞரின் நூற்றாண்டு விழாவையொட்டி, சரியான கூற்றுகளைத் தேர்ந்தெடுக்கவும்:

- (a) தமிழில் மட்டுமே பெயர் அச்சிடப்பட்டது.  
 (b) நாணயத்தில் "தமிழ் வெல்லும்" என்ற வாசகம் இடம்பெற்றுள்ளது.  
 (c) நினைவு நாணயம் வெளியீட்டு விழா 2024 ஆகஸ்ட் 18 அன்று சென்னையில் உள்ள கலைவாணர் அரங்கத்தில் நடைபெற்றது.  
 (A) (a) மட்டும்  
 (B) (b) மட்டும்  
 (C) (b) மற்றும் (c) மட்டும்  
 (D) (a), (b) மற்றும் (c)  
 (E) பதில் தெரியவில்லை

74. what are the core principles upon which the DMK Government's Dravidian Model of Development is founded?

- (A) Economic growth, industrialization, and technological advancement  
 (B) Social justice, equality, self-respect, love for Tamil language, and state autonomy  
 (C) Religious harmony, spiritual growth, and cultural preservation  
 (D) Centralized authority, national integration, and global cooperation  
 (E) Answer not known

திமுக அரசின் திராவிட மாடல் வளர்ச்சி எந்த அடிப்படைக் கொள்கைகளை அடிப்படையாகக் கொண்டது?

- (A) பொருளாதார வளர்ச்சி, தொழில்மயமாக்கல் மற்றும் தொழில்நுட்ப முன்னேற்றம்  
 (B) சமூக நீதி, சமத்துவம், சுயமரியாதை, தமிழ் மொழி மீது அன்பு மற்றும் மாநில தன்னாட்சி  
 (C) மத நல்லிணக்கம், ஆன்மீக வளர்ச்சி மற்றும் கலாச்சாரப் பாதுகாப்பு  
 (D) மையப்படுத்தப்பட்ட அதிகாரம், தேசிய ஒருங்கிணைப்பு மற்றும் உலகளாவிய ஒத்துழைப்பு  
 (E) பதில் தெரியவில்லை

75. Consider the following statements about the archaeological findings at Kongalnagaram:

- (1) It has only Paleolithic monuments.  
 (2) It contains both Iron Age and Early Mesolithic monuments.  
 (3) It contains graffiti and Tamil inscribed potsherds.  
 (4) It contains a variety of stone tools.

Choose the correct answer:

- (A) 1 and 4 only correct



- (B) 2 and 3 only correct
- (C) 1 and 3 only correct
- (D) 2 and 4 only correct
- (E) Answer not known

கொங்கர்நகரத்தில் உள்ள தொல்பொருள் கண்டுபிடிப்புகள் பற்றிய பின்வரும் கூற்றுகளைக் கவனியுங்கள்:

- (1) இங்கு பழங்காலத்திய நினைவுச்சின்னங்கள் மட்டுமே உள்ளன.
- (2) இங்கு இரும்பு கால மற்றும் ஆரம்ப இடைக்கால நினைவுச்சின்னங்கள் இரண்டும் உள்ளன.
- (3) இங்கு கிராஃபிட்டி மற்றும் தமிழி பொறிக்கப்பட்ட பாணை ஓடுகள் உள்ளன.
- (4) இங்கு பல்வேறு வகையான கல் கருவிகள் உள்ளன.

சரியான பதிலைத் தேர்ந்தெடுக்கவும்:

- (A) 1 மற்றும் 4 மட்டும் சரி
- (B) 2 மற்றும் 3 மட்டும் சரி
- (C) 1 மற்றும் 3 மட்டும் சரி
- (D) 2 மற்றும் 4 மட்டும் சரி
- (E) பதில் தெரியவில்லை

76. The Pudhu Vaazhvu Thittam is implemented with:

- (i) 75% World Bank aid
- (ii) Coverage of 26 districts
- (iii) Focus on disabled persons
- (iv) Implementation by Health Department
- (A) (i) and (ii) only
- (B) (ii) and (iii) only
- (C) (i), (ii) and (iii) only
- (D) All of the above
- (E) Answer not known

புது வாழ்வு திட்டம் பின்வருவனவற்றைக் கொண்டு செயல்படுத்தப்படுகிறது:

- (i) 75% உலக வங்கி உதவி
- (ii) 26 மாவட்டங்களில் உள்ளடக்கம்
- (iii) மாற்றுத்திறனாளிகள் மீது கவனம்
- (iv) சுகாதாரத் துறையால் அமல்படுத்தப்படுதல்
- (A) (i) மற்றும் (ii) மட்டும்
- (B) (ii) மற்றும் (iii) மட்டும்
- (C) (i), (ii) மற்றும் (iii) மட்டும்
- (D) மேலே உள்ள அனைத்தும்
- (E) பதில் தெரியவில்லை

77. Consider the following statements regarding Tamil Nadu's employment trends:

- (I) Share of agricultural employment declined by 5 percentage points
- (II) Tamil Nadu has second-lowest share of agricultural employment after Kerala
- (III) Agricultural labor rose to 29.21% in 2011
- (IV) Share of cultivators increased from 18.4% to 29.21%

- (A) I and II only
- (B) II and III only
- (C) I, II and III only
- (D) All of the above
- (E) Answer not known

தமிழ்நாட்டின் வேலைவாய்ப்பு போக்குகள் தொடர்பான பின்வரும் கூற்றுகளைக் கவனியுங்கள்:

- (I) விவசாய வேலைவாய்ப்பு பங்கு 5 சதவீத புள்ளிகள் குறைந்துள்ளது
- (II) கேரளாவுக்குப் பிறகு விவசாய வேலைவாய்ப்பில் தமிழ்நாடு இரண்டாவது குறைந்த பங்கைக் கொண்டுள்ளது.

- (III) 2011 ஆம் ஆண்டில் விவசாயத் தொழிலாளர்கள் 29.21% ஆக உயர்ந்தது
- (IV) சாகுபடியாளர்களின் பங்கு 18.4% லிருந்து 29.21% ஆக அதிகரித்துள்ளது
- (A) I மற்றும் II மட்டும்



- (B) II மற்றும் III மட்டும்
- (C) I, II மற்றும் III மட்டும்
- (D) மேலே உள்ள அனைத்தும்
- (E) பதில் தெரியவில்லை

78. Among these districts, which showed positive change in sex ratio (2001-2011)?

- (A) Theni
- (B) Sivaganga
- (C) Coimbatore
- (D) Thanjavur
- (E) Answer not known

இந்த மாவட்டங்களில், எந்த மாவட்டம் பாலின விகிதத்தில் (2001-2011) நேர்மறையான மாற்றத்தைக் காட்டியது?

- (A) தேனி
- (B) சிவகங்கை
- (C) கோயம்புத்தூர்
- (D) தஞ்சாவூர்
- (E) பதில் தெரியவில்லை

79. Consider the following statements about Tamil Nadu Corporation For Development of Women Ltd

- (I) Founded in December 1983 under Companies Act
- (II) Managed by Social Welfare Department until 2006
- (III) Transferred to Rural Development Department in July 2006
- (IV) Primary focus on urban development

- (A) I, II and III only
- (B) II and III only
- (C) I and IV only
- (D) All of the above
- (E) Answer not known

தமிழ்நாடு மகளிர் மேம்பாட்டுக் கழகம் லிமிடெட் பற்றிய பின்வரும் கூற்றுகளைக் கவனியுங்கள்

- (I) கம்பெனி சட்டத்தின் கீழ் டிசம்பர் 1983 இல் நிறுவப்பட்டது
- (II) 2006 வரை சமூக நலத்துறையால் நிர்வகிக்கப்பட்டது
- (III) ஜூலை 2006 இல் ஊரக வளர்ச்சித் துறைக்கு மாற்றப்பட்டது
- (IV) நகர்ப்புற மேம்பாட்டில் முதன்மை கவனம்

- (A) I, II மற்றும் III மட்டும்
- (B) II மற்றும் III மட்டும்
- (C) I மற்றும் IV மட்டும்
- (D) மேலே உள்ள அனைத்தும்
- (E) பதில் தெரியவில்லை

80. Identify the incorrect statement about Tamil Nadu's industrial achievements:

- (A) Tamil Nadu is India's Vehicle Manufacturing Capital.
- (B) The first SIPCOT was established in Ranipet in 1983.
- (C) Tamil Nadu ranks first in electronics exports in India.
- (D) Tamil Nadu manufactures 40% of India's e-vehicles.
- (E) Answer not known

தமிழ்நாட்டின் தொழில் சாதனைகள் பற்றிய தவறான அறிக்கையை அடையாளம் காணவும்:

- (A) தமிழ்நாடு இந்தியாவின் வாகன உற்பத்தி தலைநகரம்.
- (B) முதல் SIPCOT 1983 இல் ராணிப்பேட்டையில் நிறுவப்பட்டது.
- (C) இந்தியாவில் மின்னணு ஏற்றுமதியில் தமிழ்நாடு முதலிடத்தில் உள்ளது.
- (D) இந்தியாவில் தயாரிக்கப்படும் 40% மின்சார வாகனங்களை தமிழ்நாடு தயாரிக்கிறது.
- (E) பதில் தெரியவில்லை

81. Who introduced the 'Hut-Free Tamil Nadu' scheme?

- (A) C. N. Annadurai
- (B) M. G. Ramachandran
- (C) M. Karunanidhi
- (D) J. Jayalalithaa
- (E) Answer not known

'குடிசை இல்லாத தமிழ்நாடு' திட்டத்தை அறிமுகப்படுத்தியவர் யார்?

- (A) சி. என். அண்ணாதுரை
- (B) எம். ஜி. ராமச்சந்திரன்
- (C) மு. கருணாநிதி
- (D) ஜெ. ஜெயலலிதா
- (E) பதில் தெரியவில்லை

82. Choose the correct statements regarding the Tamil Nadu Budget 2024-25:

- (a) It projects a fiscal deficit of 3.44% of GSDP.
- (b) Revenue receipts are estimated at ₹2,99,009.98 crore.
- (c) A revenue surplus is expected by 2026-27.

- (A) (a) only
- (B) (b) and (c) only
- (C) (a) and (b) only
- (D) (a), (b), and (c)
- (E) Answer not known

தமிழ்நாடு பட்ஜெட் 2024-25 தொடர்பான சரியான கூற்றுகளைத் தேர்ந்தெடுக்கவும்:

- (a) இது GSDP இல் 3.44% நிதி பற்றாக்குறையை திட்டமிட்டுள்ளது.
- (b) வருவாய் ரசீதுகள் ₹2,99,009.98 கோடியாக இருக்கும் என்று மதிப்பிடப்பட்டுள்ளது.
- (c) 2026-27 ஆம் ஆண்டளவில் வருவாய் உபரி எதிர்பார்க்கப்படுகிறது.

- (A) (a) மட்டும்
- (B) (b) மற்றும் (c) மட்டும்
- (C) (a) மற்றும் (b) மட்டும்
- (D) (a), (b) மற்றும் (c)
- (E) பதில் தெரியவில்லை

83. Identify the primary sectors contributing to Tamil Nadu's GSDP in 2022-23:

- (A) Manufacturing and IT/ITES
- (B) Agriculture, livestock, and forestry
- (C) Primary, secondary, and tertiary sectors in equal proportions
- (D) Primary sector: 12.6%, Secondary sector: 34.1%, Tertiary sector: 53.1%
- (E) Answer not known

2022-23ல் தமிழ்நாட்டின் GSDPக்கு பங்களிக்கும் முதன்மை துறைகளை அடையாளம் காணவும்:

- (A) உற்பத்தி மற்றும் IT/ITES
- (B) விவசாயம், கால்நடை மற்றும் வனவியல்
- (C) முதன்மை, இரண்டாம் மற்றும் மூன்றாம் துறைகள் சம விகிதத்தில்
- (D) முதன்மைத் துறை: 12.6%, இரண்டாம் துறை: 34.1%, மூன்றாம் துறை: 53.1%
- (E) பதில் தெரியவில்லை

84. Assertion (A): Tamil Nadu leads India in women's economic independence and political empowerment.

Reason (R): Empowering women has a multiplier effect on families and the next generation.

- (A) Both (A) and (R) are true; (R) is the correct explanation of (A).
- (B) Both (A) and (R) are true; (R) is not the correct explanation of (A).
- (C) (A) is true but (R) is false.
- (D) (A) is false but (R) is true.
- (E) Answer not known

- கூற்று (A): பெண்கள் பொருளாதார சுதந்திரம் மற்றும் அரசியல் அதிகாரத்தில் தமிழ்நாடு இந்தியாவில் முதலிடத்தில் உள்ளது.  
 காரணம் (R): பெண்களுக்கு அதிகாரம் அளிப்பது குடும்பங்கள் மற்றும் அடுத்த தலைமுறையில் பல மடங்கு விளைவை ஏற்படுத்துகிறது.  
 (A) (A) மற்றும் (R) இரண்டும் உண்மை; (R) என்பது (A) இன் சரியான விளக்கம்.  
 (B) (A) மற்றும் (R) இரண்டும் உண்மை; (R) என்பது (A) இன் சரியான விளக்கம் அல்ல.  
 (C) (A) உண்மை ஆனால் (R) தவறு.  
 (D) (A) தவறு ஆனால் (R) உண்மை.  
 (E) பதில் தெரியவில்லை

85. Identify Tamil Nadu's performance in achieving Sustainable Development Goals (SDGs):

- (A) Ranked 1st in Climate Action in NITI Aayog's SDG Index.  
 (B) Scored the highest in Gender Equality (SDG 5).  
 (C) Ranked 3rd overall in the 2023-24 SDG Index.  
 (D) Achieved a composite score of 90 in the SDG Index.  
 (E) Answer not known

நிலையான வளர்ச்சி இலக்குகளை (SDGs) அடைவதில் தமிழ்நாட்டின் செயல்திறனை அடையாளம் காணவும்:

- (A) நிதி ஆயோக்கின் SDG குறியீட்டில் காலநிலை நடவடிக்கையில் 1வது இடத்தைப் பிடித்தது.  
 (B) பாலின சமத்துவத்தில் (SDG 5) அதிக மதிப்பெண் பெற்றது.  
 (C) 2023-24 SDG குறியீட்டில் ஒட்டுமொத்தமாக 3வது இடத்தைப் பிடித்தது.  
 (D) SDG குறியீட்டில் 90 என்ற கலப்பு மதிப்பெண்ணை எட்டியது.  
 (E) பதில் தெரியவில்லை

86. Which of the following minerals is most abundant in Tamil Nadu?

- (A) Lignite  
 (B) Iron Ore  
 (C) Graphite  
 (D) Bauxite  
 (E) Answer not known

பின்வரும் தாதுக்களில் எது தமிழ்நாட்டில் அதிகமாகக் காணப்படுகிறது?

- (A) லிக்னைட்  
 (B) இரும்பு தாது  
 (C) கிராஃபைட்  
 (D) பாக்க்சைட்  
 (E) பதில் தெரியவில்லை

87. Which of the following is NOT a key objective of Tamil Nadu's M-Sand Policy 2023?

- (i) Promoting zero-waste mining practices.  
 (ii) Ensuring the use of BIS-compliant M-Sand for construction.  
 (iii) Encouraging river sand mining to meet infrastructure demands.  
 (iv) Recycling aggregates from construction and demolition waste.

- (A) (i) and (ii) only  
 (B) (ii) and (iv) only  
 (C) (iii) only  
 (D) (i), (ii), and (iii) only  
 (E) Answer not known

பின்வருவனவற்றில் எது தமிழ்நாட்டின் எம்-சாண்ட் கொள்கை 2023 இன் முக்கிய நோக்கம் அல்ல?

- (i) பூஜ்ய கழிவு சுரங்க நடைமுறைகளை ஊக்குவித்தல்.  
 (ii) கட்டுமானத்திற்கு BIS-இணக்கமான M-Sand பயன்பாட்டை உறுதி செய்தல்.  
 (iii) உள்கட்டமைப்பு தேவைகளைப் பூர்த்தி செய்ய ஆற்று மணல் சுரங்கத்தை ஊக்குவித்தல்.  
 (iv) கட்டுமானம் மற்றும் இடிப்பு கழிவுகளில் இருந்து திரட்டுகளை மறுசுழற்சி செய்தல்.

**TNPSC**

**GROUP**

**IV**

**II/IIA**

**PRELIMS/MAINS**



**CLASSES**



**TEST**



**MATERIAL**

**OFFLINE  
ONLINE**

**STARTS FROM FEBRUARY 11TH**

- SYLLABUS BASED
- WORKSHEET FOR EACH CLASS
- MATERIALS IN TAMIL / ENGLISH
- SPECIAL FOCUS ON CURRENT AFFAIRS
- FEES PRELIMS -10,000 - PCM - 18,000

**CHENNAI/SANKARANLOVIL/TENKASI**

**OFFLINE SANKARANKOVIL(BRANCH) ONLY  
FOR ADMISSION**

**9952521550 - 9840281550**

- (A) (i) மற்றும் (ii) மட்டும்  
 (B) (ii) மற்றும் (iv) மட்டும்  
 (C) (iii) மட்டும்  
 (D) (i), (ii) மற்றும் (iii) மட்டும்  
 (E) பதில் தெரியவில்லை

88. Consider the following statements about Tamil Nadu's ports:

- (1) Ennore Port primarily handles bulk cargo like coal and ore.  
 (2) Chennai Port is a leader in automobile exports.  
 (3) Tuticorin Port is India's second-largest container-handling port.

Choose the correct answer:

- (A) 1 and 2 only  
 (B) 1 and 3 only  
 (C) 2 and 3 only  
 (D) 1, 2, and 3  
 (E) Answer not known

தமிழ்நாட்டின் துறைமுகங்கள் பற்றிய பின்வரும் கூற்றுகளைக் கவனியுங்கள்:

- (1) எண்ணூர் துறைமுகம் முக்கியமாக நிலக்கரி மற்றும் தாது போன்ற மொத்த சரக்குகளை கையாள்கிறது.  
 (2) சென்னை துறைமுகம் வாகன ஏற்றுமதியில் முன்னணியில் உள்ளது.  
 (3) தூத்துக்குடி துறைமுகம் இந்தியாவின் இரண்டாவது பெரிய கொள்கலன்களை கையாளும் துறைமுகமாகும்.

சரியான பதிலைத் தேர்ந்தெடுக்கவும்:

- (A) 1 மற்றும் 2 மட்டும்  
 (B) 1 மற்றும் 3 மட்டும்  
 (C) 2 மற்றும் 3 மட்டும்  
 (D) 1, 2, மற்றும் 3  
 (E) பதில் தெரியவில்லை

89. Which of the following is a major invasive species affecting Tamil Nadu's ecosystems?

- (A) Prosopis juliflora  
 (B) Teak  
 (C) Cycas circinalis  
 (D) Bamboo  
 (E) Answer not known

தமிழ்நாட்டின் சுற்றுச்சூழல் அமைப்புகளை பாதிக்கும் முக்கிய ஆக்கிரமிப்பு இனங்களில் பின்வருவது எது?

- (A) புரோசோபிஸ் ஜூலிஃப்ளோரா  
 (B) தேக்கு  
 (C) சைகாஸ் சர்க்கினாலிஸ்  
 (D) மூங்கில்  
 (E) பதில் தெரியவில்லை

90. Which of the following is NOT a feature of the Arittapatti Biodiversity Heritage Site?

- (A) Presence of ancient Tamil Brahmi inscriptions  
 (B) Habitat for the Lion-tailed Macaque  
 (C) Rock-cut temples dating back 2,200 years  
 (D) Rich watershed and natural springs  
 (E) Answer not known

பின்வருவனவற்றில் எது அரிட்டாபட்டி பல்லுயிர் பாரம்பரிய தளத்தின் அம்சம் அல்ல?

- (A) பண்டைய தமிழ் பிராமி கல்வெட்டுகள் இருப்பது  
 (B) சிங்கவால் குரங்குகளுக்கான வாழ்விடம்  
 (C) 2,200 ஆண்டுகள் பழமையான குடைவரை கோவில்கள்



- (D) வளமான நீர்நிலை மற்றும் இயற்கை நீரூற்றுக்கள்  
(E) பதில் தெரியவில்லை

91. Which one of the following pairs is wrongly matched?

Disaster Type	Impact
(I) Cyclone Vardah	- Impacted Kanyakumari region
(II) Cyclone Gaja	- Central Tamil Nadu
(III) Cyclone Nivar	- Chennai coastal districts
(IV) Cyclone Burevi	- Gulf of Mannar region

- (A) (I) only  
(B) (II) and (III) only  
(C) (I) and (IV) only  
(D) (III) only  
(E) Answer not known

பின்வரும் ஜோடிகளில் எது தவறாகப் பொருந்தியுள்ளது?

- பேரழிவு வகை | தாக்கம்  
(I) வர்தா புயல் - கன்னியாகுமரி பகுதியை பாதித்தது  
(II) கஜா புயல் - மத்திய தமிழ்நாடு  
(III) நிவர் புயல் - சென்னை கடலோர மாவட்டங்கள்  
(IV) புரேவி புயல் - மன்னார் வளைகுடா பகுதி

- (A) (I) மட்டும்  
(B) (II) மற்றும் (III) மட்டும்  
(C) (I) மற்றும் (IV) மட்டும்  
(D) (III) மட்டும்  
(E) பதில் தெரியவில்லை

92. TNSAPCC 2.0 was formulated to:

- (A) Address climate change adaptation only  
(B) Align with India's Nationally Determined Contributions  
(C) Focus on mitigation strategies exclusively  
(D) Implement coastal zone regulations  
(E) Answer not known

TNSAPCC 2.0 எதற்காக உருவாக்கப்பட்டது:

- (A) காலநிலை மாற்ற தழுவலை மட்டும் நிவர்த்தி செய்ய  
(B) இந்தியாவின் தேசிய அளவில் நிர்ணயிக்கப்பட்ட பங்களிப்புகளுடன் ஒத்துப்போக  
(C) தணிப்பு உத்திகளில் மட்டும் கவனம் செலுத்த  
(D) கடலோர மண்டல விதிமுறைகளை செயல்படுத்த  
(E) பதில் தெரியவில்லை

93. Which of the following statements about PCR (Polymerase Chain Reaction) is INCORRECT?

- (i) PCR is used to amplify a specific DNA sequence.  
(ii) PCR requires a thermostable DNA polymerase.  
(iii) PCR is used to separate DNA fragments by size.  
(iv) PCR is used to determine the order of bases in DNA.

- (A) (i) and (ii) only  
(B) (iii) and (iv) only  
(C) (iii) only  
(D) (ii) and (iv) only  
(E) Answer not known

PCR (பாலிமரேஸ் சங்கிலி எதிர்வினை) பற்றிய பின்வரும் கூற்றுகளில் எது தவறானது?

- (i) PCR ஒரு குறிப்பிட்ட DNA வரிசையை அதிகரிக்க பயன்படுகிறது.  
(ii) PCR க்கு வெப்பநிலையைத் தாங்கும் DNA பாலிமரேஸ் தேவை.  
(iii) PCR என்பது DNA துண்டுகளை அளவின் அடிப்படையில் பிரிக்க பயன்படுகிறது.

- (iv) PCR என்பது DNA இல் உள்ள காரங்களின் வரிசையை தீர்மானிக்க பயன்படுகிறது.  
 (A) (i) மற்றும் (ii) மட்டும்  
 (B) (iii) மற்றும் (iv) மட்டும்  
 (C) (iii) மட்டும்  
 (D) (ii) மற்றும் (iv) மட்டும்  
 (E) பதில் தெரியவில்லை

94. Arrange the following steps in order of their use during IVF:

- (1) Fertilization  
 (2) Egg Retrieval  
 (3) Embryo Transfer  
 (4) Ovarian Stimulation  
 (A) 4-2-1-3  
 (B) 1-2-3-4  
 (C) 3-4-2-1  
 (D) 4-3-2-1  
 (E) Answer not known

IVF இன் போது பயன்படுத்தப்படும் பின்வரும் படிகளை வரிசைப்படுத்துக:

- (1) கருத்தரித்தல்  
 (2) முட்டை மீட்டெடுப்பு  
 (3) கரு பரிமாற்றம்  
 (4) கருப்பை தூண்டுதல்  
 (A) 4-2-1-3  
 (B) 1-2-3-4  
 (C) 3-4-2-1  
 (D) 4-3-2-1  
 (E) பதில் தெரியவில்லை

95. Which among the following scientists from Tamil Nadu is NOT primarily known for their contributions to physics?

- (A) Sir C.V. Raman  
 (B) Dr. A.P.J. Abdul Kalam  
 (C) G.N. Ramachandran  
 (D) Subrahmanyan Chandrasekhar  
 (E) Answer not known

பின்வரும் எந்த தமிழ்நாட்டைச் சேர்ந்த விஞ்ஞானி இயற்பியலில் அவர்களின் பங்களிப்புகளுக்காக முக்கியமாக அறியப்படவில்லை?

- (A) சர் சி.வி. ராமன்  
 (B) டாக்டர். ஏ.பி.ஜே. அப்துல் கலாம்  
 (C) ஜி.என். ராமச்சந்திரன்  
 (D) சுப்பிரமணியன் சந்திரசேகர்  
 (E) பதில் தெரியவில்லை

96. Match the Following:

List I (Network Topology)

List II (Description)

- |                   |  |  |
|-------------------|--|--|
| (a) Bus Topology  |  | 1. All devices connected to a central hub        |
| (b) Star Topology |  | 2. Devices connected in a circular manner        |
| (c) Ring Topology |  | 3. All devices connected to a single cable       |
| (d) Mesh Topology |  | 4. Devices are interconnected through many paths |

- (A) (a)-(3), (b)-(1), (c)-(2), (d)-(4)  
 (B) (a)-(1), (b)-(4), (c)-(2), (d)-(3)  
 (C) (a)-(4), (b)-(1), (c)-(3), (d)-(2)  
 (D) (a)-(2), (b)-(3), (c)-(1), (d)-(4)  
 (E) Answer not known

பின்வருவனவற்றைப் பொருத்துக:

பட்டியல் I (பிணைய இடவியல்) | பட்டியல் II (விளக்கம்)

(a) பஸ் டோபாலஜி | 1. அனைத்து சாதனங்களும் ஒரு மைய மையத்துடன் இணைக்கப்பட்டுள்ளன

(b) ஸ்டார் டோபாலஜி | 2. சாதனங்கள் வட்ட வடிவத்தில் இணைக்கப்பட்டுள்ளன

(c) ரிங் டோபாலஜி | 3. அனைத்து சாதனங்களும் ஒரு கேபிளுடன் இணைக்கப்பட்டுள்ளன

(d) மெஷ் டோபாலஜி | 4. சாதனங்கள் பல பாதைகள் மூலம் ஒன்றோடொன்று இணைக்கப்பட்டுள்ளன

(A) (a)-(3), (b)-(1), (c)-(2), (d)-(4)

(B) (a)-(1), (b)-(4), (c)-(2), (d)-(3)

(C) (a)-(4), (b)-(1), (c)-(3), (d)-(2)

(D) (a)-(2), (b)-(3), (c)-(1), (d)-(4)

(E) பதில் தெரியவில்லை

97. Arrange the following in order of data storage capacity from smallest to largest:

(1) CD

(2) HDD

(3) SSD

(A) 1-2-3

(B) 1-3-2

(C) 2-1-3

(D) 3-2-1

(E) Answer not known

பின்வருவனவற்றை சிறிய அளவிலிருந்து பெரிய அளவிலான தரவு சேமிப்பு திறன் வரிசையில் அடுக்கவும்:

(1) சிடி

(2) எச்டிடி

(3) எஸ்எஸ்டி

(A) 1-2-3

(B) 1-3-2

(C) 2-1-3

(D) 3-2-1

(E) பதில் தெரியவில்லை

98. Which of the following statements about vaccines is INCORRECT?

(i) Vaccines work by stimulating the body's immune response.

(ii) Vaccines can only prevent bacterial infections.

(iii) Vaccines can provide long-term immunity.

(iv) Vaccines can contain weakened or inactive forms of a pathogen.

(A) (i) and (ii) only

(B) (ii) only

(C) (iii) and (iv) only

(D) (ii) and (iii) only

(E) Answer not known

தடுப்பூசிகள் பற்றிய பின்வரும் கூற்றுகளில் எது தவறானது?

(i) தடுப்பூசிகள் உடலின் நோயெதிர்ப்பு சக்தியைத் தூண்டுவதன் மூலம் செயல்படுகின்றன.

(ii) தடுப்பூசிகள் பாக்டீரியா தொற்றுகளை மட்டுமே தடுக்க முடியும்.

(iii) தடுப்பூசிகள் நீண்ட கால நோய் எதிர்ப்பு சக்தியை வழங்க முடியும்.

(iv) தடுப்பூசிகளில் பலவீனமான அல்லது செயலற்ற நோய்க்கிருமிகள் இருக்கலாம்.

(A) (i) மற்றும் (ii) மட்டும்

(B) (ii) மட்டும்

(C) (iii) மற்றும் (iv) மட்டும்

(D) (ii) மற்றும் (iii) மட்டும்

(E) பதில் தெரியவில்லை

99. Find the mismatched pair:

- (A) DNA – Double helix structure
- (B) Insulin – Hormone regulating blood sugar
- (C) Water – Polar molecule
- (D) Graphite – Insulator of electricity
- (E) Answer not known

பொருந்தாத ஜோடியைக் கண்டுபிடிக்கவும்:

- (A) DNA - இரட்டை ஹெலிக்ஸ் அமைப்பு
- (B) இன்சலின் - இரத்த சர்க்கரையை ஒழுங்குபடுத்தும் ஹார்மோன்
- (C) நீர் - துருவ மூலக்கூறு
- (D) கிராஃபைட் - மின்சாரத்தின் காப்புப் பொருள்
- (E) பதில் தெரியவில்லை

100. Which among the following is NOT a challenge associated with the use of Generative AI?

- (A) Misinformation and deepfakes
- (B) Bias in generated outputs
- (C) Plagiarism and copyright infringement
- (D) Guaranteed perfectly accurate responses
- (E) Answer not known

பின்வருவனவற்றில் எது ஜெனரேட்டிவ் AI பயன்பாட்டுடன் தொடர்புடைய சவால் அல்ல?

- (A) தவறான தகவல் மற்றும் டிப்ஃபேக்குகள்
- (B) உருவாக்கப்பட்ட வெளியீடுகளில் சார்பு
- (C) காப்புரிமை மீறல்
- (D) சரியான பதில்கள் உத்தரவாதம்
- (E) பதில் தெரியவில்லை

101. Select the option that is related to the third term in the same way as the second term is related to the first term.

Jute : Sack : Wood : ?

- A) Furniture
- B) Brown
- C) Plastic
- D) Hard
- E) Answer not known

இரண்டாவது டெர்ம் முதல் டெர்முடன் தொடர்புடையது போலவே மூன்றாவது டெர்முடன் தொடர்புடைய விருப்பத்தைத் தேர்ந்தெடுக்கவும்.

சணல் : சாக்கு : மரம் : ?

- A) தளபாடங்கள்
- B) பழுப்பு
- C) பிளாஸ்டிக்
- D) கடினமானது
- E) பதில் தெரியவில்லை

102. Six buses B1, B2, B3, B4, B5 and B6 are parked around a circular path (not necessarily in the same order). B3 is third to the right of B6. B4 is to the immediate left of B1. B2 is second to the left of B6. How many buses are between B5 and B1?

- A) 0
- B) 1
- C) 3
- D) 2
- E) Answer not known

B1, B2, B3, B4, B5 மற்றும் B6 ஆகிய ஆறு பேருந்துகள் ஒரு வட்டப் பாதையைச் சுற்றி நிறுத்தப்பட்டுள்ளன (அதே வரிசையில் அவசியமில்லை). B3 ஆனது B6 இன் வலதுபுறத்தில் மூன்றாவது இடத்தில் உள்ளது. B4 என்பது B1 இன் உடனடி இடதுபுறத்தில் உள்ளது. B2 B6 க்கு இடதுபுறத்தில் இரண்டாவது. B5 மற்றும் B1 இடையே எத்தனை பேருந்துகள் உள்ளன?

- A) 0
- B) 1
- C) 3
- D) 2
- E) பதில் தெரியவில்லை



103. In the following question, select the number which can be placed at the sign of question mark (?) from the given alternatives.

5 9 6 3 9

3 11 7 26

8 5 4 ?

A) 48

B) 44

C) 36

D) 34

E) Answer not known

பின்வரும் கேள்வியில், கொடுக்கப்பட்ட மாற்றுகளில் இருந்து கேள்விக்குறியின் (?) அடையாளத்தில் வைக்கக்கூடிய எண்ணைத் தேர்ந்தெடுக்கவும்.

5 9 6 3 9

3 11 7 26

8 5 4 ?

A) 48

B) 44

C) 36

D) 34

E) பதில் தெரியவில்லை

104. In a certain code language, 'WINDOW' is written as 'TLAKFT'. What is the code for 'BLADES' in that code language?

A) QCBYJZ

B) PBBXIY

C) PBAXIY

D) QBBYJZ

E) Answer not known

ஒரு குறியிட்ட குறியீட்டு மொழியில், 'WINDOW' என்பது 'TLAKFT' என எழுதப்படுகிறது. அந்த குறியீட்டு மொழியில் 'BLADES' க்கான குறியீடு என்ன?

A) QCBYJZ

b) PBBXIY

C) PBAXIY

D) QBBYJZ

E) பதில் தெரியவில்லை

105. In a certain code language, 'ROAM' is written as '44', 'HIMP' is written as '43'. What is the code for 'BONE' in that code language?

A) 33

B) 34

C) 39

D) 36

E) Answer not known

ஒரு குறியிட்ட குறியீட்டு மொழியில், 'ROAM' என்பது '44' என்றும், 'HIMP' என்பது '43' என்றும் எழுதப்பட்டுள்ளது. அந்த குறியீட்டு மொழியில் 'BONE' க்கான குறியீடு என்ன?

A) 33

B) 34

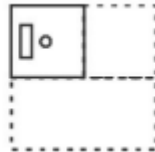
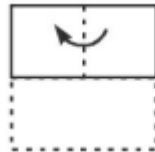
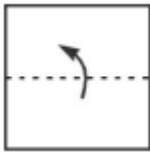
C) 39

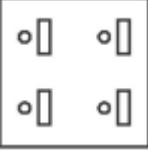
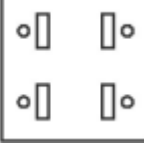
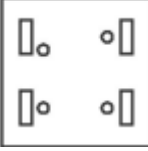
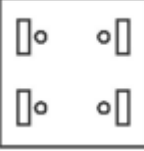
D) 36

E) பதில் தெரியவில்லை

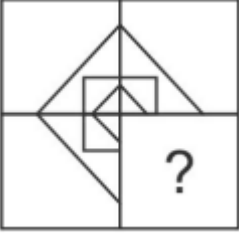
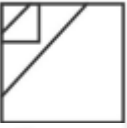
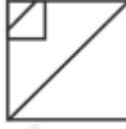


106. A piece of paper is folded and punched as shown below in the question figures. From the given answer figures, indicate how it will appear when opened?

கேள்விப் புள்ளிவிவரங்களில் கீழே காட்டப்பட்டுள்ளபடி ஒரு துண்டு காகிதம் மடித்து குத்தப்படுகிறது. கொடுக்கப்பட்ட பதில் புள்ளிவிவரங்களிலிருந்து, திறக்கும் போது அது எவ்வாறு தோன்றும்?



- A) 
- B) 
- C) 
- D) 
- E) Answer not known /  
பதில் தெரியவில்லை

107. Which answer figure will complete the pattern in the question figure?  
கேள்விப் படத்தில் உள்ள வடிவத்தை எந்தப் பதில் எண்ணிக்கை நிறைவு செய்யும்?

- 
- A) 
- B) 
- C) 
- D) 
- E) Answer not known /  
பதில் தெரியவில்லை

108. Select the option that is related to the third Letter Cluster in the same way as the second Letter Cluster is related to the first Letter Cluster.

ROAD : TREI :: MINT : ?

- A) OMRV  
B) PMSZ  
C) PNSZ  
D) OLRV  
E) Answer not known

இரண்டாவது லெட்டர் கிளஸ்டர் முதல் லெட்டர் கிளஸ்டருடன் தொடர்புடையது போல் மூன்றாவது லெட்டர் கிளஸ்டருடன் தொடர்புடைய விருப்பத்தைத் தேர்ந்தெடுக்கவும்.

ROAD: TREI:: MINT:?

- A) OMRV  
B) PMSZ  
C) PNSZ  
D) OLRV  
E) பதில் தெரியவில்லை

109. Select the letter-pair that can replace the question mark (?) in the following series.

RD, XJ, DP, JV, ?

- A) QC  
B) PB  
C) PC  
D) QB  
E) Answer not known

பின்வரும் தொடரில் கேள்விக்குறியை (?) மாற்றக்கூடிய எழுத்து-ஜோடியைத் தேர்ந்தெடுக்கவும்.

RD, XJ, DP, JV , ?

- A) QC B) PB  
C) PC D) QB  
E) பதில் தெரியவில்லை

110. After interchanging which two numbers, the value of given equation will be '4'?

$$6 + 3 \div 9 \times 7 - 5$$

- A) 7 and 6 B) 3 and 5  
C) 5 and 6 D) 9 and 5  
E) Answer not known

எந்த இரண்டு எண்களை மாற்றிய பின், கொடுக்கப்பட்ட சமன்பாட்டின் மதிப்பு '4' ஆக இருக்கும்?

$$6 + 3 \div 9 \times 7 - 5$$

- A) 7 மற்றும் 6 B) 3 மற்றும் 5  
C) 5 மற்றும் 6 D) 9 மற்றும் 5  
E) பதில் தெரியவில்லை

111. In a certain code language, 'PENCIL' is written as 'RIPGKP'. What is the code for 'FABRIC' in that code language?

- A) HFDVKG B) HEDVKG  
C) IEFWLH D) IFEWLH  
E) Answer not known

ஒரு குறியிட்ட குறியீட்டு மொழியில், 'PENCIL' 'RIPGKP' என எழுதப்பட்டுள்ளது. அந்த குறியீட்டு மொழியில் 'FABRIC'க்கான குறியீடு என்ன?

- A) HFDVKG B) ஹெட்விக்கேஜி  
C) IEFWLH D) IFEWLH  
E) பதில் தெரியவில்லை

112. Select the number that can replace the question mark (?) in the following series.

600, 120, 30, 10, 5, ?

- A) 4 B) 5  
C) 3 D) 2  
E) Answer not known

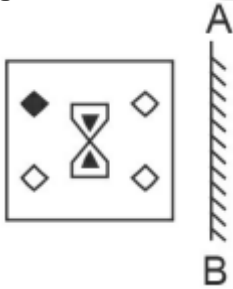
பின்வரும் தொடரில் கேள்விக்குறியை (?) மாற்றக்கூடிய எண்ணைத் தேர்ந்தெடுக்கவும்.

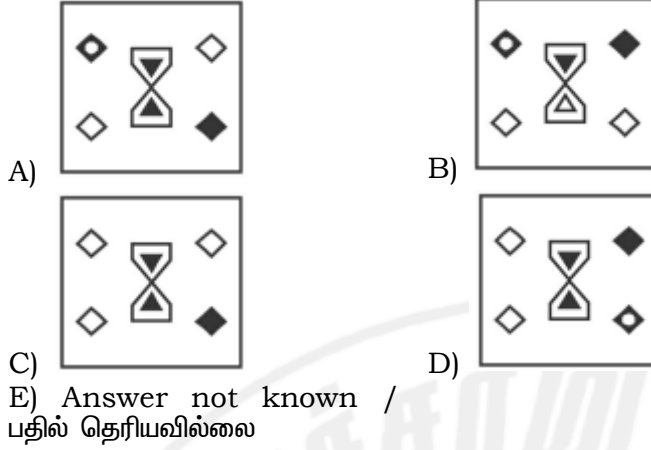
600, 120, 30, 10, 5, ?

- A) 4 B) 5  
C) 3 D) 2  
E) பதில் தெரியவில்லை

113. If a mirror is placed on the line AB, then which of the answer figures is the right image of the given figure?

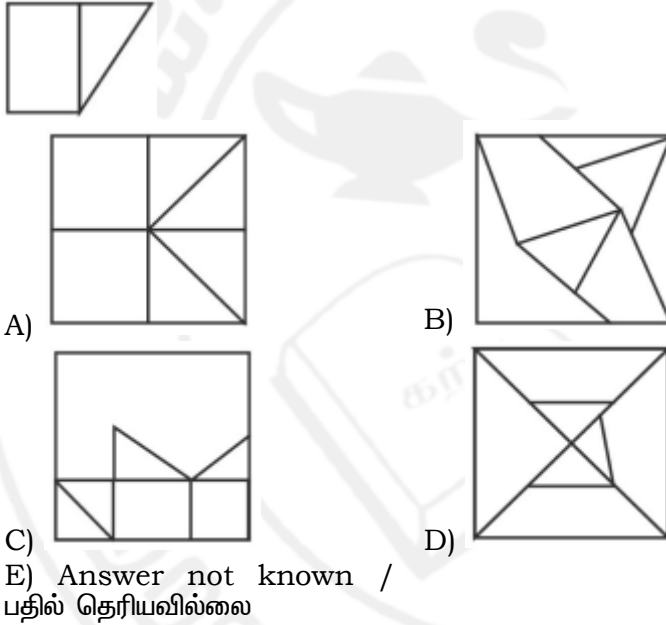
AB என்ற வரியில் ஒரு கண்ணாடி வைக்கப்பட்டால், கொடுக்கப்பட்ட உருவத்தின் சரியான படம் எது?





114. From the given answer figures, select the one in which the question figure is hidden/embedded.

கொடுக்கப்பட்ட பதில் புள்ளிவிவரங்களிலிருந்து, கேள்வி உருவம் மறைக்கப்பட்ட/உட்பொதிக்கப்பட்ட ஒன்றைத் தேர்ந்தெடுக்கவும்

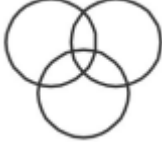


115. Identify the Venn diagram that best represents the relationship between the given classes.

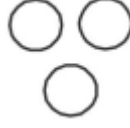
Producer, Director, Actor  
கொடுக்கப்பட்ட வகுப்புகளுக்கு இடையிலான உறவை சிறப்பாகக் குறிக்கும் வெள் வரைபடத்தைக் கண்டறியவும்.  
தயாரிப்பாளர், இயக்குனர், நடிகர்







- C)  
E) Answer not known /  
பதில் தெரியவில்லை



D)

116. In a certain code language, 'PAL' is written as '29', 'CAR' is written as '22'. What is the code for 'ZON' in that code language?

- A) 43  
B) 45  
C) 55  
D) 51  
E) Answer not known

ஒரு குறிப்பிட்ட குறியீட்டு மொழியில், 'PAL' என்பது '29' என்றும், 'CAR' என்பது '22' என்றும் எழுதப்பட்டுள்ளது. அந்த குறியீட்டு மொழியில் 'ZON'க்கான குறியீடு என்ன?

- A) 43  
B) 45  
C) 55  
D) 51  
E) பதில் தெரியவில்லை

117. Select the option that is related to the third term in the same way as the second term is related to the first term.

Film : Producer :: Poem : ?

- A) Director  
B) Actor  
C) Poet  
D) Cobbler  
E) Answer not known

இரண்டாவது டெர்ம் முதல் டெர்முடன் தொடர்புடையது போலவே மூன்றாவது டெர்முடன் தொடர்புடைய விருப்பத்தைத் தேர்ந்தெடுக்கவும்.

படம் : தயாரிப்பாளர் :: கவிதை : ?

- A) இயக்குனர்  
B) நடிகர்  
C) கவிஞர்  
D) செருப்பு தைப்பவர்  
E) பதில் தெரியவில்லை

118. Select the option that is related to the third number in the same way as the second number is related to the first number.

596 : 965 :: 824 : ?

- A) 248  
B) 408  
C) 418  
D) 258  
E) Answer not known

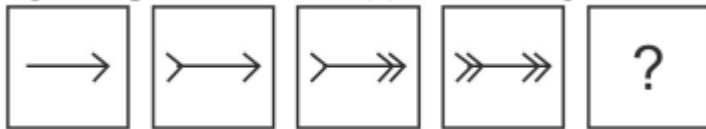
இரண்டாவது எண் முதல் எண்ணுடன் தொடர்புடையது போலவே மூன்றாவது எண்ணுடன் தொடர்புடைய விருப்பத்தைத் தேர்ந்தெடுக்கவும்.

596 : 965 :: 824 : ?

- A) 248  
B) 408  
C) 418  
D) 258  
E) பதில் தெரியவில்லை

119. In the following question, select the figure which can be placed at the sign of question mark (?) from the given alternatives.

பின்வரும் கேள்வியில், கொடுக்கப்பட்ட மாற்றுகளில் இருந்து கேள்விக்குறியின் (?) அடையாளத்தில் வைக்கக்கூடிய உருவத்தைத் தேர்ந்தெடுக்கவும்





# IYACHAMY ACADEMY



## GROUP -1 2025

# THADAI ATHAI UDAI PRELIMS TEST SERIES

## BATCH -2

## SYLLABUS / TREND BASED

### Get Exclusive Current Affairs for Prelims | Mains

## STRUCTURE

### 100 TESTS

TEST FOR ONLINE 5000  
TEST FOR OFFLINE 6000

TEST & MATERIAL ONLINE 10000  
TEST & MATERIAL PRINTED 11000

### ONLINE|OFFLINE

## STARTS FROM FEBRUARY 11

IYACHAMY ACADEMY

NO 173 3RD , FLOOR

THIRUGNANASAMBANDAR STREET

ANNA NAGAR CHENNAI- 40

9952521550

IYACHAMY ACADEMY

SHIFA OPTICALS UPSTAIRS

NORTH CAR STREET

SANKARANKOVIL

7338884555

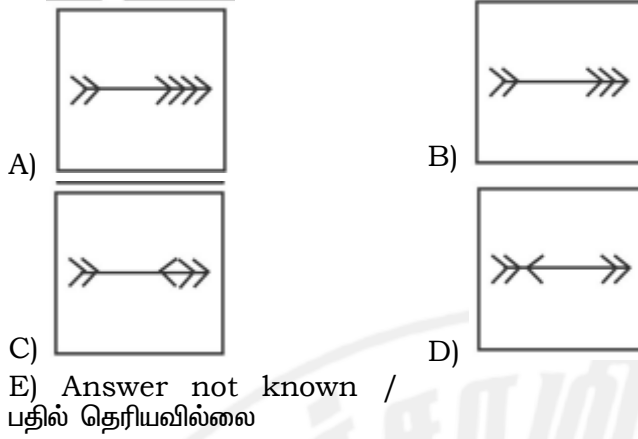
IYACHAMY ACADEMY

KRISHNA BAKKERY UPSTAIRS

SWAMY SANNATHI

TENKASI

9786947055



120. In the following question below are given some statements followed by some conclusions based on those statements. Taking the given statements to be true even if they seem to be at variance from commonly known facts. Read all the conclusions and then decide which of the given conclusion logically follows the given statements.

Statements:

I. Some pen are sharpener.

II. All pen are pencil.

Conclusions:

I. Some pencil are pen.

II. All sharpener are pen.

A) Both conclusion I and II follows.

B) Only conclusion I follows.

C) Neither conclusion follow.

D) Only conclusion II follows.

E) Answer not known

பின்வரும் கேள்வியில் சில அறிக்கைகள் கொடுக்கப்பட்டுள்ளன, அதைத் தொடர்ந்து அந்த அறிக்கைகளின் அடிப்படையில் சில முடிவுகள் கொடுக்கப்பட்டுள்ளன. பொதுவாக அறியப்பட்ட உண்மைகளிலிருந்து மாறுபட்டதாகத் தோன்றினாலும் கொடுக்கப்பட்ட அறிக்கைகளை உண்மையாகக் கருதுதல். அனைத்து முடிவுகளையும் படித்து, கொடுக்கப்பட்ட அறிக்கைகளில் எது தர்க்கரீதியாக பின்பற்றப்படுகிறது என்பதை முடிவு செய்யுங்கள்.

அறிக்கைகள்:

I. சில பேனாக்கள் கூர்மையானவை.

II. அனைத்து பேனாவும் பென்சில்.

முடிவுகள்:

I. சில பென்சில்கள் பேனா.

II. அனைத்து ஷார்பனர்களும் பேனா.

A) I மற்றும் II இரண்டு முடிவுகளும் பின்வருமாறு.

B) நான் பின்பற்றும் முடிவு மட்டுமே.

C) எந்த முடிவும் பின்பற்றவில்லை.

D) முடிவு II மட்டுமே பின்வருமாறு.

E) பதில் தெரியவில்லை

121. Five chairs J, H, P, S and M are placed in a row facing towards east (Not necessarily in the same order). P is second to the left of S. J is second to the right of H. M is to the immediate right of S. Which of the following is the correct position of J?

A) Third to the left of M

B) Second to the right of H

C) Exactly between S and H

- D) To the immediate right of S  
 E) Answer not known  
 J, H, P, S மற்றும் M ஆகிய ஐந்து நாற்காலிகள் கிழக்கு நோக்கி ஒரு வரிசையில் வைக்கப்பட்டுள்ளன (அதே வரிசையில் அவசியமில்லை). P என்பது S. J க்கு இடப்பறம் இரண்டாவது, H  
 A) மூன்றாவது இடப்பறம் M  
 B) H இன் வலதுபுறத்தில் இரண்டாவது  
 C) சரியாக S மற்றும் H இடையே  
 D) உடனடியாக வலதுபுறம் S  
 E) பதில் தெரியவில்லை

122. Five toys A, B, C, D and E are kept one above the other (not necessarily in the same order). A is four places above C. D is between B and E. E is three places below A.

Three of the given four options follows a same logic based on their arrangement. Which of the following does not follow that logic?

- A) B D  
 B) D E  
 C) E C  
 D) A C

E) Answer not known

A, B, C, D மற்றும் E ஆகிய ஐந்து பொம்மைகள் ஒன்றன் மேல் ஒன்றாக வைக்கப்பட்டுள்ளன (ஒரே வரிசையில் அவசியமில்லை). A என்பது C. மேலே நான்கு இடங்கள். D என்பது B மற்றும் E. E என்பது A க்கு கீழே மூன்று இடங்கள்.

கொடுக்கப்பட்ட நான்கு விருப்பங்களில் மூன்று அவற்றின் ஏற்பாட்டின் அடிப்படையில் ஒரே தர்க்கத்தைப் பின்பற்றுகின்றன. பின்வருவனவற்றில் எது அந்த தர்க்கத்தைப் பின்பற்றவில்லை?

- A) B D  
 B) D E  
 C) E C  
 D) A C

E) பதில் தெரியவில்லை

123. In the following question below are given some statements followed by some conclusions based on those statements. Taking the given statements to be true even if they seem to be at variance from commonly known facts. Read all the conclusions and then decide which of the given conclusion logically follows the given statements.

Statements:

- I. All L are B.  
 II. No T is L.  
 III. Some R are T

Conclusions:

- I. Some T are R.  
 II. No B is T.  
 III. No L is T.  
 A) Only conclusion I follows.  
 B) Only conclusion II follows.  
 C) Both conclusion I and III follows.  
 D) Both conclusion II and III follows.

E) Answer not known

பின்வரும் கேள்வியில் சில அறிக்கைகள் கொடுக்கப்பட்டுள்ளன, அதைத் தொடர்ந்து அந்த அறிக்கைகளின் அடிப்படையில் சில முடிவுகள் கொடுக்கப்பட்டுள்ளன. பொதுவாக அறியப்பட்ட உண்மைகளிலிருந்து மாறுபட்டதாகத் தோன்றினாலும் கொடுக்கப்பட்ட அறிக்கைகளை உண்மையாகக் கருதுதல். அனைத்து முடிவுகளையும் படித்து, கொடுக்கப்பட்ட அறிக்கைகளில் எது தர்க்கரீதியாக பின்பற்றப்படுகிறது என்பதை முடிவு செய்யுங்கள்.

அறிக்கைகள்:

- I. அனைத்து Lகளும் B.  
 II. T இல்லை L.



III. சில R T

முடிவுகள்:

I. சில T R.

II. இல்லை B என்பது T.

III. L என்பது T.

A) நான் பின்பற்றும் முடிவு மட்டுமே.

B) முடிவு II மட்டுமே பின்வருமாறு.

C) I மற்றும் III ஆகிய இரண்டு முடிவுகளும் பின்வருமாறு.

D) II மற்றும் III இரண்டு முடிவுகளும் பின்வருமாறு.

E) பதில் தெரியவில்லை

124. By interchanging the given two signs which of the following equation will be incorrect?

÷ and +

A)  $12 \div 9 \times 31 + 3 = 105$

B)  $7 \times 16 + 4 \div 5 = 33$

C)  $9 \div 11 + 11 \times 2 = 9$

D)  $6 \times 11 + 2 \div 5 = 38$

E) Answer not known

கொடுக்கப்பட்ட இரண்டு அறிகுறிகளை மாற்றுவதன் மூலம் பின்வரும் எந்த சமன்பாடு தவறாக இருக்கும்?

÷ மற்றும் +

A)  $12 \div 9 \times 31 + 3 = 105$

B)  $7 \times 16 + 4 \div 5 = 33$

C)  $9 \div 11 + 11 \times 2 = 9$

D)  $6 \times 11 + 2 \div 5 = 38$

E) பதில் தெரியவில்லை

125. In the following question, select the missing number from the given series.

17, 31, 47, 65, ?

A) 87

B) 89

C) 85

D) 83

E) Answer not known

பின்வரும் கேள்வியில், கொடுக்கப்பட்ட தொடரிலிருந்து விடுபட்ட எண்ணைத் தேர்ந்தெடுக்கவும்.

17, 31, 47, 65, ?

A) 87

B) 89

C) 85

D) 83

E) பதில் தெரியவில்லை

126. In the following question, select the number which can be placed at the sign of question mark (?) from the given alternatives.

பின்வரும் கேள்வியில், கொடுக்கப்பட்ட மாற்றுகளில் இருந்து கேள்விக்குறியின் (?)

அடையாளத்தில் வைக்கக்கூடிய எண்ணைத் தேர்ந்தெடுக்கவும்

3	5	2	32
6	2	3	38
4	3	5	?

A) 36

B) 62

C) 80

D) 84

E) Answer not known /

பதில் தெரியவில்லை

127. How many triangles are there in the given figure?

கொடுக்கப்பட்ட படத்தில் எத்தனை முக்கோணங்கள் உள்ளன?



- A) 5  
B) 6  
C) 7  
D) 8  
E) Answer not known /  
பதில் தெரியவில்லை

128. A word is represented by only one set of numbers as given in any one of the alternatives. The sets of numbers given in the alternatives are represented by two classes of alphabets as shown in the given two matrices. The columns and rows of Matrix-I are numbered from 0 to 4 and that of Matrix-II are numbered from 5 to 9. A letter from these matrices can be represented first by its row and next by its column, for example, 'Z' can be represented by 20, 97 etc. and 'Y' can be represented by 42, 79 etc. Similarly, you have to identify the set for the word "FRONT"

ஒரு சொல், மாற்றுகளில் ஏதேனும் ஒன்றில் கொடுக்கப்பட்டுள்ள எண்களின் தொகுப்பால் மட்டுமே குறிக்கப்படுகிறது. கொடுக்கப்பட்ட இரண்டு மெட்ரிக்ஸ்களில் காட்டப்பட்டுள்ளபடி, மாற்றுகளில் கொடுக்கப்பட்ட எண்களின் தொகுப்புகள் இரண்டு வகை எழுத்துக்களால் குறிப்பிடப்படுகின்றன. மெட்ரிக்ஸ்-I இன் நெடுவரிசைகள் மற்றும் வரிசைகள் 0 முதல் 4 வரையிலும், மெட்ரிக்ஸ்-II இன் வரிசைகள் 5 முதல் 9 வரையிலும் எண்ணப்பட்டுள்ளன. இந்த மெட்ரிக்ஸில் இருந்து ஒரு கடிதத்தை முதலில் அதன் வரிசையிலும் அடுத்த நெடுவரிசையிலும் குறிப்பிடலாம், எடுத்துக்காட்டாக, 'Z' என்பது 20, 97 போன்றவற்றால் குறிப்பிடப்படலாம் மற்றும் 'Y' ஐ 42, 79 போன்றவற்றால் குறிப்பிடலாம். அதேபோல், "FRONT" என்ற வார்த்தைக்கான தொகுப்பை நீங்கள் அடையாளம் காண வேண்டும்.

**Matrix-I**

	0	1	2	3	4
0	F	H	J	L	N
1	P	R	T	V	X
2	Z	B	D	G	E
3	K	M	O	Q	S
4	U	W	Y	A	C

**Matrix-II**

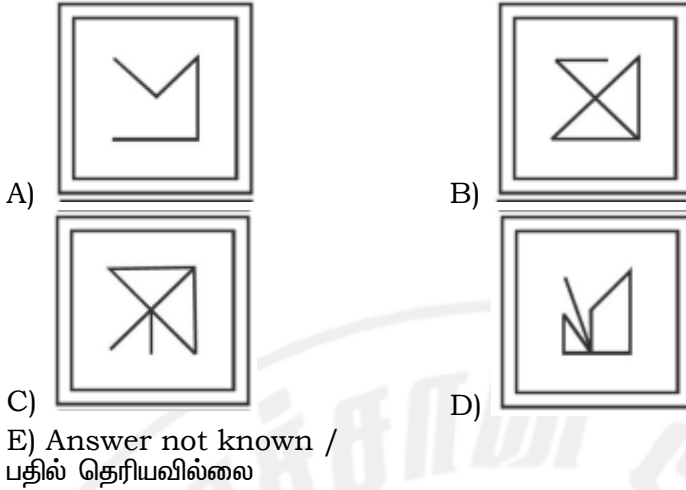
	5	6	7	8	9
5	N	P	I	K	B
6	L	E	R	M	A
7	J	T	D	O	Y
8	H	V	B	Q	W
9	F	X	Z	C	U

- A) 00, 11, 32, 04, 12  
B) 95, 67, 32, 55, 75  
C) 00, 31, 85, 03, 76  
D) 95, 11, 79, 55, 23  
E) Answer not known /  
பதில் தெரியவில்லை

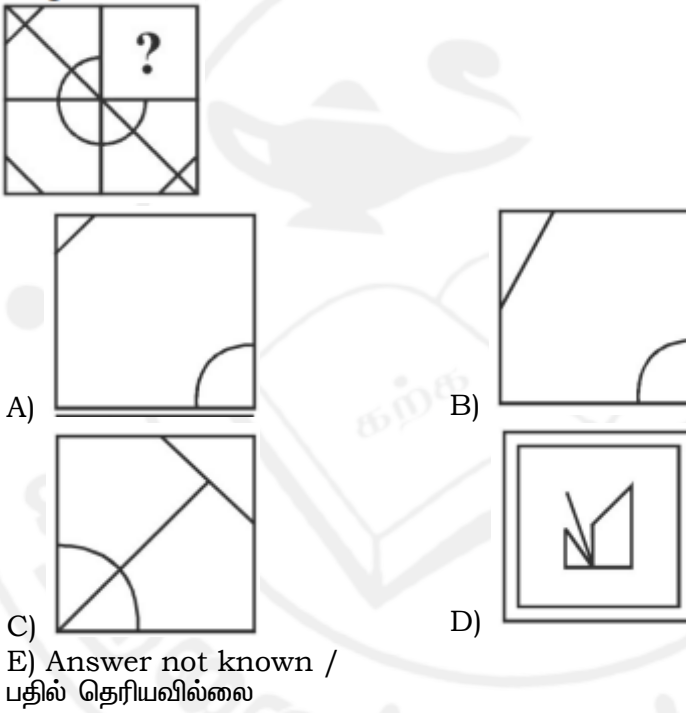
129. From the given answer figures, select the one in which the question figure is hidden/embedded.

கொடுக்கப்பட்ட பதில் புள்ளிவிவரங்களிலிருந்து, கேள்வி உருவம் மறைக்கப்பட்ட/உட்பொதிக்கப்பட்ட ஒன்றைத் தேர்ந்தெடுக்கவும்






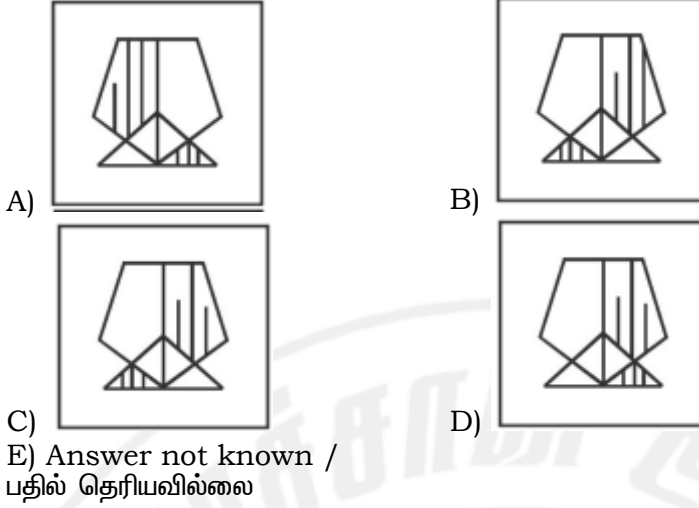
130. Which answer figure will complete the pattern in the question figure?  
கேள்விப் படத்தில் உள்ள வடிவத்தை எந்தப் பதில் எண்ணிக்கை நிறைவு செய்யும்?



131. If a mirror is placed on the line AB, then which of the answer figures is the right image of the given figure?

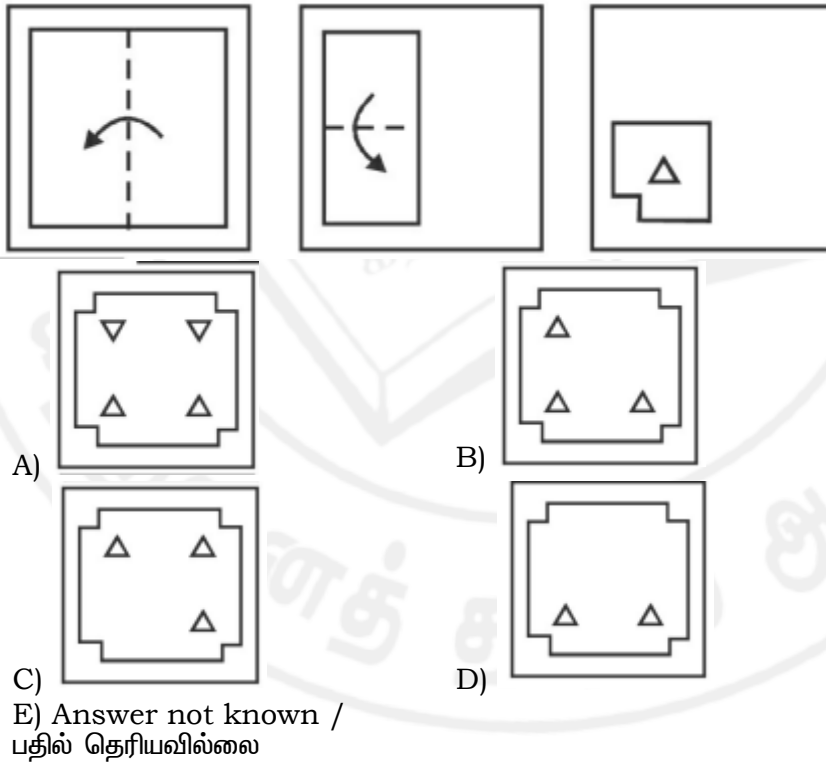
AB என்ற வரியில் ஒரு கண்ணாடி வைக்கப்பட்டால், கொடுக்கப்பட்ட உருவத்தின் சரியான படம் எது?





132. A piece of paper is folded and punched as shown below in the question figures. From the given answer figures, indicate how it will appear when opened?

கேள்விப் புள்ளிவிவரங்களில் கீழே காட்டப்பட்டுள்ளபடி ஒரு துண்டு காகிதம் மடித்து குத்தப்படுகிறது. கொடுக்கப்பட்ட பதில் புள்ளிவிவரங்களிலிருந்து, திறக்கும் போது அது எவ்வாறு தோன்றும்?



133. If 'x' means '+', '+' means 'x', '-' means '÷' and '÷' means '-', then which of the following equation is correct?

- A)  $12 - 3 \times 4 = 12$                       B)  $5 + 2 - 4 = 13/2$   
 C)  $49 \times 7 - 14 = 98/2$                 D)  $44 + 4 - 2 = 88$   
 E) Answer not known

'x' என்றால் '+', '+' என்றால் 'x', '-' என்றால் '÷' மற்றும் '÷' என்றால் '-' எனில், பின்வரும் சமன்பாடுகளில் எது சரியானது?



- A)  $12 - 3 \times 4 = 12$   
 C)  $49 \times 7 - 14 = 98/2$   
 E) பதில் தெரியவில்லை

- B)  $5 + 2 - 4 = 13/2$   
 D)  $44 + 4 - 2 = 88$

134. If  $3 \# 9 @ 4 = 3$  and  $4 \# 4 @ 4 = 2$ , then  $6 \# 4 @ 5 = ?$

- A) 3  
 C) 4  
 E) Answer not known

- B) 2  
 D) 1

$3 \# 9 @ 4 = 3$  மற்றும்  $4 \# 4 @ 4 = 2$  என்றால்,  $6 \# 4 @ 5 = ?$

- A) 3  
 C) 4  
 E) பதில் தெரியவில்லை

- B) 2  
 D) 1

135. Arrange the given words in the sequence in which they occur in the dictionary.

1. Viper
2. Vapour
3. Victory
4. Vacuum
5. Visit

- A) 42135  
 C) 24315

- B) 42315  
 D) 24135

E) Answer not known

கொடுக்கப்பட்ட சொற்களை அகராதியில் அவை வரும் வரிசையில் வரிசைப்படுத்தவும்.

1. வைப்பர்
2. நீராவி
3. வெற்றி
4. வெற்றிடம்
5. வருகை

- A) 42135  
 C) 24315

- B) 42315  
 D) 24135

E) பதில் தெரியவில்லை

136. In the following question, select the missing number from the given alternatives.

?, 28, 65, 126, 217, 344

- A) 7  
 C) 9

- B) 4  
 D) 5

E) Answer not known

பின்வரும் கேள்வியில், கொடுக்கப்பட்ட மாற்றுகளிலிருந்து விடுபட்ட எண்ணைத் தேர்ந்தெடுக்கவும்.

?, 28, 65, 126, 217, 344

- A) 7  
 C) 9

- B) 4  
 D) 5

E) பதில் தெரியவில்லை

137. A series is given with one term missing. Select the correct alternative from the given ones that will complete the series.

J, O, T, Y, D, ?

- A) I  
 C) H

- B) J  
 D) K

E) Answer not known

ஒரு சொல் விடுபட்ட நிலையில் ஒரு தொடர் வழங்கப்படுகிறது. தொடரை நிறைவு செய்யும் கொடுக்கப்பட்டவற்றிலிருந்து சரியான மாற்றீட்டைத் தேர்ந்தெடுக்கவும்.

J, O, T, Y, D, ?

- A) I  
B) J  
C) H  
D) K  
E) பதில் தெரியவில்லை

138. In the following question, select the odd word from the given alternatives.

- A) Metre  
B) Kilometre  
C) Centimetre  
D) Litre  
E) Answer not known

பின்வரும் கேள்வியில், கொடுக்கப்பட்ட மாற்றுகளில் இருந்து ஒற்றைப்படை வார்த்தையைத் தேர்ந்தெடுக்கவும்.

- A) மீட்டர்  
B) கிலோமீட்டர்  
C) சென்டிமீட்டர்  
D) லிட்டர்  
E) பதில் தெரியவில்லை

139. In the following question, select the odd number pair from the given alternatives.

- A) 24 : 47  
B) 16 : 31  
C) 28 : 55  
D) 32 : 65  
E) Answer not known

பின்வரும் கேள்வியில், கொடுக்கப்பட்ட மாற்றுகளில் இருந்து ஒற்றைப்படை எண் ஜோடியைத் தேர்ந்தெடுக்கவும்.

- A) 24 : 47  
B) 16 : 31  
C) 28 : 55  
D) 32 : 65  
E) பதில் தெரியவில்லை

140. In the following question, select the odd letters from the given alternatives.

- A) ACEG  
B) MOQS  
C) FHIK  
D) PRTV  
E) Answer not known

பின்வரும் கேள்வியில், கொடுக்கப்பட்ட மாற்றுகளிலிருந்து ஒற்றைப்படை எழுத்துக்களைத் தேர்ந்தெடுக்கவும்.

- A) ACEG  
B) MOQS  
C) FHIK  
D) PRTV  
E) பதில் தெரியவில்லை

141. Choose the correct synonym for the underlined word:

The folk music and dances of Tamil Nadu represent the ethos, aesthetic, values and melody of the region.

- (A) Culture  
(B) Economy  
(C) History  
(D) Politics  
(E) Answer not known

142. Choose the correct Antonym for the underlined word from the options given:

Obscure, the meaning of his statement was lost on the audience.

- (A) clear  
(B) ambiguous  
(C) hidden  
(D) vague

(E) Answer not known

143. Choose the correct prefix for the underlined word from the options given:

He behaved in a very **Mature** manner.

(A) Un

(B) Pre

(C) Im

(D) Auto

(E) Answer not known

144. Fill in the blanks with suitable articles from the options given below:

They adopted \_\_\_\_\_ cat and \_\_\_\_\_ dog.

(A) the, the

(B) the, a

(C) a, a

(D) a, the

(E) Answer not known

145. Choose the appropriate preposition:

She is interested \_\_\_\_\_ learning new languages and plans to study \_\_\_\_\_ abroad.

(A) on, at

(B) in, in

(C) with, from

(D) to, on

(E) Answer not known

146. Choose the appropriate preposition:

He is fond \_\_\_\_\_ chocolate and can eat it \_\_\_\_\_ any time of the day.

(A) of, at

(B) from, at

(C) by, on

(D) with, in

(E) Answer not known

147. Match the following statements with their correct question tags:

List I

List II

(a) She can't drive,

1. won't he?

(b) They have left,

2. can she?

(c) He will join us,

3. haven't they?

(d) You didn't hear the news,

4. do they?

(e) They don't eat meat,

5. did you?

A) (a)-(2), (b)-(3), (c)-(1), (d)-(5), (e)-(4)

B) (a)-(1), (b)-(4), (c)-(2), (d)-(3), (e)-(5)

C) (a)-(2), (b)-(3), (c)-(5), (d)-(4), (e)-(1)

D) (a)-(3), (b)-(2), (c)-(4), (d)-(1), (e)-(5)

E) Answer not known

148. Select the correct tense:

By next summer, she \_\_\_\_\_ in New York for two years.

(A) will live

(B) will be living

(C) will have lived

- (D) lives
- (E) Answer not known

149. Choose the correct passive form of the given sentence from the given options:

The students will complete the project.

- (A) The project has been completed
- (B) The project was completed
- (C) The project will be completed
- (D) The project will have been completed
- (E) Answer not known

150. Fill in the blank with the suitable participial form of the verb

We watched the sunset—

- (A) was setting
- (B) setting
- (C) had set
- (D) sets
- (E) Answer not Known

151. In which of the following sentence infinitive is used?

- (A) Walking is a good exercise
- (B) Reading story books gives pleasure
- (C) To err is human
- (D) Can you teach painting?
- (E) Answer not Known

152. Identify the gerund form from the options given below:

- (A) They decided to travel
- (B) Baking cakes is her hobby
- (C) To write a novel takes time
- (D) He wants to swim
- (E) Answer not Known

153. Identify the sentence pattern in the following:

She sent her friend a birthday card.

- (A) S V IO DO
- (B) S V O C
- (C) S V C A
- (D) S V O A
- (E) Answer not Known

154. Identify the sentence which is not of the same pattern as the others.

- (A) The cake tastes delicious
- (B) The sun is shining
- (C) She looks beautiful
- (D) The soup smells good
- (E) Answer not Known

155. Form a compound word using Noun + Verb:

- (A) wallpaper
- (B) sunflower
- (C) brainstorm
- (D) lighthouse



(E) Answer not Known

156. Find out the correct compound word for Gerund + Noun from the options given below:

- (A) Moon light
- (B) Running track
- (C) Flashlight
- (D) Night owl
- (E) Answer not Known

157. Find the Odd one.

- (A) blackboard
- (B) doorstep
- (C) high school
- (D) teapot
- (E) Answer not Known

158. The British English word "Holiday" in American English is called \_\_\_\_\_.  
Choose the right option:

- (A) Festival
- (B) Break
- (C) Vacation
- (D) Leave
- (E) Answer not Known

159. Transform the following sentence into comparative degree.

Shakespeare is the greatest playwright in English literature.

- (A) Shakespeare is greater than many other playwrights in English literature.
- (B) Very few playwrights in English literature are as great as Shakespeare.
- (C) Shakespeare is greater than any other playwright in English literature.
- (D) No other playwright in English literature is as great as Shakespeare.
- (E) Answer not known.

160. Identify the simple sentence from the given options:

- (A) Though he was late, he attended the meeting.
- (B) He attended the meeting despite being late.
- (C) He was late but attended the meeting.
- (D) He attended the meeting even though he was late.
- (E) Answer not Known

161. Identify the kind of sentence:

The teacher explained the lesson, and the students took notes.

- (A) Simple
- (B) Compound
- (C) Conditional clause
- (D) Complex
- (E) Answer not Known

162. Identify the accurate plural form:

- (A) Attorneys general
- (B) Mouse's
- (C) Geeses
- (D) Major general's

(E) Answer not Known

163. Complete the sentence with the correct word:

The teacher instructed the ..... to line up quietly.

- (A) Child
- (B) Childs
- (C) Children
- (D) Childrens
- (E) Answer not Known

164. Identify the part containing an error:

She(a) / has(b) / completed(c) / their homework(d).

- (A) She
- (B) has
- (C) completed
- (D) their homework
- (E) Answer not Known

165. Fill in the blanks with correct homophone.

The — of the country was — by its people.

- (A) principle, principal
- (B) principal, principle
- (C) principle, principle
- (D) principal, principal
- (E) Answer not Known

166. Match the words with their phrases:

- | Words                | Phrases         |
|----------------------|-----------------|
| (a) Start working    | 1. look into    |
| (b) Investigate      | 2. keep up with |
| (c) Stay current     | 3. get started  |
| (d) Finish quickly   | 4. wrap up      |
| (a) (b) (c) (d)      |                 |
| (A) 3 1 2 4          |                 |
| (B) 4 2 1 3          |                 |
| (C) 2 1 3 4          |                 |
| (D) 1 3 2 4          |                 |
| (E) Answer not known |                 |

167. Match the words with their phrases:

- | Words                   | Phrases       |
|-------------------------|---------------|
| (a) Take responsibility | 1. figure out |
| (b) Solve a problem     | 2. step up    |
| (c) Work together       | 3. team up    |
| (d) Begin immediately   | 4. jump in    |
| (a) (b) (c) (d)         |               |
| (A) 2 1 3 4             |               |
| (B) 1 2 4 3             |               |
| (C) 3 2 1 4             |               |
| (D) 4 1 2 3             |               |
| (E) Answer not known    |               |

168. Choose the correct 'Synonym' by matching Column A and B:

- | Column A     | Column B    |
|--------------|-------------|
| (a) Luminous | 1. Radiant  |
| (b) Conceal  | 2. Disguise |
| (c) Ancient  | 3. Archaic  |
| (d) Tranquil | 4. Peaceful |
- (a) (b) (c) (d)
- (A) 1 2 3 4  
(B) 2 1 4 3  
(C) 3 2 1 4  
(D) 1 3 2 4  
(E) Answer not known

Read the Following Passage Carefully and answer the questions given below (169 – 173)

Adichanallur, a significant archaeological site located in Tamil Nadu's Thoothukudi district, has yielded extraordinary evidence of an ancient civilization. Recent excavations conducted by the Archaeological Survey of India have unearthed complex burial practices dated between 1000 BCE and 600 BCE. The site contains over 160 burial urns along with sophisticated metallurgical artifacts, including bronze figurines, iron weapons, and gold ornaments. Analysis of skeletal remains suggests the population practiced agriculture, hunting, and advanced metal working. The discovery of distinctive pottery styles, uniquely crafted burial urns, and foreign artifacts indicates extensive trade networks and a well-developed cultural identity.

169. The metallurgical evidence at Adichanallur suggests:
- (A) Limited knowledge of metal working  
(B) Advanced understanding of multiple metal types and processing techniques  
(C) Only iron working capabilities  
(D) Exclusive use of imported metal objects  
(E) Answer not known
170. Analysis of burial practices at Adichanallur indicates:
- (A) Simple burial traditions  
(B) Random placement of urns  
(C) Complex ritualistic funerary customs and social hierarchy  
(D) Absence of grave goods  
(E) Answer not known
171. The archaeological evidence of trade at Adichanallur reveals:
- (A) Isolated community with no external contact  
(B) Limited regional trade  
(C) Extensive networks reaching foreign territories  
(D) Only local exchange systems  
(E) Answer not known
172. The skeletal analysis from Adichanallur suggests the population was:
- (A) Nomadic hunters only  
(B) Exclusively agricultural  
(C) Mixed society with multiple occupations  
(D) Only traders  
(E) Answer not known

173. The chronological span of Adichanallur settlement indicates:
- (A) Short-term occupation
  - (B) Multi-generational sustained civilization
  - (C) Temporary trading post
  - (D) Recent settlement
  - (E) Answer not known
174. Which one of the following words is an example of a compound word consisting of an adverb + participle?
- (A) deeply rooted
  - (B) classroom
  - (C) bookkeeper
  - (D) sunlight
  - (E) Answer not Known
175. The compound word "washing machine" is of the form:
- (A) Noun + Noun
  - (B) Verb + Noun
  - (C) Gerund + Noun
  - (D) Adjective + Noun
  - (E) Answer not Known
176. The British English word "Post" in American English is called \_\_\_\_\_.  
Choose the right option:
- (A) Parcel
  - (B) Mail
  - (C) Package
  - (D) Letter
  - (E) Answer not Known
177. Select the correct sentence.
- (A) The lake is more deeper than the river.
  - (B) The lake is the deepest than the river.
  - (C) The lake is deeper than the river.
  - (D) The lake is deep than the river.
  - (E) Answer not known.
178. Choose the sentence which has no error.
- (A) I place great confidence on you
  - (B) I place great confidence in you
  - (C) I place great confidence of you
  - (D) I place great confidence with you
  - (E) Answer not Known
179. Choose the appropriate sentence with correct HOMOPHONE:
- (A) The dessert was delicious.
  - (B) The desert was delicious.
  - (C) The dessrt was delicious.
  - (D) None
  - (E) Answer not Known
180. Choose the correct pair of homophones to complete the following sentence:  
The musician decided to \_\_\_\_\_ a new song at the \_\_\_\_\_.



- (A) bury – berry
- (B) hire – higher
- (C) bare – bear
- (D) write – right
- (E) Answer not Known

181. Identify the right pair of sentences in active and passive form:

- (A) She paints the wall,  
The wall is painted by her
- (B) They are watching a movie –  
A movie is being watched by them
- (C) He is reading a book  
A book was read by him
- (D) We prohibit smoking  
Smoking has been prohibited
- (E) Answer not known

182. Fill in the blank with the right participle. Choosing from the given options.

.....by the news, she burst into tears.

- (A) Surprised
- (B) Surprising
- (C) To Surprise
- (D) Surprise
- (E) Answer not Known

183. Choose the appropriate preposition:

He is interested \_\_\_\_\_ learning new languages and has enrolled \_\_\_\_\_ a course.

- (A) on, at
- (B) with, in
- (C) in, for
- (D) by, since
- (E) Answer not known

184. Select the correct tense:

He \_\_\_\_\_ his homework before the deadline.

- (A) finishes
- (B) finished
- (C) will have finished
- (D) has finished
- (E) Answer not known

Read the Following Passage Carefully and answer the questions given below ( 185 – 189 )

The invention of the printing press by Johannes Gutenberg in the 15th century revolutionized communication and knowledge sharing. Before this innovation, books were handwritten by scribes, making them rare and expensive. The printing press allowed for mass production of books, making them more accessible and affordable. This led to increased literacy rates across Europe and facilitated the spread of new ideas during the Renaissance. Today, modern printing technology continues to evolve, but Gutenberg's basic concept remains influential.

185. Who invented the printing press?  
 (A) Leonardo da Vinci  
 (B) Johannes Gutenberg  
 (C) William Caxton  
 (D) Benjamin Franklin  
 (E) Answer not known
186. Before the printing press, books were:  
 (A) Mass produced  
 (B) Handwritten by scribes  
 (C) Printed by machines  
 (D) Digitally created  
 (E) Answer not known
187. The printing press was invented in the:  
 (A) 13th century  
 (B) 14th century  
 (C) 15th century  
 (D) 16th century  
 (E) Answer not known
188. The main impact of the printing press was:  
 (A) Reduced literacy  
 (B) Higher book costs  
 (C) Limited access to books  
 (D) Increased accessibility to books  
 (E) Answer not known
189. The printing press contributed to:  
 (A) The Dark Ages  
 (B) The Renaissance  
 (C) The Ice Age  
 (D) The Stone Age  
 (E) Answer not known
190. Choose the appropriate preposition:  
 Everything falls to the ground \_\_\_\_\_ earth's gravitational pull.  
 (A) in addition to  
 (B) because of  
 (C) cause of  
 (D) despite of  
 (E) Answer not known
191. Form a compound word using Noun + Verb:  
 (A) classroom  
 (B) mouthwash  
 (C) snowfall  
 (D) toothpaste  
 (E) Answer not known
192. Choose the correct "Antonym" for the underlined word from the options given.  
 The room felt gloomy on a rainy day.  
 (A) Bright

- (B) Dark
- (C) Sad
- (D) Dim
- (E) Answer not known

193. Choose the correct "Antonym" for the underlined word from the options given.

The medicine was considered an **elixir** for all ailments.

- A) Poison
- B) Tonic
- C) Cure
- D) Remedy
- E) Answer not known

194. Choose the correct synonym for the underlined word:

She was **tending** to her garden in the morning.

- A) Ignoring
- B) Destroying
- C) Maintaining
- D) Watching
- E) Answer not known

195. Pick out the sentence which is in the active voice:

- (A) You will be informed later.
- (B) Portuguese is spoken in Brazil.
- (C) My grandfather built this house in 1943.
- (D) The animals should not be hurt.
- (E) Answer not known

196. Choose the correct question tag:

They will wash the car, \_\_\_\_\_

- (A) will it?
- (B) won't they?
- (C) wouldn't they?
- (D) won't he?
- (E) Answer not known

197. In British English, what is the equivalent term for the American "Cell phone"?

- (A) Torch
- (B) Mobile phone
- (C) Trash can
- (D) Lorry
- (E) Answer not known

198. Find out the blended form of News + Broadcast.

- (A) Newsbrod
- (B) Newscast
- (C) Newbroadcast
- (D) Newscasting
- (E) Answer not known

199. Choose the correct meaning for the phrase "**break down**":

- (A) Build up
- (B) Collapse

- (C) Improve
- (D) Assemble
- (E) Answer not known

200. Fill in the blank with the suitable article.

Vishal drew \_\_\_\_\_ wonderful picture on the board yesterday.

- (A) An
- (B) The
- (C) A
- (D) No article
- (E) Answer not known

